

Prezado (a) candidato (a):

Coloque seu número de inscrição e nome no quadro abaixo. Na folha de resposta, preencha com traços firmes, o espaço reservado a cada opção.

Nº.de
Inscrição

Nome

PROVA DE LÍNGUA PORTUGUESA

Leia com atenção a tira em destaque.

As questões 1 a 3 referem-se a ela. Consulte-a, sempre que necessário.



QUESTÃO 01

Sobre a tira de Maurício de Souza, é possível **afirmar**:

- I. A palavra *repiti* apresenta duplo sentido, o que se pode ver pelos efeitos presentes no primeiro e no terceiro quadrinhos.
- II. A resposta da mãe de Chico Bento tem relação com a situação social em que o diálogo se apresenta.
- III. Chico Bento não tem a intenção de promover a dupla interpretação quando faz a pergunta, na primeira cena.
- IV. A rapidez com que a pasta escolar e o boletim aparecem nas mãos do personagem elucida sua inocência.

São **CORRETAS** as afirmativas:

- a) I e II apenas.
- b) II e III apenas.
- c) I, III apenas.
- d) III e IV apenas.

QUESTÃO 02

Quanto à linguagem usada pelos personagens na tirinha em estudo, só **NÃO** se pode afirmar que:

- a) alguns dos usos, como *repiti* e *num passo di ano*, não diferenciam o falante do meio rural do falante do meio urbano de várias regiões brasileiras.
- b) a oralidade predomina no decorrer do diálogo, com marcas lingüísticas exclusivas do falante não escolarizado.
- c) Em *cas* pode-se perceber a junção da preposição *com* e o artigo feminino plural *as*, sem prejuízo do sentido promovido no diálogo.
- d) Na palavra *fio*, pode-se perceber um movimento de redução da palavra *filho*, o mesmo que se vê em vários outros usos, como em *milho/mio*.

QUESTÃO 03

Sobre as personagens só é possível afirmar que:

- a) pertencem ao mundo rural, o que é indicado pelo comportamento entre mãe e filho.
- b) Chico Bento pode ser considerado pouco inteligente, o que sugere seu discurso ambíguo.
- c) A mãe de Chico Bento foi pega de surpresa, efeito deflagrado pela atitude do filho ao mostrar o boletim.
- d) Agem sem se dar conta de como a língua promove sentidos ricos, mutantes, variáveis.

O sobrevivente

Drauzio Varella

Com uma caixa de engraxate pintada de amarelo pendurada no ombro, o rapaz cruzou a rua em minha direção:

— Não sei se o senhor lembra de mim, mas quando estive lá me chamavam de Neguinho de Guaianases, para diferenciar do finado Negão de Pirituba que era alto e forte.

Para ser sincero, não lembrava dele nem do finado, mas se dizia que estivera lá, pelo menos ficava claro de onde nos conhecíamos. Todo ex-presidiário que encontro pela rua se refere à extinta Casa de Detenção dessa forma, como se trouxesse mau agouro pronunciar o nome do presídio.

— Quanto tempo você cumpriu lá?

— Seis anos.

— Não voltou mais para a cadeia?

— Deus me livre, agora sou trabalhador.

— E dá para viver engraxando sapato?

Explicou que, saindo de casa às sete da manhã e voltando às nove da noite, conseguia tirar R\$ 40 a R\$ 50 por dia, quantia suficiente para pagar os R\$ 150 do aluguel de um cômodo no Bexiga e as demais despesas fixas.

E ainda sobrava para visitar os irmãos em Itaquaquecetuba aos domingos, para um baile em Pinheiros de vez em quando e para pagar o hotelzinho na saída, nas noites em que os céus ouviam suas preces.

Com a caixa amarela nas costas, percorria dez a quinze quilômetros por dia no encalço da clientela:

— Procuo passar em lugar que tem homem parado: ponto de táxi, porta de bar, restaurante com fila de espera, praça com aglomeração de aposentado. Cobro de acordo com a aparência do cidadão: R\$ 2 se aparentar ser trabalhador; R\$ 5 se tiver cara de rico.

Neguinho foi aluno comportado até os treze anos, quando o primo que mais admirava o convidou para distribuir panfleto no Largo da Concórdia. Nessa fase, pegou o gosto por dinheiro, por roupas da hora e conheceu a maconha. Para desgosto do pai, pedreiro em Guaianases, parou de estudar.

Um dia, o primo decidiu mudar de ramo:

— Disse que não se conformava com aquela mixaria; tinha nascido para uma vida melhor. Levantou a camisa e exibiu o revólver no cinto. "Vem comigo, é apontar a arma e pegar o dinheiro."

Neguinho não tinha coragem; dois de seus amigos de infância haviam acabado de morrer num tiroteio na Vila. Mas, o mais velho insistiu:

— Eu enquadro as vítimas e você recolhe o dinheiro e os objetos de valor. É só ficar de cabisbaixo para ninguém te reconhecer mais tarde. Não requer prática nem tampouco habilidade.

Na primeira vez, quando assaltaram uma loja do bairro, tudo se passou como o primo previra. Na partilha, coube R\$ 300 para cada um:

— Nunca tinha visto tanto dinheiro junto. Deu gosto no bolso. Comprei blusa para minha mãe, camiseta para o pai, dei dinheiro para os irmãos e saí com o primo para gastar na cidade.

Aos 17 anos foi parar na Febem. Saiu com 18, mais esperto e com novas amizades.

Juntou-se ao inseparável primo e formaram uma quadrilha.

Meses mais tarde, o primo foi morto por justiceiros a serviço dos comerciantes da Vila.

Uma noite, Neguinho e dois comparsas assaltaram um posto de gasolina e fugiram num carro roubado. Cinco minutos mais tarde foram cercados por duas viaturas de polícia. Os policiais gritaram para que jogassem as armas e saíssem com as mãos na cabeça. Pensaram em reagir, mas prevaleceu o bom senso do finado Alemão:

— Era o mais experiente de nós. Disse que se a gente atirasse morria no ato: era três contra oito.

Preso em flagrante, foi levado para a detenção. Acabou condenado a seis anos e três meses por dois assaltos a mão armada; nada mal para quem havia praticado mais de trinta.

Na cadeia, adotou uma atitude humilde, estratégia à qual atribui a sobrevivência:

— Dos que tinham fama de bandidão, sangue nos olhos, só um escapou vivo.

Quando Neguinho foi libertado, construiu a caixa de engraxate, pintou-a de sua cor favorita e jurou nunca mais por os pés num lugar daqueles.

Quando perguntei se era mais feliz engraxando sapato, respondeu com um sorriso:

— Nem compara, doutor. Sabe o que é viver com medo? Qualquer carro que passa, imaginar que os justiceiros chegaram? O senhor entrar numa padaria, pedir uma média com pão e manteiga e não ter o direito de sentar de costas para a porta?

São Paulo, sábado, 07 de julho de 2007 FOLHA DE S. PAULO **ilustrada**

QUESTÃO 04

Textos são composições que se apresentam coesivamente, ou seja, idéias, frases, parágrafos, se articulam por meio de elementos concretos, visíveis, de forma a dar sequência e ligação entre as idéias.

Quanto ao trecho em destaque a seguir, estão corretas as indicações de elementos coesivos, **EXCETO**:

Com uma caixa de engraxate pintada de amarelo pendurada no ombro, o rapaz cruzou a rua em minha direção:

— Não sei se o senhor lembra de mim, mas quando estive lá me chamavam de *Neguinho de Guaianases*, para diferenciar do finado *Negão de Pirituba* que era alto e forte.

Para ser sincero, não lembrava dele nem do finado, mas se dizia que estivera lá, pelo menos ficava claro de onde nos conhecíamos. Todo ex-presidiário que encontro pela rua se refere à extinta Casa de Detenção dessa forma, como se trouxesse mau agouro pronunciar o nome do presídio.

- a) em minha direção / o senhor.
- b) o rapaz / dele.
- c) lá / Casa de Detenção.
- d) Finado / Negão de Pirituba.

QUESTÃO 05

Há várias formas de se fazer uma comparação. No trecho, *me chamavam de Neguinho de Guaianases, para diferenciar do finado Negão de Pirituba que era alto e forte*, pode-se dizer que há dois grupos de idéias que promovem o sentido de comparação – um relacionado à descrição de personagens e outro relacionado ao estado de personagens.

Assinale a alternativa que apresenta uma comparação que ilustra o estado de personagens:

- a) a explicitação da palavra 'diferenciar'.
- b) a presença de uma voz que se manifesta e a adjetivação *finado*.
- c) o jogo diminutivo/aumentativo *Neguinho/Negão*.
- d) a distinção entre os espaços *Guaianases* e *Pirituba*.

QUESTÃO 06

Há várias simbologias para a cor amarela, segundo os estudiosos Jean Chevalier e Alain Gheerbrant:

I - Para os mexicanos, o amarelo é a cor da pele nova da terra, no início da estação das chuvas. Está, então, associada ao mistério da Renovação.

II - Para os astecas, é a cor das divindades do Além, dos seres sobrenaturais, que comandam o universo.

III - Para muitas culturas, tem o significado da eternidade, é o tom da vida eterna, da fé.

IV - Para os chineses, anuncia o outono, o declínio, a aproximação da morte, a cor da direção dos abismos subterrâneos.

Uma possível associação entre a simbologia e a cor escolhida por Neguinho de Guaianases para sua caixa de engraxate está:

- a) em I, porque, de acordo com o texto, a vida do personagem se renovou, ele passou de uma situação de marginalidade para a situação de trabalhador.
- b) Em II, porque o texto indica que a mudança que se deu na vida do personagem foi guiada por forças do Além.
- c) Em III, porque, segundo o texto, não há chances de o personagem voltar ao mundo do crime.
- d) Em IV, porque, depois de preso por seis anos, o personagem já estava em fase de decadência, aproximando-se da morte.

QUESTÃO 07

Assinale a alternativa que **NÃO** apresenta explicação adequada para o trecho em destaque:

- a) Para pagar o hotelzinho na saída, *nas noites em que os céus ouviam suas preces.* **(envolvimento erótico)**
- b) *É apontar a arma e pegar o dinheiro.* **(empresa fácil)**
- c) Dos que tinham fama de bandidão, *sangue nos olhos.* **(drogados)**
- d) E jurou nunca mais por os pés *num lugar daqueles.* **(em prisões)**

QUESTÃO 08

Os verbos assinalados no trecho em destaque revelam:

Quando Neguinho foi libertado, **construiu** a caixa de engraxate, **pintou-a** de sua cor favorita e **jurou** nunca mais por os pés num lugar daqueles.

- a) a significativa ajuda que Neguinho recebeu ao sair da prisão.
- b) a forte contribuição do sistema social para a reintegração de Neguinho.
- c) o firme propósito de Neguinho de refazer a própria vida.
- d) o fácil caminho encontrado por Neguinho para se reerguer.

QUESTÃO 09

As alternativas abaixo apresentam trechos originais cuja pontuação foi alterada.

Assinale aquela em que a alteração **NÃO** é adequada à estrutura do trecho.

- a) — Nunca tinha visto tanto dinheiro junto. Deu gosto no bolso. Comprei blusa para minha mãe, camiseta para o pai, dei dinheiro para os irmãos e saí com o primo para gastar na cidade.
- Nunca tinha visto tanto dinheiro junto. Deu gosto no bolso: comprei blusa para minha mãe, camiseta para o pai, dei dinheiro para os irmãos e saí com o primo para gastar na cidade.
- b) Acabou condenado a seis anos e três meses por dois assaltos a mão armada; nada mal para quem havia praticado mais de trinta.
- Acabou condenado a seis anos e três meses por dois assaltos a mão armada — nada mal para quem havia praticado mais de trinta.
- c) Na cadeia, adotou uma atitude humilde, estratégia à qual atribui a sobrevivência:
- Na cadeia, adotou uma atitude humilde! Estratégia à qual atribui a sobrevivência.
- d) Quando Neguinho foi libertado, construiu a caixa de engraxate, pintou-a de sua cor favorita e jurou nunca mais por os pés num lugar daqueles.
- Quando Neguinho foi libertado, construiu a caixa de engraxate; pintou-a de sua cor favorita; e jurou nunca mais por os pés num lugar daqueles.

QUESTÃO 10

No trecho abaixo, todos os elementos destacados são complementos verbais, **EXCETO**:

Preso em flagrante, foi levado para a detenção. Acabou condenado **a seis anos e três meses** por dois assaltos a mão armada; nada mal para quem havia praticado mais de trinta.

Na cadeia, adotou **uma atitude humilde**, estratégia **à qual** atribui a sobrevivência:

— Dos que tinham fama de bandidão, sangue nos olhos, só um escapou vivo.

Quando Neguinho foi libertado, construiu a caixa de engraxate, pintou-a de sua cor favorita e jurou nunca mais por os pés num lugar daqueles.

Quando perguntei **se era mais feliz engraxando sapato**, respondeu com um sorriso:

— Nem compara, doutor. Sabe o que é viver com medo? Qualquer carro que passa, imaginar que os justiceiros chegaram? O senhor entrar numa padaria, pedir uma média com pão e manteiga e não ter o direito de sentar de costas para a porta?

- a) A seis anos e três meses.
- b) Uma atitude humilde.
- c) À qual.
- d) Se era mais feliz engraxando sapato.

PROVA DE NOÇÕES DE INFORMÁTICA

QUESTAO 11

Em um sistema operacional Linux, o comando “**grep**” pode procurar por arquivos, cujo nome seguem um determinado padrão. Supondo que a execução da linha de comando “**ls | grep ivo**” em um diretório qualquer não retorne nada como saída, analise as seguintes afirmativas:

- I. O diretório corrente pode estar vazio.
- II. O diretório corrente não contém um arquivo de nome “arquivo”.
- III. O diretório corrente pode conter um arquivo de nome “grep”.

São **CORRETAS** as afirmativas:

- a) I e II, apenas.
- b) I e III, apenas.
- c) II e III, apenas.
- d) I, II e III.

QUESTÃO 12

Analise as seguintes afirmativas sobre o sistema operacional Linux.

- I. XP é o nome de uma versão do Linux.
- II. É possível utilizar interface gráfica no Linux.
- III. É possível utilizar o Firefox como navegador Web no Linux.

São **CORRETAS** as afirmativas:

- a) I e II, apenas.
- b) I e III, apenas.
- c) II e III, apenas.
- d) I, II e III.

QUESTÃO 13

Em relação ao Microsoft Outlook Express 6, versão português, todas as afirmativas estão corretas, **EXCETO**:

- a) O botão “Enviar e Receber todas” da barra de ferramentas verifica se há novas mensagens e envia os e-mails que estão na “Caixa de saída”.
- b) A pasta local “Rascunhos” é opcional e pode ser excluída.
- c) É possível configurar para que a pasta “Itens Excluídos” seja esvaziada ao sair do Outlook.
- d) Na janela “Nova mensagem”, a opção de menu “Exibir → Todos os cabeçalhos” exhibe a caixa “Cco” de cópia oculta.

QUESTÃO 14

Em relação ao Internet Explorer 7, versão português, julgue os itens a seguir, marcando com **(V)** a assertiva verdadeira e com **(F)** a assertiva falsa.

- () CTRL+T abre uma nova janela do Internet Explorer.
- () F11 maximiza a janela para tela inteira.
- () CTRL+P salva página atual no formato *portable*.
- () CTRL+W fecha a guia atual (se a navegação com guias estiver ativada).

Assinale a opção com a sequência **CORRETA**

- a) V, F, V, F.
- b) F, V, F, V.
- c) V, V, F, V.
- d) F, V, V, F.

QUESTÃO 15

Em relação às opções de menu do Microsoft Excel, versão português do Office XP, todas as afirmativas estão corretas, **EXCETO**:

- a) Com a opção de menu “Dados → Atingir meta...”, o Excel pode variar o valor em uma célula específica até que uma fórmula dependente daquela célula retorne o resultado desejado.
- b) Com a opção de menu “Dados → Classificar...” é possível classificar um intervalo de células selecionadas em ordem crescente ou decrescente.
- c) Sobre as opções de filtro do menu “Dados → Filtrar”, quando um filtro é aplicado a uma coluna, os únicos filtros disponíveis para outras colunas são os valores visíveis no intervalo filtrado atualmente.
- d) Com a opção de menu “Dados → Tabela...”, é possível criar uma tabela de dados com duas variáveis.

QUESTÃO 16

Analise as seguintes afirmativas sobre as teclas de atalho do Microsoft Excel, versão português do Office XP.




- I. CTRL+F1 exibe ou esconde o “Painel de tarefas”.
- II. CTRL+1 abre a janela “Formatar células”.
- III. CTRL+F7 ativa a opção “Verificar ortografia...”.

São **CORRETAS** as afirmativas:

- a) I e II, apenas.
- b) I e III, apenas.
- c) II e III, apenas.
- d) I, II e III.

QUESTÃO 17

Analise as seguintes afirmativas sobre a barra de ferramentas do Microsoft Excel, versão português do Office XP.

- I.  permite alinhar à direita o conteúdo de uma célula.
- II.  permite mesclar e centralizar o conteúdo das células em uma linha ou coluna.
- III.  permite configurar o “Estilo de moeda”.

São **CORRETAS** as afirmativas:

- a) I e II, apenas.
- b) I e III, apenas.
- c) II e III, apenas.
- d) I, II e III.

QUESTÃO 18

Considere uma planilha do Microsoft Excel, versão português do Office XP, com as seguintes células preenchidas, conforme figura abaixo:

	A	B
1	1	1
2	2	2
3	3	3

Analise as seguintes afirmativas sobre o conteúdo destas células:

- I. O conteúdo da célula B1 pode ser “=A1”.
- II. O conteúdo da célula B2 pode ser “=2”.
- III. O conteúdo da célula B3 pode ser “=SOMA(B1:B2)”.

São **CORRETAS** as afirmativas:

- a) I e II, apenas.
- b) I e III, apenas.
- c) II e III, apenas.
- d) I, II e III.




QUESTÃO 19

São opções disponíveis no menu “Tabela → Inserir” do Microsoft Word, versão português do Office XP, **EXCETO**:

- a) Linhas de grade
- b) Colunas à esquerda
- c) Linhas acima
- d) Células

QUESTÃO 20

Analise as seguintes afirmativas sobre as definições de bordas para tabelas disponíveis na janela “Bordas e sombreamento” do Microsoft Word, versão português do Office XP.

- I.  retira todas as bordas das células selecionadas em uma tabela.
- II.  insere bordas ao redor da seleção de células de uma tabela.
- III.  insere bordas ao redor de cada célula selecionada em uma tabela.

São **CORRETAS** as afirmativas:

- a) I e II, apenas.
- b) I e III, apenas.
- c) II e III, apenas.
- d) I, II e III.

QUESTÃO 21

São opções de recuo disponíveis na janela acionada pelo menu “Formatar → Parágrafo...” do Microsoft Word, versão português do Office XP, **EXCETO**:

- a) Direito: valor de recuo do parágrafo a partir da margem direita.
- b) Esquerdo: valor de recuo do parágrafo a partir da margem esquerda.
- c) Antes: valor de recuo antes do parágrafo selecionado.
- d) Por: valor de recuo da primeira linha ou do deslocamento.

QUESTAO 22

Associe os intervalos de páginas às suas respectivas descrições de acordo com as configurações de impressão disponíveis no Microsoft Word, versão português do Office XP.

- | | | |
|------------|-----|--|
| 1;3-5;7;10 | () | Imprime as páginas 1, 2, 3, 5, 6, 7 e 10 |
| 1;3;5-7;10 | () | Imprime as páginas 1, 2, 3, 5, 7, 8, 9, 10 |
| 1-3;5;7-10 | () | Imprime as páginas 1, 3, 4, 5, 7 e 10 |
| 1-3;5-7;10 | () | Imprime as páginas 1, 3, 5, 6, 7 e 10 |

Está **CORRETA** a seguinte seqüência de respostas:

- a) II, IV, I, III.
- b) IV, III, I, II.
- c) I, III, IV, II.
- d) II, IV, III, I.

QUESTAO 23

São opções de exibição de arquivos e pastas disponíveis no menu “Exibir” do Windows Explorer, versão português do Microsoft Windows XP, **EXCETO**:

- a) Nomes
- b) Ícones
- c) Miniaturas
- d) Detalhes

QUESTAO 24

Todas as afirmativas sobre as teclas de atalho do Windows Explorer, versão português do Microsoft Windows XP, estão corretas, **EXCETO**:

- a) CTRL+A seleciona todo conteúdo de uma pasta.
- b) CTRL+V cola o conteúdo da área de transferência na pasta selecionada.
- c) CTRL+Z desfaz a última operação realizada.
- d) CTRL+I inverte a seleção atual.

QUESTÃO 25

Analise as seguintes afirmativas sobre as guias disponíveis na janela “Opções de pasta”, que é acionada a partir do menu “Ferramentas → Opções de pasta...” no Windows Explorer, versão português do Microsoft Windows XP.

- I. Na guia “Tipos de arquivo” é possível configurar se os arquivos devem ser abertos após clicar uma ou duas vezes com o mouse.
- II. Na guia “Geral” é possível configurar a abertura de cada pasta em sua própria janela.
- III. Na guia “Modo de exibição” é possível permitir a exibição de pastas e arquivos ocultos.

São **CORRETAS** as afirmativas:

- a) I e II, apenas.
- b) I e III, apenas.
- c) II e III, apenas.
- d) I, II e III.

PROVA DE CONHECIMENTOS ESPECÍFICOS PARA O CARGO DE AUXILIAR DE ALMOXARIFADO

QUESTÃO 26

O armazenamento em depósitos tem dentre seus objetivos minimizar custos e maximizar o atendimento aos clientes. Para que estes objetivos sejam atingidos, as operações dos depósitos devem ser eficientes e desempenhar as tarefas abaixo, **EXCETO**:

- a) Oferecer um atendimento pontual aos clientes.
- b) Manter um controle de itens, de modo que eles possam ser encontrados pronta e corretamente.
- c) Fornecer elos de comunicação com os clientes.
- d) Atualizar os dados cadastrais de fornecedores.

QUESTÃO 27

Ao se trabalhar com itens em estoque, deve-se ter um cuidado muito grande com a localização destes no espaço físico disponível, orientando-se pelas características dos diversos grupos de produtos/itens. Dessa forma, os chamados itens de giro rápido, devem ser colocados:

- a) Perto da área de recebimento e embarque.
- b) Próximo aos corredores centrais.
- c) Junto aos *pallets* no final dos estoques.
- d) Em prateleiras específicas nas posições superiores do estoque.

QUESTÃO 28

Neste sistema, atribui-se a uma unidade de armazenamento uma localização ou localizações permanentes e nenhum outro item é estocado ali. Este sistema possibilita armazenar e retirar itens com um mínimo de registros.

Com base na definição acima, marque a opção **CORRETA** para este tipo de localização de estoque:

- a) Central.
- b) Fixa.
- c) Flutuante.
- d) De ponto de uso.

QUESTÃO 29

São exemplos de causas de erros nos registros de estoque, **EXCETO**:

- a) Retirada de material sem autorização.
- b) Facilitação para auditorias regulares.
- c) Depósito sem segurança.
- d) Pessoal mal treinado.

QUESTÃO 30

A _____ é a quantidade de variação permissível entre um registro de estoque e a contagem física. A alternativa que completa **CORRETAMENTE** o texto é:

- a) frequência.
- b) permissão.
- c) tolerância.
- d) contagem virtual.

QUESTAO 31

Para que realizemos com a qualidade devida, os procedimentos de um inventário físico, é necessário que se observem três fatores principais. **SÃO ELES:**

- a) Arrumação; orientação; e conferência.
- b) Identificação; organização; e execução.
- c) Treinamento; avaliação; e controle.
- d) Arrumação; identificação; e treinamento.

QUESTAO 32

O sistema rotativo de inventário pode ser classificado em três tipos, que serão apresentados na primeira coluna abaixo. Correlacione a segunda com a primeira coluna.

- | | |
|---------------------------|---|
| 1 – Inventário automático | () solicitação para inventário por amostragem de item |
| 2 – Inventário programado | () solicitação para inventário item a item |
| 3 – Inventário a pedido | () solicitação para inventário item a item por interesse de órgãos específicos |

Escolha a alternativa que represente a sequência **CORRETA**, de cima para baixo.

- a) 2; 1; 3;
- b) 1; 2; 3;
- c) 3; 1; 2;
- d) 2; 3; 1;

QUESTAO 33

As principais causas que exigem estoque permanente para o imediato atendimento do consumo interno e das vendas da empresa são, **EXCETO:**

- a) Necessidade de continuidade operacional.
- b) Incerteza da demanda futura ou de sua variação ao longo do período de planejamento.
- c) Necessidade de avaliação periódica de novos itens de estoque.
- d) Disponibilidade imediata do material nos fornecedores e cumprimento dos prazos de entrega.

QUESTAO 34

Um dos métodos mais conhecidos e utilizados para a classificação de materiais para cálculo de reposição de estoques é a chamada curva ABC. Leia as afirmativas abaixo e classifique-as como F (falso) ou V (verdadeiro).

- () A classe A representa o grupo de menor valor de consumo e maior quantidade de itens.
- () O tempo de reposição é um dos fatores que influenciam na composição da Curva ABC.
- () A elaboração da tabela mestra é uma das fases da técnica de montagem da curva ABC, que pode ser desprezada dependendo da característica do item.

Assinale a alternativa que traz a sequência **CORRETA**, de cima para baixo:

- a) F; V; F;
- b) V; F; V;
- c) F; V; V;
- d) V; F; F;

QUESTAO 35

A Nota Fiscal é um documento emitido pelo fornecedor quando da aquisição de materiais, dentre outras com a finalidade de notificação ao fisco dos impostos envolvidos na transação. São impostos que podem ser identificados em uma Nota Fiscal de entrega, **EXCETO**:

- a) Imposto sobre Produto Industrializado – IPI.
- b) Imposto sobre Circulação de Mercadorias – ICMS.
- c) Imposto sobre Serviço de Qualquer Natureza – ISS.
- d) Imposto de Renda Retido na Fonte – IRRF.

QUESTÃO 36

Quando da recusa de recebimento de um material, tem-se que:

As divergências constatadas devem ser apontadas no ____I____ e também no ____II____, procurando assegurar-se o ressarcimento de danos, se for o caso, e, no caso de irregularidades insanáveis, deve-se recusar o recebimento, anotando-se no ____III____ as circunstâncias que motivaram a recusa, bem como nos ____IV____.

Escolha a alternativa que complete as lacunas acima e torne o texto **CORRETO**:

- a) I – conhecimento de fabricação; II - canhoto da Nota Fiscal; III – verso da 2ª via da Nota Fiscal; IV – documentos do transportador.
- b) I – conhecimento de transporte; II - canhoto da Nota Fiscal; III – verso da 1ª via da Nota Fiscal; IV – documentos do transportador.
- c) I – conhecimento de transporte; II - verso da Nota Fiscal; III – canhoto da 1ª via da Nota Fiscal; IV – documentos do produto.
- d) I – conhecimento de entrega; II - canhoto da Nota Fiscal; III – canhoto da 2ª via do conhecimento de transporte; IV – documentos do transportador.

QUESTÃO 37

A atividade de _____ caracteriza-se pelo controle do processo de recebimento, pela conferência qualitativa e quantitativa, por meio do laudo da Inspeção Técnica e da confrontação quantidades conferidas *versus* faturadas, respectivamente, para decisão de aceitar ou recusar, e, finalmente, pelo encerramento do processo.

Assinale a alternativa que preenche a lacuna acima tornando a definição **CORRETA**.

- a) Verificar.
- b) Liberar.
- c) Regularizar.
- d) Atender.

QUESTAO 38

Os ____I____ são diretamente afetados pela capacidade demonstrada na ____II____, de identificar e ____III____ com precisão ____IV____, à medida que estes são necessários.

Escolha a alternativa que complete as lacunas acima e torne o texto **CORRETO**.

- a) I – investimentos em estoque; II – organização; III – apurar; IV – materiais disponíveis.
- b) I – custos de estoque; II – recepção de materiais; III – localizar; IV – materiais em processo.
- c) I – investimentos em estoque; II – recepção de materiais; III – localizar; IV – materiais disponíveis.
- d) I – custos de estoque; II – organização; III – localizar; IV – materiais disponíveis.

QUESTAO 39

São critérios utilizados para avaliação do fornecedor, quanto ao desempenho de seus fornecimentos, **EXCETO**:

- a) Capacidade financeira.
- b) Qualidade do produto.
- c) Desempenho do produto em serviço.
- d) Cumprimento de prazos de entrega.

QUESTAO 40

Os custos de pedidos em uma fábrica incluem:

- a) Controle de preparação; produção e desmontagem; capacidade perdida; pedidos de fornecimento.
- b) Controle de produção; preparação e desmontagem; capacidade perdida; pedidos de compra.
- c) Controle de preparação; produção e montagem; capacidade perdida; pedidos de compra.
- d) Controle de produção; preparação e desmontagem; capacidade produtiva; pedidos de fornecimento.