

# CONCURSO PÚBLICO

Edital 001/2017



## CÂMARA MUNICIPAL DE SANTA LUZIA

### CADERNO DE PROVAS

CADERNO

**9**

CARGO:

COORDENADOR DE RECURSOS HUMANOS

PROVAS:

- LÍNGUA PORTUGUESA
- MATEMÁTICA / RACIOCÍNIO LÓGICO
- LEGISLAÇÃO
- NOÇÕES DE INFORMÁTICA
- CONHECIMENTOS ESPECÍFICOS

Leia, atentamente, as instruções gerais que se encontram no verso desta capa.

## INSTRUÇÕES GERAIS:

1. Este caderno de provas contém um total de **50** (cinquenta) questões objetivas, sendo 10 de Língua Portuguesa, 7 de Matemática/Raciocínio Lógico, 10 de Legislação, 8 de Noções e Informática e 15 de Conhecimentos Específicos. Confira-o.
2. As provas para todos os cargos terão duração de, no mínimo, **1 (uma) hora** e, no máximo, de **4 (quatro) horas**, incluído o tempo destinado à transcrição de suas respostas no gabarito oficial.
3. Respondidas as questões, você deverá passar o gabarito para a sua folha de respostas, usando caneta esferográfica azul ou preta.
4. Em nenhuma hipótese haverá substituição da Folha de Respostas por erro do candidato.
5. Este caderno deverá ser devolvido ao fiscal, juntamente, com a folha de respostas, devidamente preenchidos e assinados.
6. Por motivo de segurança, os candidatos somente poderão ausentar-se do recinto de realização das provas objetivas decorrida **1 (uma)** hora do início de aplicação das mesmas.
7. Você pode transcrever suas respostas na última folha deste caderno e a mesma poderá ser destacada.
8. As questões, os gabaritos e os cadernos das Provas Objetivas serão publicados no quadro de avisos de publicação oficial dos atos da Câmara Municipal de Santa Luzia e divulgados no endereço eletrônico da FUMARC [www.fumarc.org.br](http://www.fumarc.org.br) até o dia 11 de outubro de 2017.
9. A comissão organizadora da FUMARC Concursos lhe deseja uma boa prova.

Prezado(a) candidato(a):

Coloque seu número de inscrição e nome no quadro abaixo:

Nº de Inscrição	Nome
<input type="text"/>	<input type="text"/>

**ASSINALE A RESPOSTA CORRETA.**

## PROVA DE LÍNGUA PORTUGUESA

**Quantos amigos seus estão na Cracolândia?**

Antônio Prata

Carl Hart é psicólogo, psiquiatra e foi o primeiro negro a alcançar o posto de professor titular de neurociências na Universidade de Columbia, em Nova York. Em 2015, Hart veio ao Brasil divulgar seus estudos sobre drogas e vício. Numa entrevista ao Drauzio Varella, falou sobre sua pesquisa com ratos e macacos, em laboratório. Quando se coloca um animal sozinho numa jaula, capaz de acionar uma alavanca e receber uma dose de cocaína ou meta-anfetamina na veia, o bicho acionará a alavanca até morrer. Quando, porém, há mais estímulos na jaula, além da alavanca, como um outro animal sexualmente ativo, uma rodinha (no caso dos ratos) ou doces, as cobaias sobrevivem.

Extrapolando seus insights para humanos, o que Hart prega é que não adianta combater o vício sem apresentar alternativas à droga. A Cracolândia, ele insistiu em entrevistas e palestras, por aqui, não pode ser pensada pela perspectiva do vício sem ser pensada antes pela perspectiva da miséria.

Imagine que você é um mendigo viciado em crack. Seus pertences são uma calça esfarrapada, uma camiseta imunda, um par de Havaianas, um isqueiro. Você se lembra vagamente de ter tido metade de um pente, num passado não muito distante, mas não sabe onde foi parar. Sua existência se resume a pedir dinheiro no farol e a fumar crack. Nos minutos que duram a viagem, você se esquece de tudo. O resto do tempo é o inferno.

Um belo dia você decide parar com o crack. Você luta, faz um esforço sobre-humano e depois de meses está curado. Você deita sob uma marquise na rua Helvétia, apoia a cabeça num paralelepípedo, dá um gole numa poça d'água e pensa: agora eu sou um mendigo saudável! Pensa no futuro. Posso arrumar um trapo para limpar os vidros dos carros, no farol. Quem sabe, vender Sufclair? Se me esforçar bastante, consigo um carrinho e um cachorro, virarei catador. Talvez você seja uma pessoa mais solar do que eu, mas devo admitir que, se estivesse naquela situação, escolheria o crack. Ficaria na minha jaula acionando a alavanca até morrer.

É verdade que muitas das pessoas que estão na Cracolândia chegaram à mendicância por causa da droga, mas não vieram de muito longe. A maioria, segundo censo da prefeitura, não completou o ensino fundamental. São pobres, negros e pardos. Quando aparece alguém de fora desse estrato é um espanto, como foi a suspeita de que o irmão da Suzane Richthofen era viciado. Claro que parte da comoção com a notícia tem a ver com a tragédia daquele garoto. Mas uma parte do susto é: meu Deus, um loiro na Cracolândia! Um descendente de alemães! Que estudou em escola particular!

Quantas pessoas do seu círculo consomem álcool regularmente? E maco-nha? Aposto que você conhece pessoas profissionalmente ativas e bem-sucedidas que consomem cocaína. E crack? Quantos viciados em crack há na sua família, na sua turma de escola, dormindo no chão, na praça Princesa Isabel? Princesa Isabel, veja só.

Em 2015, Carl Hart, negro, com dreads, foi barrado na entrada de um hotel, em São Paulo. Questionado a respeito, disse não entender por que as pessoas estavam tão chocadas por ele ter sido barrado no hotel, mas não se chocavam com o fato de não haver um só negro no público de suas palestras.

Infelizmente, entre nós, o choque mais comum diante da desigualdade é a tropa.

Disponível em: <http://www1.folha.uol.com.br/colunas/antonioprata/2017/06/1890076-quantos-amigos-seus-estao-na-cracolandia.shtml> Acesso em: 30 set. 2017.

**QUESTÃO 01**

O propósito do texto é

- (A) chamar a atenção da sociedade para o problema do crack.
- (B) chamar a atenção para o preconceito racial existente em nossa sociedade.
- (C) demonstrar que não adianta combater o vício sem apresentar alternativas à droga.
- (D) demonstrar que o crack não é usado em classes sociais mais altas.

**QUESTÃO 02**

Sobre a constituição do texto, é correto afirmar, **EXCETO**:

- (A) No primeiro parágrafo, o locutor do texto faz uma contextualização para introduzir o assunto do texto.
- (B) No segundo parágrafo, encontra-se a tese do texto, que será desenvolvida nos parágrafos seguintes.
- (C) No sexto parágrafo, o locutor apresenta perguntas, mantendo uma interlocução com o leitor.
- (D) No terceiro e no quarto parágrafos, o locutor faz uma referência à vida dos mendigos para exemplificar a vida de um deles.

**QUESTÃO 03**

Percebe-se o tom irônico do locutor do texto em:

- (A) “É verdade que muitas das pessoas que estão na Cracolândia chegaram à mendicância por causa da droga, mas não vieram de muito longe”.
- (B) “Quando aparece alguém de fora desse estrato é um espanto, como foi a suspeita de que o irmão da Suzane Richthofen era viciado”.
- (C) “Quantos viciados em crack há na sua família, na sua turma de escola, dormindo no chão, na praça Princesa Isabel? Princesa Isabel, veja só”.
- (D) “Um belo dia você decide parar com o crack. Você luta, faz um esforço sobre-humano e depois de meses está curado”.

**QUESTÃO 04**

Percebe-se a interferência do locutor do texto, demonstrando a sua preocupação com a situação dos mendigos, em:

- (A) “Aposto que você conhece pessoas profissionalmente ativas e bem-sucedidas que consomem cocaína. E crack?”
- (B) “Talvez você seja uma pessoa mais solar do que eu, mas devo admitir que, se estivesse naquela situação, escolheria o crack”.
- (C) “Você deita sob uma marquise na rua Helvétia, apoia a cabeça num paralelepípedo, dá um gole numa poça d’água e pensa: agora eu sou um mendigo saudável!”
- (D) “Você se lembra vagamente de ter tido metade de um pente, num passado não muito distante, mas não sabe onde foi parar”.

**QUESTÃO 05**

Todas as extrapolações abaixo podem ser feitas com base no texto, **EXCETO**:

- (A) Ao afirmar que infelizmente, entre nós, o choque mais comum diante da desigualdade é a tropa, o locutor se refere à tropa de choque da polícia.
- (B) Ao citar o caso do irmão de Suzane Richthofen, o locutor demonstra seu desprezo pela situação em que o rapaz se envolveu.
- (C) Ao constatar que o resto do tempo em que o mendigo está sem o crack é um inferno, o locutor deixa claro como é difícil a vida de quem vive nas ruas.
- (D) Ao mencionar a pesquisa do psicólogo Hart, o locutor teve o objetivo de demonstrar como as situações se equivalem e deveriam servir de exemplo.

**QUESTÃO 06**

Em: “É verdade **que muitas das pessoas que estão na Cracolândia chegaram à mendicância por causa da droga**, mas não vieram de muito longe”, temos um período composto, em que a oração destacada exerce a função de

- (A) Complemento nominal.
- (B) Objeto direto.
- (C) Predicativo.
- (D) Sujeito.

**QUESTÃO 07**

O uso da crase é **facultativo** em:

- (A) Comeu um bife à milanesa.
- (B) Desejo felicidades à sua irmã.
- (C) Queremos que fique à vontade.
- (D) Vou à Bahia no próximo mês.

**QUESTÃO 08**

A concordância verbal é permitida com o verbo no plural ou no singular em:

- (A) Não foram eles que \_\_\_\_\_ o trabalho. (fez/fizeram)
- (B) Mais de um candidato \_\_\_\_\_ aprovado. (foi/foram)
- (C) Grande parte dos convidados \_\_\_\_\_ mais cedo. (chegou/chegaram)
- (D) Cerca de cem pessoas \_\_\_\_\_ ao ver a polícia. (fugiu/fugiram)

**QUESTÃO 09**

A regência verbal está **CORRETA** em:

- (A) Nós pisamos a grama descalços.
- (B) O cargo que aspiras é muito bom.
- (C) O gerente visou a todos os cheques com caneta preta.
- (D) Eles usaram os artifícios que dispunham.

**QUESTÃO 10**

O mesmo processo de formação da palavra **INFELIZMENTE** é observado em:

- (A) desigualdade
- (B) anoitecer
- (C) envelhecer
- (D) envergonhar

**PROVA DE MATEMÁTICA / RACIOCÍNIO LÓGICO****QUESTÃO 11**

Em uma turma de terceiro ano de determinada escola, o grêmio estudantil precisa ter sua chapa formada por três cargos importantes: Presidente, vice-presidente e tesoureiro. Cinco colegas, André, Bruno, Carlos, Denilson e Eduardo estão concorrendo a esses cargos, mas existem algumas condições. São elas:

- Carlos não pode ser o presidente da chapa;
- O cargo de tesoureiro só pode ser ocupado por Carlos, Denilson ou Eduardo.

Sendo assim, o número total de chapas que podem ser formadas nessas condições apresentadas é igual a

- (A) 12  
(B) 30  
(C) 32  
(D) 40

**QUESTÃO 12**

Para executar determinada obra de restauração de certa igreja histórica, foram contratados **P** especialistas em restauração. A obra precisa ficar pronta até o aniversário da cidade. O chefe da equipe informou à prefeitura da cidade que, para entregar a obra dois dias antes do prazo previsto, seria necessário contratar mais três especialistas; se, entretanto, dois especialistas fossem dispensados, a obra ficaria pronta com dois dias de atraso.

Considerando que os especialistas trabalhem da mesma forma e nas mesmas condições, o número **P** de especialistas contratados é igual a

- (A) 12  
(B) 18  
(C) 24  
(D) 25



**QUESTÃO 13**

Um triângulo retângulo ABC possui lados medindo 1 cm; 0,5 cm e  $\frac{1}{2}\sqrt{3}cm$ , respectivamente. Sendo assim, pode-se concluir que

- (A) a área do triângulo ABC é igual a 0,25 cm<sup>2</sup>
- (B) o triângulo é isósceles.
- (C) o triângulo possui o menor ângulo igual a 30°
- (D) o triângulo possui um dos ângulos igual a 25°

**QUESTÃO 14**

João saiu do Brasil para fazer uma viagem pelo mundo. Primeiro, passou uma temporada na Europa. Lá, aumentou sua massa em 20%. Em seguida, viajou para o Japão. Lá ele reduziu sua massa em 10%. Em seguida, viajou para os Estados Unidos, onde passou por algumas cidades e, lá, aumentou sua massa em 15%. Em seguida, retornou ao Brasil

- (A) mais pesado 25% se comparada à sua massa ao sair do Brasil.
- (B) mais leve 24% se comparada à sua massa ao sair do Brasil.
- (C) com a mesma massa que estava ao sair do Brasil.
- (D) com a mesma massa que estaria se tivesse realizado os mesmos roteiros, com as mesmas alterações de massa, porém em ordens diferentes.

**QUESTÃO 15**

A sequência numérica de cinco termos **(2.000, X, Y, Z, W)** é uma Progressão Geométrica na qual o valor do quarto termo corresponde a 20% do valor do terceiro termo. Nessas condições, é **CORRETO** afirmar que o valor de **W** é igual a:

- (A)  $\frac{14}{5}$
- (B)  $\frac{12}{7}$
- (C)  $\frac{16}{5}$
- (D)  $\frac{18}{7}$

**QUESTÃO 16**

Se  $x$ ,  $y$  e  $z$  são números reais não nulos, tais que  $x + y + z = 17$ ,  $x - y - z = 1$  e  $x - y + z = 11$ , então é **CORRETO** afirmar que o valor numérico da expressão  $x \cdot y \cdot z$  é igual a:

- (A) 105
- (B) 135
- (C) 160
- (D) 190

**QUESTÃO 17**

Considere os argumentos lógicos I, II e III a seguir:

- I. Nenhum planeta possui luz própria. Todas as estrelas possuem luz própria. Concluimos que nenhum planeta é uma estrela.
- II. Todo pensamento é um raciocínio. Todo raciocínio é lógico. Concluimos que todo pensamento é lógico.
- III. Se toda criança é feliz e nenhum ser humano é infalível, concluimos que todo ser humano é feliz.

É **CORRETO** afirmar que

- (A) I e II são argumentos válidos.
- (B) II e III são argumentos válidos.
- (C) Apenas o argumento I é válido.
- (D) Apenas o argumento III é válido.

**PROVA DE LEGISLAÇÃO****QUESTÃO 18**

Segundo a Lei Orgânica do Município de Santa Luzia, a participação popular no processo legislativo é

- (A) direito político garantido como modo de exercício da soberania popular.
- (B) permitida, desde que autorizada pela Câmara Municipal.
- (C) permitida, desde que autorizada pelo Prefeito Municipal.
- (D) proibida, porque o exercício da soberania popular ocorre apenas de forma indireta.

**QUESTÃO 19**

Sobre a relação entre o Município de Santa Luiza e as organizações religiosas, é **CORRETO** afirmar:

- (A) É vedado ao Município estabelecer cultos religiosos ou igrejas.
- (B) É vedado ao Município estabelecer qualquer relação de colaboração com organizações religiosas.
- (C) O Município pode adotar religião oficial, mas não pode proibir as demais manifestações religiosas.
- (D) O Município pode subvencionar o funcionamento de organizações religiosas.

**QUESTÃO 20**

Acerca dos vereadores do Município, é **INCORRETO** afirmar:

- (A) É vedado ao vereador, desde a posse, exercer outro cargo eletivo Federal, Estadual ou Municipal.
- (B) O vereador que fixar residência fora do Município incorre em causa de perda de mandato.
- (C) Os vereadores são eleitos pelo sistema proporcional.
- (D) Os Vereadores são invioláveis por suas opiniões, palavras e votos, no exercício do mandato em qualquer lugar que estejam.

**QUESTÃO 21**

Os atos referentes à situação funcional dos servidores da Câmara Municipal são de competência

- (A) da Mesa da Câmara Municipal.
- (B) do Prefeito Municipal.
- (C) do Presidente da Câmara Municipal.
- (D) do Secretário de Governo.

**QUESTÃO 22**

A duração da legislatura coincide com

- (A) a sessão legislativa ordinária.
- (B) o ano civil.
- (C) o mandato da Mesa Diretora.
- (D) o mandato dos vereadores.

**QUESTÃO 23**

As normas que definem faltas contra a Ética e Decoro Parlamentar

- (A) incluem normas referentes à conduta social do Vereador.
- (B) não proíbem o Vereador de obter favorecimentos e vantagens pessoais ou eleitorais com recursos públicos.
- (C) não restringem o uso do poder inerente ao mandato.
- (D) restringem-se às normas de conduta nas sessões da Câmara.

**QUESTÃO 24**

Na hipótese de violação do Código de Ética por Vereador, é **CORRETO** afirmar que

- (A) a denúncia pode ser feita por escrito ou verbalmente por qualquer cidadão.
- (B) apenas outro Vereador pode representar, fundamentadamente, perante o presidente da Câmara Municipal.
- (C) qualquer cidadão, pessoa jurídica ou algum dos vereadores pode representar, fundamentadamente, perante o presidente da Câmara Municipal.
- (D) será julgado pelo juiz da Comarca.

**QUESTÃO 25**

Sobre o concurso público, é **CORRETO** afirmar que

- (A) é permitido ao gestor público prover cargos efetivos sem concurso público quando entender conveniente.
- (B) é requisito inafastável para o acesso a cargo de provimento efetivo.
- (C) é requisito para provimento de cargo em comissão.
- (D) não está previsto no Estatuto dos Servidores Públicos do Município.

**QUESTÃO 26**

Sobre a responsabilidade do servidor, é correto afirmar:

- (A) As sanções cíveis não podem ser cumuladas com as sanções administrativas.
- (B) Em caso de dano a terceiro, o servidor responde perante a vítima direta e primariamente.
- (C) O servidor público responde apenas administrativamente pelo exercício irregular de suas atribuições.
- (D) O servidor público responde na esfera cível por ato comissivo ou omissivo, doloso ou culposos, que cause danos à Fazenda Pública.




**QUESTÃO 27**

O servidor público que pratique crime contra a Administração Pública incorre em causa ensejadora de

- (A) Advertência.
- (B) Demissão.
- (C) Multa.
- (D) Suspensão.

**PROVA DE NOÇÕES DE INFORMÁTICA****QUESTÃO 28**

Analise as seguintes afirmativas sobre as pastas disponíveis no Microsoft Outlook, versão português do Office 2010:

- I – O ícone  corresponde à pasta “Itens Enviados”.
- II – O ícone  corresponde à pasta “Caixa de Entrada”.
- III – O ícone  corresponde à pasta “Rascunhos”.

Está **CORRETO** apenas o que se afirma em:

- (A) I e II  
(B) I e III  
(C) II e III  
(D) III

**QUESTÃO 29**




A função do Microsoft Excel, versão português do Office 2010, que remove os espaços de uma sequência de caracteres de texto, com exceção dos espaços simples entre as palavras é:

- (A) ARRUMAR  
(B) EXT.TEXTO  
(C) TEXTO  
(D) TIRAR



**QUESTÃO 30**

Analise as seguintes afirmativas sobre os gráficos disponíveis no Microsoft Excel, versão português do Office 2010:





- I – O ícone  corresponde a um gráfico de Área.
- II – O ícone  corresponde a um gráfico de Barras.
- III – O ícone  corresponde a um gráfico de Linhas.

Estão **CORRETAS** as afirmativas:

- (A) I e II, apenas.  
 (B) I e III, apenas.  
 (C) II e III, apenas.  
 (D) I, II e III.





**QUESTÃO 31**

Todas as afirmativas abaixo sobre as opções disponíveis no grupo “Estilo” da guia “Página Inicial” do Microsoft Excel, versão português do Office 2010, estão corretas, **EXCETO**:

- (A) O ícone  corresponde à opção “Estilos de Célula”.
- (B) O ícone  corresponde à opção “Estilos de Colunas”.
- (C) O ícone  corresponde à opção “Formatação Condicional”.
- (D) O ícone  corresponde à opção “Formatar como Tabela”.

**QUESTÃO 32**

O ícone correspondente à opção disponível no “Painel de Controle” do Microsoft Windows 7, versão português, que permite personalizar a exibição de arquivos e pastas é:

- (A) 
- (B) 
- (C) 
- (D) 

**QUESTÃO 33**




Qual a fonte disponível no Microsoft Word, versão português do Office 2010, usada para formatar o texto abaixo?

# Texto

- (A) Arial.
- (B) Calibri.
- (C) Courier New.
- (D) Wingdings.

**QUESTÃO 34**

Analise as seguintes afirmativas sobre as opções disponíveis no grupo “Ilustrações” da guia “Inserir” do Microsoft Word, versão português do Office 2010:





- I –  Permite inserir uma imagem de um arquivo.
- II –  Permite inserir um elemento gráfico do SmartArt.
- III –  Permite inserir formas prontas.

Estão **CORRETAS** as afirmativas:

- (A) I e II, apenas.  
 (B) I e III, apenas.  
 (C) II e III, apenas.  
 (D) I, II e III.

**QUESTÃO 35**

Todas as afirmativas abaixo sobre as opções disponíveis no grupo “Tamanho da Célula” da guia “Layout” quando o cursor estiver posicionado dentro de uma tabela no Microsoft Word, versão português do Office 2010, estão corretas, **EXCETO**:

- (A) O ícone  corresponde a “Altura da Linha da Tabela”.
- (B) O ícone  corresponde a “Distribuir Linhas”.
- (C) O ícone  corresponde a “Distribuir Colunas”.
- (D) O ícone  corresponde a “Largura da Linha da Tabela”.

**PROVA DE CONHECIMENTOS ESPECÍFICOS****QUESTÃO 36**

São considerados níveis de análise no diagnóstico de necessidades de treinamento e desenvolvimento, **EXCETO** análise

- (A) das tarefas.
- (B) dos recursos humanos.
- (C) organizacional.
- (D) transacional.

**QUESTÃO 37**

“O método \_\_\_\_\_ consiste num formulário de dupla entrada, no qual as linhas representam os fatores que estão sendo avaliados e as colunas, os graus de avaliação”.

Analise a assertiva acima quanto à temática de avaliação de pessoas e depois escolha a opção que complete a lacuna deixada no texto, tornando-o verdadeiro:

- (A) da Avaliação por Resultados.
- (B) da Comparação Binária.
- (C) da Escolha Forçada.
- (D) das Escalas Gráficas.

**QUESTÃO 38**

O conjunto das consideradas quatro funções básicas da comunicação interpessoal está **CORRETO** em:

- (A) assertividade; transformação; maturação; emoção.
- (B) atividade; informação; maturação; empoderamento.
- (C) controle; informação; motivação; emoção.
- (D) potencial; transformação; motivação; padrão.

**QUESTÃO 39**

O conjunto **COMPLETO** e **CORRETO** das necessidades, no modelo da cadeia da Hierarquia das Necessidades de Maslow, está indicado em:

- (A) ambientais; ecológicas; financeiras; de equilíbrio; de ostentação.
- (B) de bom senso; das boas maneiras; da felicidade; de altivez; de superação.
- (C) fisiológicas; de segurança; sociais; do ego ou da autoestima; da realização pessoal.
- (D) morais; éticas; filosóficas; teológicas; telúricas.

**QUESTÃO 40**

“[...] um sistema de valores, compartilhado pelos membros de uma organização e que a difere de uma para outra”.

O conceito acima diz respeito a:

- (A) cultura organizacional.
- (B) ética contemporânea.
- (C) produtividade organizacional.
- (D) visão empresarial.

**QUESTÃO 41**

A teoria da liderança \_\_\_\_\_ diz que os seguidores do líder atribuem a ele capacidades heroicas ou extraordinárias de liderança quando observam determinados comportamentos.

O termo que se encaixa na frase acima, tornando-a **VERDADEIRA**, é:

- (A) autocrática.
- (B) carismática.
- (C) determinística.
- (D) plena.

**QUESTÃO 42**

Analise as assertivas abaixo:

I – Uma organização é um sistema de recursos que procura realizar algum tipo de objetivo (ou conjunto de objetivos)

**E**

II – além de objetivos e recursos, as organizações têm outros componentes importantes: processos de transformação e divisão do trabalho.

Está **CORRETO** o que se afirma em:

- (A) Apenas I está correta.
- (B) Apenas II está correta.
- (C) I e II estão corretas e a II complementa a I.
- (D) I e II estão incorretas.

**QUESTÃO 43**

São considerados tipos de organização, **EXCETO**:

- (A) empresas.
- (B) governo.
- (C) macro setor.
- (D) terceiro setor.

**QUESTÃO 44**

Abaixo estão listadas algumas **recomendações** que auxiliam na tarefa de tomada de decisão quanto à contratação de um novo empregado. Analise-as, considerando-as **V** (verdadeiras) ou **F** (falsas):

- I. ( ) É mais importante considerar as realizações que as credenciais do candidato;
- II. ( ) Candidatos fortes ameaçam gerentes fracos;
- III. ( ) Mesmo antes de o candidato finalista aceitar definitivamente o cargo, deve-se dispensar os demais finalistas;
- IV. ( ) Candidatos superqualificados aceitam sempre qualquer proposta de trabalho.

A sequência **CORRETA**, de cima para baixo, é:

- (A) V; V; F; F.
- (B) V; F; F; V.
- (C) F; V; V; F.
- (D) F; F; V; F.

**QUESTÃO 45**

A ação de *coaching* tem como finalidades, **EXCETO**:

- (A) ajudar a descobrir o potencial de trabalho.
- (B) auxiliar na correção da conduta no trabalho.
- (C) encorajar o potencial pessoal e profissional.
- (D) sugerir contratação de auditores.

**QUESTÃO 46**

Associe a segunda coluna com a primeira e, depois, escolha a alternativa **CORRETA**, na sequência de cima para baixo:

- (1) análise de cargo ( ) é a exposição ordenada das tarefas ou atribuições de um cargo.
- (2) descrição de cargo ( ) é o estudo que se faz para obter informações sobre as tarefas ou atribuições de um cargo.
- (3) especificação de cargo de ( ) consiste na identificação dos requisitos necessários para o desempenho das tarefas ou atribuições de um cargo.

A sequência **CORRETA**, de cima para baixo, é:

- (A) 1; 2; 3.  
(B) 2; 1; 3.  
(C) 2; 3; 1.  
(D) 3; 1; 2.

**QUESTÃO 47**

A etapa de \_\_\_\_\_ em um processo decisório consiste em entender o problema ou a oportunidade e identificar suas causas e consequências.

O termo que completa a assertiva acima, tornando-a **VERDADEIRA**, é:

- (A) prognóstico.  
(B) diagnóstico.  
(C) decisão.  
(D) avaliação.



**QUESTÃO 48**

Quando a empresa trabalha com vários produtos ou serviços que apresentam diferenças importantes entre si, pode-se administrar cada um individualmente. Esta forma de escolha nos leva a um tipo de estrutura de organização por produto. É considerada uma característica desse tipo de estrutura:

- (A) A preocupação com o produto e suas necessidades de planejamento, fabricação e distribuição pode estimular o aprimoramento contínuo e a inovação.
- (B) As funções de produção, vendas e finanças são sempre descentralizadas.
- (C) Esse tipo de estrutura trabalha exclusivamente com a atividade de projetos.
- (D) O foco no cliente é desprezado e transferido para os sistemas de controle.

**QUESTÃO 49**

A abordagem chamada de Liderança Situacional enfoca três fatores básicos, como indicado abaixo. A alternativa que apresenta o item que **NÃO** representa um desses fatores é:

- (A) a quantidade de comportamento orientado para o trabalho de um líder.
- (B) a quantidade de comportamento voltado para os relacionamentos que um líder oferece.
- (C) o nível de disposição que os membros da organização demonstram ao realizar uma certa tarefa, função ou objetivo.
- (D) o processo tático de evolução de um comportamento.

**QUESTÃO 50**

Em relação ao processo de tomada de decisão, associe a segunda coluna de acordo com a primeira.

- (1) decisões autocráticas ( ) são tomadas pela equipe ou pessoa que recebeu poderes para isso
- (2) decisões compartilhadas ( ) são tomadas pelos gerentes junto com sua equipe
- (3) decisões delegadas ( ) são tomadas por gerentes ou pessoas que não ocupam cargo gerencial, mas têm responsabilidade e autoridade pela administração de algum tipo de recurso

A sequência **CORRETA**, de cima para baixo, é:

- (A) 3; 2; 1.  
(B) 2; 3; 1.  
(C) 2; 1; 3.  
(D) 1; 2; 3.

# CONCURSO PÚBLICO

---

CÂMARA MUNICIPAL DE SANTA LUZIA  
EDITAL 001/2017

PARA VOCÊ DESTACAR E CONFERIR O SEU GABARITO.

01	
02	
03	
04	
05	
06	
07	
08	
09	
10	

11	
12	
13	
14	
15	
16	
17	
18	
19	
20	

21	
22	
23	
24	
25	
26	
27	
28	
29	
30	

31	
32	
33	
34	
35	
36	
37	
38	
39	
40	

41	
42	
43	
44	
45	
46	
47	
48	
49	
50	

