

CONCURSO PÚBLICO

Edital 001/2017



CÂMARA MUNICIPAL DE SANTA LUZIA

CADERNO DE PROVAS

CADERNO

8

CARGO:

COORDENADOR ADMINISTRATIVO FINANCEIRO

PROVAS:

- LÍNGUA PORTUGUESA
- MATEMÁTICA / RACIOCÍNIO LÓGICO
- LEGISLAÇÃO
- NOÇÕES DE INFORMÁTICA
- CONHECIMENTOS ESPECÍFICOS

Leia, atentamente, as instruções gerais que se encontram no verso desta capa.

INSTRUÇÕES GERAIS:

1. Este caderno de provas contém um total de **50** (cinquenta) questões objetivas, sendo 10 de Língua Portuguesa, 7 de Matemática/Raciocínio Lógico, 10 de Legislação, 8 de Noções e Informática e 15 de Conhecimentos Específicos. Confira-o.
2. As provas para todos os cargos terão duração de, no mínimo, **1 (uma) hora** e, no máximo, de **4 (quatro) horas**, incluído o tempo destinado à transcrição de suas respostas no gabarito oficial.
3. Respondidas as questões, você deverá passar o gabarito para a sua folha de respostas, usando caneta esferográfica azul ou preta.
4. Em nenhuma hipótese haverá substituição da Folha de Respostas por erro do candidato.
5. Este caderno deverá ser devolvido ao fiscal, juntamente, com a folha de respostas, devidamente preenchidos e assinados.
6. Por motivo de segurança, os candidatos somente poderão ausentar-se do recinto de realização das provas objetivas decorrida **1 (uma)** hora do início de aplicação das mesmas.
7. Você pode transcrever suas respostas na última folha deste caderno e a mesma poderá ser destacada.
8. As questões, os gabaritos e os cadernos das Provas Objetivas serão publicados no quadro de avisos de publicação oficial dos atos da Câmara Municipal de Santa Luzia e divulgados no endereço eletrônico da FUMARC www.fumarc.org.br até o dia 11 de outubro de 2017.
9. A comissão organizadora da FUMARC Concursos lhe deseja uma boa prova.

Prezado(a) candidato(a):

Coloque seu número de inscrição e nome no quadro abaixo:

Nº de Inscrição	Nome
<input type="text"/>	<input type="text"/>

ASSINALE A RESPOSTA CORRETA.

PROVA DE LÍNGUA PORTUGUESA

Quantos amigos seus estão na Cracolândia?

Antônio Prata

Carl Hart é psicólogo, psiquiatra e foi o primeiro negro a alcançar o posto de professor titular de neurociências na Universidade de Columbia, em Nova York. Em 2015, Hart veio ao Brasil divulgar seus estudos sobre drogas e vício. Numa entrevista ao Drauzio Varella, falou sobre sua pesquisa com ratos e macacos, em laboratório. Quando se coloca um animal sozinho numa jaula, capaz de acionar uma alavanca e receber uma dose de cocaína ou meta-anfetamina na veia, o bicho acionará a alavanca até morrer. Quando, porém, há mais estímulos na jaula, além da alavanca, como um outro animal sexualmente ativo, uma rodinha (no caso dos ratos) ou doces, as cobaias sobrevivem.

Extrapolando seus insights para humanos, o que Hart prega é que não adianta combater o vício sem apresentar alternativas à droga. A Cracolândia, ele insistiu em entrevistas e palestras, por aqui, não pode ser pensada pela perspectiva do vício sem ser pensada antes pela perspectiva da miséria.

Imagine que você é um mendigo viciado em crack. Seus pertences são uma calça esfarrapada, uma camiseta imunda, um par de Havaianas, um isqueiro. Você se lembra vagamente de ter tido metade de um pente, num passado não muito distante, mas não sabe onde foi parar. Sua existência se resume a pedir dinheiro no farol e a fumar crack. Nos minutos que duram a viagem, você se esquece de tudo. O resto do tempo é o inferno.

Um belo dia você decide parar com o crack. Você luta, faz um esforço sobre-humano e depois de meses está curado. Você deita sob uma marquise na rua Helvétia, apoia a cabeça num paralelepípedo, dá um gole numa poça d'água e pensa: agora eu sou um mendigo saudável! Pensa no futuro. Posso arrumar um trapo para limpar os vidros dos carros, no farol. Quem sabe, vender Sufclair? Se me esforçar bastante, consigo um carrinho e um cachorro, virarei catador. Talvez você seja uma pessoa mais solar do que eu, mas devo admitir que, se estivesse naquela situação, escolheria o crack. Ficaria na minha jaula acionando a alavanca até morrer.

É verdade que muitas das pessoas que estão na Cracolândia chegaram à mendicância por causa da droga, mas não vieram de muito longe. A maioria, segundo censo da prefeitura, não completou o ensino fundamental. São pobres, negros e pardos. Quando aparece alguém de fora desse estrato é um espanto, como foi a suspeita de que o irmão da Suzane Richthofen era viciado. Claro que parte da comoção com a notícia tem a ver com a tragédia daquele garoto. Mas uma parte do susto é: meu Deus, um loiro na Cracolândia! Um descendente de alemães! Que estudou em escola particular!

Quantas pessoas do seu círculo consomem álcool regularmente? E maconha? Aposto que você conhece pessoas profissionalmente ativas e bem-sucedidas que consomem cocaína. E crack? Quantos viciados em crack há na sua família, na sua turma de escola, dormindo no chão, na praça Princesa Isabel? Princesa Isabel, veja só.

Em 2015, Carl Hart, negro, com dreads, foi barrado na entrada de um hotel, em São Paulo. Questionado a respeito, disse não entender por que as pessoas estavam tão chocadas por ele ter sido barrado no hotel, mas não se chocavam com o fato de não haver um só negro no público de suas palestras.

Infelizmente, entre nós, o choque mais comum diante da desigualdade é a tropa.

QUESTÃO 01

O propósito do texto é

- (A) chamar a atenção da sociedade para o problema do crack.
- (B) chamar a atenção para o preconceito racial existente em nossa sociedade.
- (C) demonstrar que não adianta combater o vício sem apresentar alternativas à droga.
- (D) demonstrar que o crack não é usado em classes sociais mais altas.

QUESTÃO 02

Sobre a constituição do texto, é correto afirmar, **EXCETO**:

- (A) No primeiro parágrafo, o locutor do texto faz uma contextualização para introduzir o assunto do texto.
- (B) No segundo parágrafo, encontra-se a tese do texto, que será desenvolvida nos parágrafos seguintes.
- (C) No sexto parágrafo, o locutor apresenta perguntas, mantendo uma interlocução com o leitor.
- (D) No terceiro e no quarto parágrafos, o locutor faz uma referência à vida dos mendigos para exemplificar a vida de um deles.

QUESTÃO 03

Percebe-se o tom irônico do locutor do texto em:

- (A) “É verdade que muitas das pessoas que estão na Cracolândia chegaram à mendicância por causa da droga, mas não vieram de muito longe”.
- (B) “Quando aparece alguém de fora desse estrato é um espanto, como foi a suspeita de que o irmão da Suzane Richthofen era viciado”.
- (C) “Quantos viciados em crack há na sua família, na sua turma de escola, dormindo no chão, na praça Princesa Isabel? Princesa Isabel, veja só”.
- (D) “Um belo dia você decide parar com o crack. Você luta, faz um esforço sobre-humano e depois de meses está curado”.

QUESTÃO 04

Percebe-se a interferência do locutor do texto, demonstrando a sua preocupação com a situação dos mendigos, em:

- (A) “Aposto que você conhece pessoas profissionalmente ativas e bem-sucedidas que consomem cocaína. E crack?”
- (B) “Talvez você seja uma pessoa mais solar do que eu, mas devo admitir que, se estivesse naquela situação, escolheria o crack”.
- (C) “Você deita sob uma marquise na rua Helvétia, apoia a cabeça num paralelepípedo, dá um gole numa poça d’água e pensa: agora eu sou um mendigo saudável!”
- (D) “Você se lembra vagamente de ter tido metade de um pente, num passado não muito distante, mas não sabe onde foi parar”.

QUESTÃO 05

Todas as extrapolações abaixo podem ser feitas com base no texto, **EXCETO**:

- (A) Ao afirmar que infelizmente, entre nós, o choque mais comum diante da desigualdade é a tropa, o locutor se refere à tropa de choque da polícia.
- (B) Ao citar o caso do irmão de Suzane Richthofen, o locutor demonstra seu desprezo pela situação em que o rapaz se envolveu.
- (C) Ao constatar que o resto do tempo em que o mendigo está sem o crack é um inferno, o locutor deixa claro como é difícil a vida de quem vive nas ruas.
- (D) Ao mencionar a pesquisa do psicólogo Hart, o locutor teve o objetivo de demonstrar como as situações se equivalem e deveriam servir de exemplo.

QUESTÃO 06

Em: “É verdade **que muitas das pessoas que estão na Cracolândia chegaram à mendicância por causa da droga**, mas não vieram de muito longe”, temos um período composto, em que a oração destacada exerce a função de

- (A) Complemento nominal.
- (B) Objeto direto.
- (C) Predicativo.
- (D) Sujeito.

QUESTÃO 07

O uso da crase é **facultativo** em:

- (A) Comeu um bife à milanesa.
- (B) Desejo felicidades à sua irmã.
- (C) Queremos que fique à vontade.
- (D) Vou à Bahia no próximo mês.

QUESTÃO 08

A concordância verbal é permitida com o verbo no plural ou no singular em:

- (A) Não foram eles que _____ o trabalho. (fez/fizeram)
- (B) Mais de um candidato _____ aprovado. (foi/foram)
- (C) Grande parte dos convidados _____ mais cedo. (chegou/chegaram)
- (D) Cerca de cem pessoas _____ ao ver a polícia. (fugiu/fugiram)

QUESTÃO 09

A regência verbal está **CORRETA** em:

- (A) Nós pisamos a grama descalços.
- (B) O cargo que aspiras é muito bom.
- (C) O gerente visou a todos os cheques com caneta preta.
- (D) Eles usaram os artifícios que dispunham.

QUESTÃO 10

O mesmo processo de formação da palavra **INFELIZMENTE** é observado em:

- (A) desigualdade
- (B) anoitecer
- (C) envelhecer
- (D) envergonhar

PROVA DE MATEMÁTICA / RACIOCÍNIO LÓGICO**QUESTÃO 11**

Em uma turma de terceiro ano de determinada escola, o grêmio estudantil precisa ter sua chapa formada por três cargos importantes: Presidente, vice-presidente e tesoureiro. Cinco colegas, André, Bruno, Carlos, Denilson e Eduardo estão concorrendo a esses cargos, mas existem algumas condições. São elas:

- Carlos não pode ser o presidente da chapa;
- O cargo de tesoureiro só pode ser ocupado por Carlos, Denilson ou Eduardo.

Sendo assim, o número total de chapas que podem ser formadas nessas condições apresentadas é igual a

- (A) 12
- (B) 30
- (C) 32
- (D) 40

QUESTÃO 12

Para executar determinada obra de restauração de certa igreja histórica, foram contratados **P** especialistas em restauração. A obra precisa ficar pronta até o aniversário da cidade. O chefe da equipe informou à prefeitura da cidade que, para entregar a obra dois dias antes do prazo previsto, seria necessário contratar mais três especialistas; se, entretanto, dois especialistas fossem dispensados, a obra ficaria pronta com dois dias de atraso.

Considerando que os especialistas trabalhem da mesma forma e nas mesmas condições, o número **P** de especialistas contratados é igual a

- (A) 12
- (B) 18
- (C) 24
- (D) 25

QUESTÃO 13

Um triângulo retângulo ABC possui lados medindo 1 cm; 0,5 cm e $\frac{1}{2}\sqrt{3}cm$, respectivamente. Sendo assim, pode-se concluir que

- (A) a área do triângulo ABC é igual a 0,25 cm²
- (B) o triângulo é isósceles.
- (C) o triângulo possui o menor ângulo igual a 30°
- (D) o triângulo possui um dos ângulos igual a 25°

QUESTÃO 14

João saiu do Brasil para fazer uma viagem pelo mundo. Primeiro, passou uma temporada na Europa. Lá, aumentou sua massa em 20%. Em seguida, viajou para o Japão. Lá ele reduziu sua massa em 10%. Em seguida, viajou para os Estados Unidos, onde passou por algumas cidades e, lá, aumentou sua massa em 15%. Em seguida, retornou ao Brasil

- (A) mais pesado 25% se comparada à sua massa ao sair do Brasil.
- (B) mais leve 24% se comparada à sua massa ao sair do Brasil.
- (C) com a mesma massa que estava ao sair do Brasil.
- (D) com a mesma massa que estaria se tivesse realizado os mesmos roteiros, com as mesmas alterações de massa, porém em ordens diferentes.

QUESTÃO 15

A sequência numérica de cinco termos **(2.000, X, Y, Z, W)** é uma Progressão Geométrica na qual o valor do quarto termo corresponde a 20% do valor do terceiro termo. Nessas condições, é **CORRETO** afirmar que o valor de **W** é igual a:

- (A) $\frac{14}{5}$
- (B) $\frac{12}{7}$
- (C) $\frac{16}{5}$
- (D) $\frac{18}{7}$

QUESTÃO 16

Se x , y e z são números reais não nulos, tais que $x + y + z = 17$, $x - y - z = 1$ e $x - y + z = 11$, então é **CORRETO** afirmar que o valor numérico da expressão $x \cdot y \cdot z$ é igual a:

- (A) 105
- (B) 135
- (C) 160
- (D) 190

QUESTÃO 17

Considere os argumentos lógicos I, II e III a seguir:

- I. Nenhum planeta possui luz própria. Todas as estrelas possuem luz própria. Concluimos que nenhum planeta é uma estrela.
- II. Todo pensamento é um raciocínio. Todo raciocínio é lógico. Concluimos que todo pensamento é lógico.
- III. Se toda criança é feliz e nenhum ser humano é infalível, concluimos que todo ser humano é feliz.

É **CORRETO** afirmar que

- (A) I e II são argumentos válidos.
- (B) II e III são argumentos válidos.
- (C) Apenas o argumento I é válido.
- (D) Apenas o argumento III é válido.

PROVA DE LEGISLAÇÃO**QUESTÃO 18**

Segundo a Lei Orgânica do Município de Santa Luzia, a participação popular no processo legislativo é

- (A) direito político garantido como modo de exercício da soberania popular.
- (B) permitida, desde que autorizada pela Câmara Municipal.
- (C) permitida, desde que autorizada pelo Prefeito Municipal.
- (D) proibida, porque o exercício da soberania popular ocorre apenas de forma indireta.

QUESTÃO 19

Sobre a relação entre o Município de Santa Luiza e as organizações religiosas, é **CORRETO** afirmar:

- (A) É vedado ao Município estabelecer cultos religiosos ou igrejas.
- (B) É vedado ao Município estabelecer qualquer relação de colaboração com organizações religiosas.
- (C) O Município pode adotar religião oficial, mas não pode proibir as demais manifestações religiosas.
- (D) O Município pode subvencionar o funcionamento de organizações religiosas.

QUESTÃO 20

Acerca dos vereadores do Município, é **INCORRETO** afirmar:

- (A) É vedado ao vereador, desde a posse, exercer outro cargo eletivo Federal, Estadual ou Municipal.
- (B) O vereador que fixar residência fora do Município incorre em causa de perda de mandato.
- (C) Os vereadores são eleitos pelo sistema proporcional.
- (D) Os Vereadores são invioláveis por suas opiniões, palavras e votos, no exercício do mandato em qualquer lugar que estejam.

QUESTÃO 21

Os atos referentes à situação funcional dos servidores da Câmara Municipal são de competência

- (A) da Mesa da Câmara Municipal.
- (B) do Prefeito Municipal.
- (C) do Presidente da Câmara Municipal.
- (D) do Secretário de Governo.

QUESTÃO 22

A duração da legislatura coincide com

- (A) a sessão legislativa ordinária.
- (B) o ano civil.
- (C) o mandato da Mesa Diretora.
- (D) o mandato dos vereadores.

QUESTÃO 23

As normas que definem faltas contra a Ética e Decoro Parlamentar

- (A) incluem normas referentes à conduta social do Vereador.
- (B) não proíbem o Vereador de obter favorecimentos e vantagens pessoais ou eleitorais com recursos públicos.
- (C) não restringem o uso do poder inerente ao mandato.
- (D) restringem-se às normas de conduta nas sessões da Câmara.

QUESTÃO 24

Na hipótese de violação do Código de Ética por Vereador, é **CORRETO** afirmar que

- (A) a denúncia pode ser feita por escrito ou verbalmente por qualquer cidadão.
- (B) apenas outro Vereador pode representar, fundamentadamente, perante o presidente da Câmara Municipal.
- (C) qualquer cidadão, pessoa jurídica ou algum dos vereadores pode representar, fundamentadamente, perante o presidente da Câmara Municipal.
- (D) será julgado pelo juiz da Comarca.

QUESTÃO 25

Sobre o concurso público, é **CORRETO** afirmar que

- (A) é permitido ao gestor público prover cargos efetivos sem concurso público quando entender conveniente.
- (B) é requisito inafastável para o acesso a cargo de provimento efetivo.
- (C) é requisito para provimento de cargo em comissão.
- (D) não está previsto no Estatuto dos Servidores Públicos do Município.

QUESTÃO 26

Sobre a responsabilidade do servidor, é correto afirmar:

- (A) As sanções cíveis não podem ser cumuladas com as sanções administrativas.
- (B) Em caso de dano a terceiro, o servidor responde perante a vítima direta e primariamente.
- (C) O servidor público responde apenas administrativamente pelo exercício irregular de suas atribuições.
- (D) O servidor público responde na esfera cível por ato comissivo ou omissivo, doloso ou culposos, que cause danos à Fazenda Pública.




QUESTÃO 27

O servidor público que pratique crime contra a Administração Pública incorre em causa ensejadora de

- (A) Advertência.
- (B) Demissão.
- (C) Multa.
- (D) Suspensão.

PROVA DE NOÇÕES DE INFORMÁTICA**QUESTÃO 28**

Analise as seguintes afirmativas sobre as pastas disponíveis no Microsoft Outlook, versão português do Office 2010:

- I – O ícone  corresponde à pasta “Itens Enviados”.
- II – O ícone  corresponde à pasta “Caixa de Entrada”.
- III – O ícone  corresponde à pasta “Rascunhos”.

Está **CORRETO** apenas o que se afirma em:

- (A) I e II
(B) I e III
(C) II e III
(D) III




QUESTÃO 29

A função do Microsoft Excel, versão português do Office 2010, que remove os espaços de uma sequência de caracteres de texto, com exceção dos espaços simples entre as palavras é:

- (A) ARRUMAR
(B) EXT.TEXTO
(C) TEXTO
(D) TIRAR

QUESTÃO 30

Analise as seguintes afirmativas sobre os gráficos disponíveis no Microsoft Excel, versão português do Office 2010:





- I – O ícone  corresponde a um gráfico de Área.
- II – O ícone  corresponde a um gráfico de Barras.
- III – O ícone  corresponde a um gráfico de Linhas.

Estão **CORRETAS** as afirmativas:

- (A) I e II, apenas.
 (B) I e III, apenas.
 (C) II e III, apenas.
 (D) I, II e III.





QUESTÃO 31

Todas as afirmativas abaixo sobre as opções disponíveis no grupo “Estilo” da guia “Página Inicial” do Microsoft Excel, versão português do Office 2010, estão corretas, **EXCETO**:

- (A) O ícone  corresponde à opção “Estilos de Célula”.
- (B) O ícone  corresponde à opção “Estilos de Colunas”.
- (C) O ícone  corresponde à opção “Formatação Condicional”.
- (D) O ícone  corresponde à opção “Formatar como Tabela”.

QUESTÃO 32

O ícone correspondente à opção disponível no “Painel de Controle” do Microsoft Windows 7, versão português, que permite personalizar a exibição de arquivos e pastas é:

- (A) 
- (B) 
- (C) 
- (D) 

QUESTÃO 33




Qual a fonte disponível no Microsoft Word, versão português do Office 2010, usada para formatar o texto abaixo?

Texto

- (A) Arial.
- (B) Calibri.
- (C) Courier New.
- (D) Wingdings.

QUESTÃO 34

Analise as seguintes afirmativas sobre as opções disponíveis no grupo “Ilustrações” da guia “Inserir” do Microsoft Word, versão português do Office 2010:





- I –  Permite inserir uma imagem de um arquivo.
- II –  Permite inserir um elemento gráfico do SmartArt.
- III –  Permite inserir formas prontas.

Estão **CORRETAS** as afirmativas:

- (A) I e II, apenas.
 (B) I e III, apenas.
 (C) II e III, apenas.
 (D) I, II e III.

QUESTÃO 35

Todas as afirmativas abaixo sobre as opções disponíveis no grupo “Tamanho da Célula” da guia “Layout” quando o cursor estiver posicionado dentro de uma tabela no Microsoft Word, versão português do Office 2010, estão corretas, **EXCETO**:

- (A) O ícone  corresponde a “Altura da Linha da Tabela”.
- (B) O ícone  corresponde a “Distribuir Linhas”.
- (C) O ícone  corresponde a “Distribuir Colunas”.
- (D) O ícone  corresponde a “Largura da Linha da Tabela”.

PROVA DE CONHECIMENTOS ESPECÍFICOS**QUESTÃO 36**

Nos termos do § 4º do art. 105 da Lei nº 4.320/64, o Passivo Permanente compreende a dívida fundada e outras que dependam de autorização legislativa para amortização ou resgate. Assim sendo, a opção que **NÃO** se refere a um componente do Passivo Permanente é:

- (A) Dívida externa em títulos.
- (B) Dívida interna em títulos.
- (C) Dívida interna por contrato.
- (D) Restos a Pagar inscritos.

QUESTÃO 37

A variação do preço em um sistema de custo-padrão é obtida pela multiplicação de quantidade-padrão pela diferença entre

- (A) preço real e preço-padrão.
- (B) preço-padrão e preço-orçado.
- (C) quantidade real e preço-padrão.
- (D) quantidade real e quantidade-padrão.

QUESTÃO 38

Nos termos do art. 13, observadas as categorias econômicas do art. 12, ambos da Lei nº 4.320/64, a discriminação ou especificação da despesa por elementos, em cada unidade administrativa ou órgão de governo, obedecerá ao seguinte esquema para as Despesas de Custeio:

- (A) Pessoal Civil; Pessoal Militar; Inativos; Pensionistas; Encargos Diversos; Salário Família e Abono Familiar.
- (B) Pessoal Civil; Pessoal Militar; Inativos; Pensionistas; Salário Família e Abono Familiar.
- (C) Pessoal Civil; Pessoal Militar; Inativos; Serviços de Terceiros e Encargos Diversos.
- (D) Pessoal Civil; Pessoal Militar; Material de Consumo; Serviços de Terceiros e Encargos Diversos.

QUESTÃO 39

Do balanço da sociedade empresária São Francisco de Assis Ltda., relativo ao exercício social de 2016, foram extraídos os seguintes dados:

ATIVO		PASSIVO	
Caixa	27.000,00	Fornecedores	100.000,00
Bancos	63.000,00	Salários a Pagar	
Mercadorias		PATRIMÔNIO LÍQUIDO	
Móveis e Utensílios	150.000,00	Capital Social	250.000,00
Duplicatas a Receber	100.000,00	Reservas	50.000,00

Considerando-se os dados acima e sabendo-se que o valor total Passivo é igual ao total do Ativo Imobilizado, o saldo da conta Mercadorias é

- (A) R\$ 60.000,00
- (B) R\$ 80.000,00
- (C) R\$ 110.000,00
- (D) R\$ 150.000,00

QUESTÃO 40

Conforme o disposto no art. 104 da lei nº 4.320/64, a Demonstração das Variações Patrimoniais evidencia as alterações verificadas no patrimônio, resultantes ou não da execução orçamentária, e indica o resultado patrimonial do exercício.

Diante do exposto, **NÃO** se refere a uma alteração resultante da execução orçamentária:

- (A) Aquisição de títulos e valores.
- (B) Cancelamento de dívida passiva.
- (C) Construção e aquisição de bens imóveis.
- (D) Transferências correntes.

QUESTÃO 41

De um produto temos Custos Indiretos de Fabricação - CIF = R\$ 1.000,00; Matéria-prima = 20,00 R\$/unidade e Mão-de-Obra Direta - MOD = 30,00 R\$/unidade.

Com esses dados, solicita-se apurar e indicar: o custo total para uma produção de 100 unidades e para uma produção de 200 unidades, **respectivamente**.

- (A) R\$ 50,00 e R\$ 50,00
- (B) R\$ 55,00 e R\$ 60,00
- (C) R\$ 60,00 e R\$ 55,00
- (D) R\$ 65,00 e R\$ 60,00

QUESTÃO 42

Nos termos do art. 106 da Lei nº 4.320/64, a avaliação dos elementos patrimoniais obedecerá às seguintes normas, **EXCETO**:

- (A) Os bens de almoxarifado, pelo preço médio ponderado das compras.
- (B) Os bens móveis e imóveis, pelo valor de aquisição ou pelo custo de produção ou de construção.
- (C) Os débitos e créditos, bem como os restos a pagar, pelo seu valor recuperável, feita a conversão, quando em moeda estrangeira, à taxa de câmbio vigente na data do balanço.
- (D) Os débitos e créditos, bem como os títulos de renda, pelo seu valor nominal, feita a conversão, quando em moeda estrangeira, à taxa de câmbio vigente na data do balanço.

QUESTÃO 43

Os inventários de produtos e os saldos de conta de um balancete de uma sociedade empresária industrial, evidenciam os seguintes valores ao fim do exercício de 2016:

Estoque inicial de produtos acabados = R\$ 40.000,00

Estoque inicial de produtos em elaboração = R\$ 15.000,00

Estoque final de produtos em elaboração = R\$ 10.000,00

Material direto utilizado = R\$ 25.000,00

Mão-de-obra direta alocada = R\$ 18.000,00

Custos gerais de fabricação aplicados = R\$ 17.000,00

Custos dos produtos vendidos = R\$ 90.000,00

Com base nessas informações, o saldo do estoque final de produtos acabados é de

- (A) R\$ 15.000,00
- (B) R\$ 25.000,00
- (C) R\$ 40.000,00
- (D) R\$ 45.000,00

QUESTÃO 44

O sistema contábil governamental é organizado em quatro subsistemas interdependentes, com finalidades específicas, objetivos e funções próprias, proporcionando a emissão dos demonstrativos contábeis e demais relatórios complementares previstos na Lei nº 4.320/64 e na Lei de Responsabilidade Fiscal. Diante do exposto, **NÃO** se refere a um desses subsistemas:

- (A) Subsistema de custos.
- (B) Subsistema financeiro.
- (C) Subsistema orçamentário.
- (D) Subsistema patrimonial.

QUESTÃO 45

Das demonstrações contábeis de uma sociedade empresária industrial, foram selecionados os seguintes itens:

Giro do Ativo Total = 1,6

Lucro Líquido = R\$ 18.000,00

Custos dos Produtos Vendidos = R\$ 9.000,00

Demais Despesas Operacionais = R\$ 14.000,00

Rentabilidade do Ativo Total = 80%

Diante das informações acima, pode-se afirmar que o Resultado Bruto da sociedade totaliza

- (A) R\$ 13.000,00
- (B) R\$ 27.000,00
- (C) R\$ 36.000,00
- (D) R\$ 45.000,00

QUESTÃO 46

Conforme o art. 92 da Lei nº 4.320/64, a dívida fluuante compreende os

- (A) débitos com títulos e contratos.
- (B) débitos de tesouraria.
- (C) restos a pagar, excluídos os serviços da dívida.
- (D) serviços da dívida a pagar.

QUESTÃO 47

De acordo com o previsto no inciso IV do art. 179 da Lei nº 6404/76, os direitos que têm por objeto bens corpóreos destinados à manutenção das atividades da companhia ou da empresa ou exercidos com essa finalidade, inclusive os decorrentes de operações que transfiram à companhia os benefícios, riscos e controle desses bens, estão classificados no

- (A) Ativo circulante.
- (B) Ativo imobilizado.
- (C) Ativo intangível.
- (D) Ativo realizável.

QUESTÃO 48

O Manual de Contabilidade Aplicada ao Setor Público - MCASP classifica os ativos como circulantes quando satisfizerem a um dos seguintes critérios, **EXCETO**:

- (A) Corresponderem a valores exigíveis até o final do exercício seguinte.
- (B) Encontrarem-se disponíveis para realização imediata.
- (C) Os demais ativos devem ser classificados como não circulantes.
- (D) Tiverem a expectativa de realização até o término do exercício seguinte.

QUESTÃO 49

Para que ocorra a revogação do procedimento licitatório, é necessário que haja

- (A) recurso provido de licitante.
- (B) vício no edital.
- (C) conveniência do Poder Público.
- (D) fato superveniente e motivação.

QUESTÃO 50

Das demonstrações contábeis da Cia. São José de Anchieta foram extraídos os seguintes elementos, referentes ao exercício social de 2016:

Capital Próprio	R\$ 720,00
Participação do Capital de Terceiros	60%
Passivo Circulante	R\$ 400,00
Liquidez Corrente	1,50
Realizável a Longo Prazo	R\$ 00,00
Liquidez Seca	1,05

Diante dessas informações, pode-se afirmar que o índice de liquidez geral da Cia. corresponde a

- (A) 2,55
- (B) 1,50
- (C) 1,39
- (D) 0,83

CONCURSO PÚBLICO

CÂMARA MUNICIPAL DE SANTA LUZIA EDITAL 001/2017

PARA VOCÊ DESTACAR E CONFERIR O SEU GABARITO.

01	
02	
03	
04	
05	
06	
07	
08	
09	
10	

11	
12	
13	
14	
15	
16	
17	
18	
19	
20	

21	
22	
23	
24	
25	
26	
27	
28	
29	
30	

31	
32	
33	
34	
35	
36	
37	
38	
39	
40	

41	
42	
43	
44	
45	
46	
47	
48	
49	
50	

