


CONCURSO PÚBLICO



ACADEMIA DE POLÍCIA DO ESTADO DE MINAS GERAIS

CADERNO DE PROVAS

CARGO	PERITO CRIMINAL DA POLÍCIA CIVIL
CADERNO 31R	ESPECIALIDADE/ÁREA DO CONHECIMENTO: <ul style="list-style-type: none">• PERITO CRIMINAL
PROVAS:	<ul style="list-style-type: none">• LÍNGUA PORTUGUESA• MATEMÁTICA• NOÇÕES DE CRIMINALÍSTICA• NOÇÕES DE MEDICINA LEGAL• NOÇÕES DE CONTABILIDADE• NOÇÕES DE INFORMÁTICA• DIREITOS HUMANOS 

LEIA ATENTAMENTE AS INSTRUÇÕES ABAIXO:

1. Este caderno de provas contém um total de 60 (sessenta) questões objetivas, sendo 10 de Língua Portuguesa, 10 de Matemática, 10 de Noções de Criminalística, 10 de Noções de Medicina Legal, 8 de Noções de Contabilidade, 7 de Noções de Informática e 5 de Direitos Humanos. Confira-o.
2. Assinale na sua Folha de Respostas o tipo de sua prova: **Gabarito A ou Gabarito B.**
3. Esta prova terá, no máximo, 4 (quatro) horas de duração, incluído o tempo destinado à transcrição de suas respostas no gabarito oficial.
4. Respondidas as questões, você deverá passar o gabarito para a sua folha de respostas, usando caneta esferográfica azul ou preta.
5. Em nenhuma hipótese haverá substituição da Folha de Respostas por erro do candidato.
6. Este caderno deverá ser devolvido ao fiscal, juntamente, com sua folha de respostas, devidamente preenchidos e assinados.
7. O candidato só poderá se ausentar do recinto das provas após 2 (duas) horas contadas a partir do efetivo início das mesmas.
8. Você pode transcrever suas respostas na última folha deste caderno, que poderá ser destacada.
9. O gabarito oficial da prova objetiva será divulgado no endereço eletrônico www.fumarc.org.br, dois dias depois da realização da prova.
10. A comissão organizadora da FUMARC Concursos lhe deseja uma boa prova.



Prezado(a) candidato(a):

Coloque seu número de inscrição e nome no quadro abaixo:

Nº de Inscrição	Nome

ASSINALE A RESPOSTA CORRETA.

PROVA DE LÍNGUA PORTUGUESA – Cad. 31 B

INSTRUÇÃO: Leia com atenção o texto a seguir para responder às questões **01 a 04**.

TEXTO 1

Redução da maioria penal: O elo perdido

Robson Sávio Reis Souza

Todas as vezes que ocorre um crime a provocar grande comoção nacional, parte da sociedade brasileira – capitaneada por um discurso minimalista e conservador, com repercussão imediata na grande mídia – clama por leis draconianas como lenitivo para diminuir a criminalidade violenta. Foi assim com a "criação" da lei de crimes hediondos, por exemplo. O resultado desse tipo de medida repressiva e pontual – objetivando o adensamento do estado penal – não apresenta resultado efetivo em termos de diminuição dos crimes.

É admissível e compreensível que, diante de um crime bárbaro, os parentes da vítima desejem vingança. Sob o ponto de vista privado, essa é uma prerrogativa do indivíduo; dos que sofrem a violência desproporcional de qualquer forma e estão sob o impacto dela. Porém, o Estado não tem essa prerrogativa. Considerando-se que o indivíduo pode, intimamente, desejar vingança (haja vista nossa cultura judaico-cristã, que valoriza os atos sacrificiais), o Estado – mantenedor das conquistas do processo civilizatório, cuja base está na garantia dos direitos humanos – não pode ser vingativo e passional em seus atos.

A mesma indignação que move muitas pessoas a desejarem o recrudescimento penal (desde que seja sempre direcionado para o outro) em momentos de comoção não é mobilizadora frente à violência e carnificina generalizadas que atingem, cotidianamente, milhares de pessoas. Segundo o Ministério da Saúde, do total de 1.103.088 mortes notificadas em 2009, 138.697 (12,5%) foram decorrentes de causas externas (que poderiam ser evitáveis), representando a terceira causa mais frequente de morte no Brasil.

A resposta simplista, da sociedade e do Estado, para enfrentar a criminalidade violenta é o encarceramento. Nos últimos 20 anos, nosso sistema prisional teve um crescimento de 450%. Hoje, são mais de 550 mil presos (cerca de 60% cometeram crimes contra o patrimônio; 30%, crimes relacionados a drogas e menos de 10% crimes contra a vida). Superlotado, o sistema prisional tem um déficit de cerca de 250 mil vagas. Em condições degradantes e subumanas, quase 80% dos egressos prisionais voltam a praticar crimes. É neste sistema que desejamos trancafiar adolescentes autores de atos infracionais?

Paradoxalmente, nesse período de brutal encarceramento, as taxas de crimes violentos mantiveram-se em patamares elevadíssimos. A Organização Mundial de Saúde informa que taxas de homicídio acima de 10 mortes por 100 mil habitantes são epidêmicas. A média brasileira, nesse quesito, é de 29 por 100 mil, sendo que na maioria das capitais essa cifra supera 30 homicídios por 100 mil, chegando, por exemplo, em Maceió, à estrondosa cifra de 86 por 100 mil, ou seja, oito vezes mais do que o aceitável. Segundo relatório recente da ONG mexicana Conselho Cidadão para Segurança Pública e Justiça Penal, dentre as 34 nações mais violentas, o Brasil encontra-se em 13º lugar. No *ranking* das 50 cidades mais violentas do mundo, 15 são do Brasil. Por que assistimos a esse massacre com tanta passividade? [...]

(Excerto do Artigo publicado no Jornal Estado de Minas, de 25/05/2013, Caderno "Pensar e Agir").

QUESTÃO 01

A partir da leitura do Texto 1, é **CORRETO** afirmar:

- (A) O autor equivale a polêmica dos crimes hediondos com a atual discussão sobre a maioria penal.
- (B) O encarceramento dos infratores é apresentado como solução para baixar as taxas de crimes violentos.
- (C) A comoção social está contribuindo para o recrudescimento da violência entre adolescentes.
- (D) Fica comprovado o comprometimento passional do Estado como prerrogativa.

QUESTÃO 02

A alternativa cujo **argumento NÃO** fundamenta o **posicionamento** do autor é:

- (A) Número de mortes notificadas pelo Ministério da Saúde ► Alto índice de mortes evitáveis.
- (B) Relatório da ONG mexicana Conselho Cidadão para Segurança Pública e Justiça Penal ► Cidades brasileiras entre as mais violentas do mundo.
- (C) Taxas de homicídio da Organização Mundial de Saúde ► Números brasileiros acima do parâmetro epidêmico.
- (D) Total de presos no sistema prisional do Estado ► Responsável pelo massacre social.

QUESTÃO 03

*Todas as vezes que ocorre um crime a provocar grande **comoção** nacional, parte da sociedade brasileira – capitaneada por um discurso **minimalista** e conservador, com repercussão imediata na grande mídia – clama por leis **draconianas** como **lenitivo** para diminuir a criminalidade violenta.*

A alternativa cujo sinônimo da palavra em destaque **NÃO** contribui para a produção de sentido do período acima destacado é:

- (A) **Comoção**: agitação social, forte emoção.
- (B) **Draconianas**: código de leis atribuído a Dracon, legislador ateniense.
- (C) **Lenitivo**: que mitiga dores.
- (D) **Minimalista**: que defende a redução de funções e poderes de organizações políticas.

QUESTÃO 04

A alternativa que contém período composto por subordinação é:

- (A) A resposta simplista, da sociedade e do Estado, para enfrentar a criminalidade violenta é o encarceramento.
- (B) No *ranking* das 50 cidades mais violentas do mundo, 15 são do Brasil.
- (C) Paradoxalmente, nesse período de brutal encarceramento, as taxas de crimes violentos mantiveram-se em patamares elevadíssimos.
- (D) Porém, o Estado não tem essa prerrogativa.

Leia com atenção o texto a seguir para responder às questões 05 a 07.

TEXTO 2**Redução da maioria penal: O elo perdido**

Robson Sávio Reis Souza

[...]

Enquanto apontamos os dedos para adolescentes infratores, milícias e esquadrões da morte formados, inclusive, por agentes públicos, continuam impunes.

A redução da maioria penal pode ser defensável sob o ponto de vista da racionalidade instrumental pós-moderna, do minimalismo midiático, das emoções pessoais e mesmo do sentimento coletivo de vingança e punição. Porém, não se sustenta sob o ponto de vista de uma ética da alteridade, da generosidade e da responsabilidade de todos nós, adultos, que devemos reconhecer que o segmento mais vulnerável da nossa população, os adolescentes – tratados como "futuro do país" –, não tem seus direitos garantidos no presente.

A querela acerca da redução da maioria penal em boa medida é fruto do sensacionalismo e do desconhecimento em relação à ampliação descomunal do Estado penal. Lastreado na exploração da emoção e na de-

sinformação da maioria dos brasileiros sobre a baixa eficiência das políticas públicas protetivas – que deveriam preceder qualquer medida punitiva –, esse debate sustenta, lamentavelmente, o discurso oportunista e eleitoreiro de políticos que descumprem impunemente aquilo que tanto atacam o ECA.

A relação entre a violência e a imputabilidade penal é um sofisma. O debate sobre o tempo da pena ou da idade do infrator é secundário. Serve para lançar uma nuvem de fumaça a encobrir a questão fulcral: quais são condições objetivas que favorecem a criminalidade em nosso país?

Nossas crianças e adolescentes demandam por mais Estado constitucional e menos Estado penal.

(Excerto do Artigo publicado no Jornal Estado de Minas, de 25/05/2013, Caderno "Pensar e Agir").

QUESTÃO 05

Sobre o posicionamento do autor, é **INCORRETO** afirmar que

- (A) mostra que discursos eleitoreiros podem mascarar atitudes desrespeitosas ao Estatuto da Criança e do Adolescente.
- (B) propõe reflexões sobre a responsabilidade social para com os adolescentes que, em grande parte, não têm seus direitos garantidos.
- (C) comprova que o Estado penal é instrumento eficaz para as políticas públicas protetivas.
- (D) defende os adolescentes e mostra que a redução da maioridade penal não irá resolver o problema da criminalidade.

QUESTÃO 06

A alternativa que contém exemplo de **metáfora** é:

- (A) A querela acerca da redução da maioridade penal [...].
- (B) Serve para lançar uma nuvem de fumaça a encobrir a questão fulcral: [...].
- (C) Porém, não se sustenta sob o ponto de vista de uma ética da alteridade, [...].
- (D) A relação entre a violência e a imputabilidade penal é um sofisma.

QUESTÃO 07

A *Concordância Verbal* justifica-se pelo **sujeito composto** em:

- (A) O debate sobre o tempo da pena ou da idade do infrator é secundário.
- (B) Porém, não se sustenta sob o ponto de vista de uma ética da alteridade, da generosidade e da responsabilidade de todos nós, adultos, [...].
- (C) [...] esse debate sustenta, lamentavelmente, o discurso oportunista e eleitoreiro de políticos [...].
- (D) Nossas crianças e adolescentes demandam por mais Estado constitucional e menos Estado penal.

QUESTÃO 08

Quanto à classificação das figuras de linguagem presentes nas seguintes propagandas, a alternativa **INCORRETA** é:

- (A) HIPÉRBOLE: Vem que aqui cabe um país inteiro. (Automóvel)
- (B) METÁFORA: Leve sua paixão para passear em Veneza. (Cosméticos)
- (C) IRONIA: A gente faz um mundo para você voar mais. (Empresa aérea)
- (D) METONÍMIA: Um passeio infinito pelas curvas de Oscar Niemeyer. (Jóias)

QUESTÃO 09

Sobre os princípios da Redação Oficial, é **INCORRETO** o que se afirma em

- (A) A clareza deve ser uma qualidade essencial, pois poderá minimizar os equívocos de interpretação.
- (B) Na concordância, o uso dos pronomes adjetivos em 2ª pessoa imprime o devido respeito às autoridades.
- (C) O vocativo correspondente ao Pronome de Tratamento Vossa Excelência é "Excelentíssimo Senhor".
- (D) Por seu caráter impessoal, exige o uso do padrão culto da língua.

Leia com atenção a letra da música, a seguir, para responder à questão 10.

“De Frente pro Crime” (João Bosco - Aldir Blanc)

Tá lá o corpo estendido no chão
Em vez de um rosto uma foto de um gol
Em vez de reza uma praga de alguém
E um silêncio servindo de amém.

O bar mais perto depressa lotou
Malandro junto com trabalhador
Um homem subiu na mesa do bar
E fez discurso pra vereador.

Veio camelô vender anel, cordão, perfume barato
E a baiana pra fazer pastel e um bom churrasco de gato
Quatro horas da manhã baixou o santo na porta-bandeira
E a moçada resolveu parar, e então...

Ta lá o corpo estendido no chão
Em vez de um rosto uma foto de um gol
Em vez de reza uma praga de alguém
E um silêncio servindo de amém.

Sem pressa foi cada um pro seu lado
Pensando numa mulher ou num time
Olhei o corpo no chão e fechei
Minha janela de frente pro crime.

QUESTÃO 10

É **CORRETO** afirmar que o tema principal dessa música é a

- (A) banalização do crime.
- (B) injustiça social.
- (C) rotina nas grandes cidades.
- (D) solidariedade humana.

PROVA DE MATEMÁTICA – Cad. 31 B**QUESTÃO 11**

O Sr. João é um economista aposentado que resolveu melhorar sua qualidade de vida comprando uma pousada com 40 suítes em uma bela região praiana. Com base em dados do proprietário anterior, ele deduziu duas funções para gerenciar seu negócio: a função do preço (p) por diária da suíte (x) e a da receita (R). As funções foram definidas, respectivamente, por: $p(x) = -5x + 350$ e $R(x) = -5x^2 + 350x$.

Considerando essas funções, o preço que o Sr. João deve cobrar para maximizar a receita é

- (A) R\$ 225,00
- (B) R\$ 190,00
- (C) R\$ 175,00
- (D) R\$ 150,00

QUESTÃO 12

Uma entidade filantrópica fez um levantamento dos serviços prestados em certa região e observou que 1.680 famílias foram atendidas por uma equipe de 12 funcionários em 5 dias de trabalho de 8 horas por dia. Elaborou um novo planejamento logístico em que as equipes seriam formadas por 5 funcionários que iriam trabalhar 6 dias de 4 horas por dia. Nesse novo planejamento, o número de famílias que serão atendidas por equipe será igual a

- (A) 420
- (B) 840
- (C) 290
- (D) 350

QUESTÃO 13

Uma companhia aérea decidiu solicitar a uma empresa especializada kits contendo uma mistura de sementes oleaginosas para ofertar aos seus clientes. Os kits deveriam conter 100 g de uma mistura de amendoim, amêndoa e avelã. A companhia aérea solicitou que a quantidade de amêndoa fosse igual a um terço da soma das outras duas e informou que estava disposta a pagar R\$ 1,15 por kit. A empresa especializada sabe que o quilo do amendoim custa R\$ 5,00, o de amêndoa, R\$ 20,00 e o de avelã, R\$ 16,00. A quantidade, **em gramas**, de cada semente que a empresa deve colocar em cada kit, de tal maneira que atenda a todas as exigências estabelecidas pela companhia aérea, deverá ser, **respectivamente**, de:

- (A) 50; 20; 30.
- (B) 50; 25; 25.
- (C) 60; 20; 20.
- (D) 60; 15; 25.

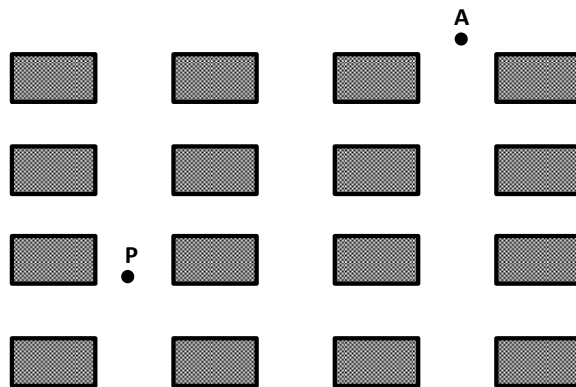
QUESTÃO 14

Um artista recebeu uma encomenda para fazer um painel, esculpindo em uma chapa de aço folhas e flores. Para determinar o formato do painel, o artista considerou a chapa de aço como um plano cartesiano cujos eixos a dividiram em quatro quadrantes. Utilizou um segmento de reta e o deslocou nesse plano cartesiano, de tal forma que uma das extremidades permanecia sempre no eixo y e o seu ponto médio permanecia sempre no eixo x . Dessa maneira, o formato da figura desenhada pela outra extremidade é uma

- (A) circunferência.
- (B) elipse.
- (C) hipérbole.
- (D) parábola.

QUESTÃO 15

Um policial faz sua ronda em uma região formada por 16 quarteirões dispostos segundo a figura abaixo. Ele encontrava-se exatamente no ponto P quando recebeu um aviso pelo rádio informando sobre um assaltante localizado no ponto A . O policial dirige-se ao local em que se encontra o assaltante pelo caminho mais curto, isto é, movendo-se da esquerda para a direita e de baixo para cima.



Nessas condições, o número de caminhos diferentes que o policial poderá fazer é:

- (A) 20
- (B) 15
- (C) 10
- (D) 6

QUESTÃO 16

Uma empreiteira está construindo um parque e o paisagista determinou que, ao longo de uma das ruas retilíneas, serão plantadas 60 palmeiras imperiais com distância de 1 metro entre uma e outra, cujas covas já estão preparadas. O funcionário responsável pelo plantio, colocação das palmeiras nas covas previamente preparadas, recebe as mudas de uma plataforma situada a uma distância de 15 metros da primeira palmeira plantada e, a cada viagem, consegue carregar somente 3 palmeiras. Começando e terminando na plataforma, o percurso total, **em metros**, que ele terá que caminhar até colocar todas as palmeiras em suas respectivas covas será igual a

- (A) 2.190
- (B) 1.820
- (C) 1.480
- (D) 910

QUESTÃO 17

Uma pesquisa sobre acidentes em rodovias observou que, de todos os acidentes fatais, 24% envolveram capotagens e 15,8%, carros utilitários. Considerando que uma capotagem não tenha sido envolvida, 5,6% de todos os acidentes fatais envolveram carros utilitários. Sabendo-se que o acidente fatal envolveu um carro utilitário, a probabilidade de que ele tenha sido capotagem é de, aproximadamente,

- (A) 11,5%.
- (B) 94,4%.
- (C) 38%.
- (D) 48%.

QUESTÃO 18

Duas sequências são formadas pelos termos gerais: $a_n = \left(\frac{(-1)^{n+1}}{2n-1}\right)$ e $b_n = (-1)^n \left(\frac{n+1}{2n-1}\right)$. Quando n tende para o infinito, pode-se observar que o comportamento dessas sequências é dado, **respectivamente**, por:

- (A) Divergente; convergente para zero.
- (B) Divergente; divergente.
- (C) Convergente para zero; divergente.
- (D) Convergente para zero; convergente para zero.

QUESTÃO 19

Com o objetivo de diversificar sua renda, um produtor rural decidiu construir um tanque para criar tilápias. Colocou, inicialmente, 1.000 tilápias e, descuidadamente, deixou cair também 8 piabas. Suponha que o aumento das populações de piabas e tilápias ocorre segundo as leis $P(t)=P_0 10^t$ e $T(t)=T_0 2^t$, respectivamente, em que P_0 é a população inicial de piabas, T_0 é a população inicial de tilápias e t o número de anos contados a partir do ano inicial. O tempo, **em anos**, em que o número de piabas será igual ao número de tilápias é

- (A) 18
- (B) 12
- (C) 6
- (D) 3

QUESTÃO 20

Um laboratório está testando um tipo de isca para formigas. A isca tem o formato de uma circunferência e foi fixada numa bancada experimental, quadriculada por um plano cartesiano, com centro em $(0, -2)$. Uma formiga tangenciou a isca no ponto $(1, 2)$.

A equação da reta tangente à circunferência nesse ponto é dada por:

- (A) $4y + x = 9$
- (B) $4y - x = 7$
- (C) $y = 4x + 2$
- (D) $y = 4x - 2$

PROVA DE NOÇÕES DE CRIMINALÍSTICA – Cad. 31 B**QUESTÃO 21**

Em relação às normas legais atinentes ao trabalho pericial, **NÃO** é correto afirmar:

- (A) As partes legalmente admitidas nos casos que exigem a atuação do Perito Criminal poderão formular quesitos que serão a ele encaminhados.
- (B) Em localidades onde não haja a presença do Perito Criminal Oficial, o exame técnico será feito por duas pessoas idôneas que possuam a habilitação técnica para realizá-lo.
- (C) No caso que exija a atuação de perito não oficial, é obrigatório seu compromisso para o bom e fiel desempenho da atividade.
- (D) Quando a transgressão deixar vestígios, requerendo a atuação do Perito Criminal, é facultativa a realização do corpo de delito direto ou indireto.

QUESTÃO 22

Nos casos de crimes contra o patrimônio, com relação à avaliação prevista nas normas legais, é **CORRETO** afirmar:

- (A) A avaliação indireta é solicitada quando o Perito possui apenas informações acerca do objeto em questão, fornecidas pela vítima, independentemente de constarem ou não dos autos.
- (B) Quando acionado para proceder a uma avaliação direta, o Perito estará se deparando com o objeto *in natura*, podendo contar com sua perspicácia, sua acuidade técnica e seus órgãos de sentido para desenvolver seu trabalho.
- (C) Somente objetos em perfeitas condições de manutenção, uso e funcionamento serão avaliados diretamente.
- (D) Somente serão solicitadas ao Perito Criminal avaliações de objetos que permitam seu deslocamento à presença do *expert*, para que o trabalho se desenvolva a contento.

QUESTÃO 23

No estudo das normas legais atinentes ao trabalho técnico pericial, **NÃO** é correto afirmar:

- (A) É permitida à autoridade requisitante de um trabalho pericial outra solicitação acerca do mesmo fato ou local, quando haja divergência entre os peritos.
- (B) No exame documentoscópico, atinente ao reconhecimento de escritos, a autoridade requisitará, se necessário, documentos de estabelecimentos ou arquivos públicos.
- (C) O magistrado, ao ter em mãos o laudo pericial, aceita ou recusa o trabalho e sua consequente conclusão, em sua totalidade.
- (D) O Perito Criminal constará no laudo pericial as alterações perceptíveis quando do levantamento de local, fazendo menção de suas consequências no respectivo relatório técnico.

QUESTÃO 24

São perícias da área de crimes contra o patrimônio, **EXCETO**:

- (A) Avaliação direta e indireta.
- (B) Constatação de danos.
- (C) Encontro de ossada.
- (D) Natureza e eficiência de instrumento de furto.

QUESTÃO 25

O estudo dos vestígios em um local de crime tem como objetivo, **EXCETO**:

- (A) demonstrar subjetivamente a existência do fato delituoso.
- (B) estabelecer a dinâmica do evento.
- (C) reconstruir a cena do fato em apuração.
- (D) trabalhar para a identificação da vítima.

QUESTÃO 26

É **CORRETO** o que se afirma em:

- (A) As investigações criminais se relacionam com pessoas ou com coisas, mas somente as pessoas cometem crimes e o fazem, invariavelmente, através de instrumentos.
- (B) No local de crime, vestígio é a alteração do ambiente relacionada com a ação criminosa, excetuando-se seus atores.
- (C) São vestígios voláteis: gasolina, bactérias e thinner.
- (D) Vestígios duradouros são, dentre outros, ossos, álcool e minerais.

QUESTÃO 27

O Perito Criminal obtém os vestígios e as evidências físicas, **EXCETO**:

- (A) do suspeito e seu ambiente.
- (B) da cena do crime propriamente dita.
- (C) da vítima.
- (D) da oitiva das testemunhas.

QUESTÃO 28

Quanto ao referencial de produção, classificam-se os vestígios, **EXCETO** como:

- (A) Alternativo.
- (B) Forjado.
- (C) Ilusório.
- (D) Verdadeiro.

QUESTÃO 29

Analise as afirmativas e identifique-as com **V** ou **F**, conforme sejam **verdadeiras** ou **falsas**.

- () São três as finalidades da prova material: constatar a existência do delito, verificar sua dinâmica e indicar a autoria.
- () As origens dos vestígios se subdividem em: biológica e fisiológica; química e físico-mecânica.
- () Nem todo material que for encontrado em local de crime ou mantiver qualquer relação com o fato delituoso está sujeito ao exame pericial.
- () O exame de um local de crime qualquer se divide em duas etapas: o exame do local propriamente dito e os exames laboratoriais.

A sequência **CORRETA**, de cima para baixo, é:

- (A) V - V - F - F
- (B) V - F - F - V
- (C) V - V - F - V
- (D) F - V - V - F

QUESTÃO 30

Sobre o contexto geral do trabalho pericial é **CORRETO** afirmar:

- (A) Sangue, saliva, esperma, fibras, fezes e urina são considerados substâncias biológicas.
- (B) Mancha é indício que se apresenta sob a forma de crosta aderida a uma superfície (suporte).
- (C) Várias são as impressões humanas constatadas no local, dentre elas as digitais, palmares, plantares, ferruginosas e dentárias.
- (D) Vidros, metais, graxas, vômito e tecido são considerados substâncias não biológicas.

PROVA DE NOÇÕES DE MEDICINA LEGAL – Cad. 31 B**QUESTÃO 31**

Na modalidade de disparo de arma de fogo (convencional de empunhadura) denominada de “tiro a curta distância”, os seguintes elementos atingem a vítima, **EXCETO**:

- (A) Chama.
- (B) Fuligem.
- (C) Partículas metálicas.
- (D) Projétil.

QUESTÃO 32

Nas lesões produzidas por projéteis de arma de fogo cicatrizadas (antigas), ocorre o desaparecimento dos elementos característicos das feridas perfurocontusas. Nesses casos, nos cadáveres, o exame histológico torna-se relevante.

No diagnóstico histoquímico específico para o chumbo, é utilizado

- (A) Estearato de magnésio.
- (B) Glicolato de amido sódico.
- (C) Permanganato de potássio.
- (D) Rodizonato de sódio.

QUESTÃO 33

A classificação das queimaduras, que se baseia na área corporal atingida, é de grande importância para caracterizar o “perigo de vida” sob o ponto de vista jurídico. Considerando a regra dos nove de *Pulaski e Tennison*, citado por Genival Veloso, uma queimadura comprometendo todo o membro inferior direito e a genitália externa, em uma mulher adulta, corresponde a

- (A) 9% da superfície corporal.
- (B) 19% da superfície corporal.
- (C) 18% da superfície corporal.
- (D) 10% da superfície corporal.

QUESTÃO 34

Considerando as asfixias em espécie, a presença de um sulco “horizontal, uniforme em toda a periferia da região cervical, contínuo, duplo, inferior à cartilagem tireoide do esqueleto da laringe e de igual profundidade em toda a sua extensão” é compatível com

- (A) Estrangulamento.
- (B) Esgorjamento.
- (C) Esganadura.
- (D) Enforcamento.

QUESTÃO 35

Corresponde a uma lesão que compromete, tipicamente, a epiderme e não deixa cicatriz no processo de regeneração, determinando o *restitutio ad integrum*:

- (A) Víbice.
- (B) Petéquia.
- (C) Escoriação.
- (D) Equimose.

QUESTÃO 36

O esboço vascular na derme, denominado de *circulação póstuma de Brouardel*, caracteriza o período

- (A) liquefativo da putrefação.
- (B) gasoso da putrefação.
- (C) cromático da putrefação.
- (D) coliquativo da putrefação.

QUESTÃO 37

Considerando o ponto crioscópico do sangue, o valor **mais provável**, apurado em uma autópsia de um cadáver na fase gasosa da putrefação, é:

- (A) $-0,77^{\circ}\text{C}$.
- (B) $-0,57^{\circ}\text{C}$.
- (C) $-0,55^{\circ}\text{C}$.
- (D) $-0,35^{\circ}\text{C}$.

QUESTÃO 38

Usando como referência o espectro equimótico de *Legrand du Saulle*, uma “equimose figurada” de tonalidade amarelada é compatível, em geral, com

- (A) três dias de evolução após o trauma.
- (B) seis dias de evolução após o trauma.
- (C) nove dias de evolução após o trauma.
- (D) doze dias de evolução após o trauma.

QUESTÃO 39

Considerando a presença de uma equimose, de tonalidade vermelha, localizada na conjuntiva ocular, é **CORRETO** afirmar que

- (A) possui três dias de evolução após o trauma.
- (B) possui um dia de evolução após o trauma.
- (C) permanece de colorido vermelho até sua total reabsorção.
- (D) contempla o espectro equimótico de *Legrand du Saulle*.

QUESTÃO 40

Em um evento de maceração asséptica, classificada como de segundo grau (segunda semana de morte fetal), esperamos encontrar, **EXCETO**:

- (A) Rotura de flictenas epidérmicas.
- (B) Líquido amniótico sanguinolento.
- (C) Epiderme arroxeadada.
- (D) Deformação craniana.

PROVA DE NOÇÕES DE CONTABILIDADE – Cad. 31 B**QUESTÃO 41**

Na determinação da amostra, o auditor deve levar em consideração os seguintes fatores, **EXCETO**:

- (A) estratificação da amostra.
- (B) população objeto da amostra.
- (C) risco da amostragem.
- (D) seleção aleatória da amostra.

QUESTÃO 42

No que concerne à escrituração e consolidação das contas, o artigo 50 da Lei Complementar nº 101, de 4 de maio de 2000 - LRF, dispõe que, além de se obedecer às demais normas de contabilidade pública, deve-se observar, **EXCETO**:

- (A) Apresentação das receitas e despesas previdenciárias em demonstrativos financeiros e orçamentários específicos.
- (B) Destaque, nas receitas de operações de crédito, dos valores referentes ao refinanciamento da dívida mobiliária, dispensando-se tal procedimento nas despesas com amortização da dívida.
- (C) Registro da despesa e a assunção de compromisso, segundo o regime de competência, apurando-se, em caráter complementar, o resultado dos fluxos financeiros pelo regime de caixa.
- (D) Registro próprio da disponibilidade de caixa, de modo que os recursos vinculados a órgão, fundo ou despesa obrigatória fiquem identificados e escriturados de forma individualizada.

QUESTÃO 43

A Técnica de Auditoria denominada Exame da Documentação Original é um procedimento voltado para a comprovação das transações que, por exigências legais, comerciais ou de controle, são evidenciadas por documentos comprobatórios dessas transações. Assim, o exame realizado pelo auditor sobre tais documentos deve atender às seguintes condições, **EXCETO**:

- (A) Aprovação – verificação de que a operação e os documentos foram aprovados por pessoa autorizada.
- (B) Autenticidade – constatação de que a documentação seja fidedigna e merecedora de crédito.
- (C) Inspeção – exame de registros, documentos e de ativos tangíveis.
- (D) Normalidade – constatação de que a transação se refere a operação normal e de acordo com os objetivos da empresa.

QUESTÃO 44

NÃO diz respeito às emendas que não serão admitidas no projeto de Lei de Orçamento, nos termos do artigo 33 da Lei nº 4.320/64, aquelas que visem conceder dotação

- (A) e crédito para a solicitação de despesa de custeio, ainda que provada, nesse ponto, a exatidão ou não da proposta.
- (B) para instalação ou funcionamento de serviço que não esteja anteriormente criado.
- (C) para o início de obra cujo projeto não esteja aprovado pelos órgãos competentes.
- (D) superior aos quantitativos previamente fixados em resolução do Poder Legislativo para concessão de auxílios e subvenções.

QUESTÃO 45

Os principais objetivos do Planejamento da Auditoria são, **EXCETO**:

- (A) assegurar que as áreas importantes da entidade e os valores relevantes contidos em suas demonstrações contábeis recebam a atenção requerida.
- (B) propiciar o cumprimento dos serviços contratados com a entidade dentro dos prazos e compromissos previamente estabelecidos.
- (C) identificar clientes e fornecedores estratégicos ou importantes da empresa, para a definição da forma de relacionamento com eles.
- (D) obter conhecimento das atividades da entidade, para identificar eventos e transações relevantes que afetem as demonstrações contábeis.

QUESTÃO 46

Ao final de um período de operações, uma determinada empresa apresentou os saldos abaixo, relativos a algumas de suas contas:

Receita Líquida - R\$ 80.000,00
Ativo Total - R\$ 50.000,00
Margem Líquida - 8,00%
Giro do Ativo - 1,60

Com base nesses dados, a rentabilidade do ativo total da empresa em questão é da ordem de

- (A) 12,80%.
- (B) 16,00%.
- (C) 5,00%.
- (D) 6,25%.

QUESTÃO 47

Nos termos do artigo 43, da Lei nº 4.320/64, a abertura dos créditos suplementares e especiais depende da existência de recursos disponíveis para ocorrer a despesa e será precedida de exposição justificativa.

Nesse sentido, pode ser considerado como recurso para o fim deste artigo, desde que não comprometido,

- (A) o proveniente do excesso de arrecadação oriunda do produto de qualquer operação de crédito.
- (B) o superávit financeiro apurado em balanço patrimonial do exercício anterior.
- (C) o crédito adicional com vigência adstrita ao exercício financeiro.
- (D) o crédito extraordinário aberto por decreto do Poder Executivo.

QUESTÃO 48

O conhecimento do sistema contábil e de controles internos é fundamental para o Planejamento da Auditoria e necessário para determinar a natureza, extensão e oportunidade dos procedimentos de auditoria, devendo o auditor, **EXCETO**

- (A) avaliar o grau de confiabilidade das informações geradas pelo sistema contábil, sua temporalidade e sua utilização pela administração.
- (B) ter conhecimento do sistema de contabilidade adotado pela entidade e de sua integração com os sistemas de controles internos.
- (C) avaliar o grau de confiabilidade dos controles internos adotados pela entidade, mediante a aplicação de provas de procedimentos de controle, dentro da abrangência definida na respectiva norma contábil.
- (D) dimensionar seus efeitos na posição patrimonial e financeira e no resultado da entidade.

PROVA DE NOÇÕES DE INFORMÁTICA – Cad. 31 B**QUESTÃO 49**

Analise as seguintes afirmativas sobre as propriedades de arquivos e pastas no Windows XP, versão português:

- I. A opção avançada “Compactar o conteúdo para economizar espaço em disco” especifica se o arquivo ou pasta foi compactado.
- II. A opção avançada “Criptografar o conteúdo para proteger os dados” especifica que o arquivo ou pasta será criptografado.
- III. Arquivos e pastas criptografados podem ser compactados.

Estão **CORRETAS** as afirmativas:

- (A) I, II e III.
- (B) I e II, apenas.
- (C) I e III, apenas.
- (D) II e III, apenas.

QUESTÃO 50

O primeiro endereço IP de uma organização é 194.24.8.0 e o último é 194.24.11.255. O endereçamento IP dessa organização também pode ser escrito como:

- (A) 194.24.8.0/23
- (B) 194.24.8.0/22
- (C) 194.24.8.0/21
- (D) 194.24.8.0/20

QUESTÃO 51

Para documentos protegidos no Microsoft Word, versão português do Office 2003, é possível permitir os seguintes tipos de edição pela opção “Restrições de edição”, **EXCETO**:

- (A) Alterações controladas
- (B) Comentários
- (C) Editando tabelas
- (D) Preenchendo formulários

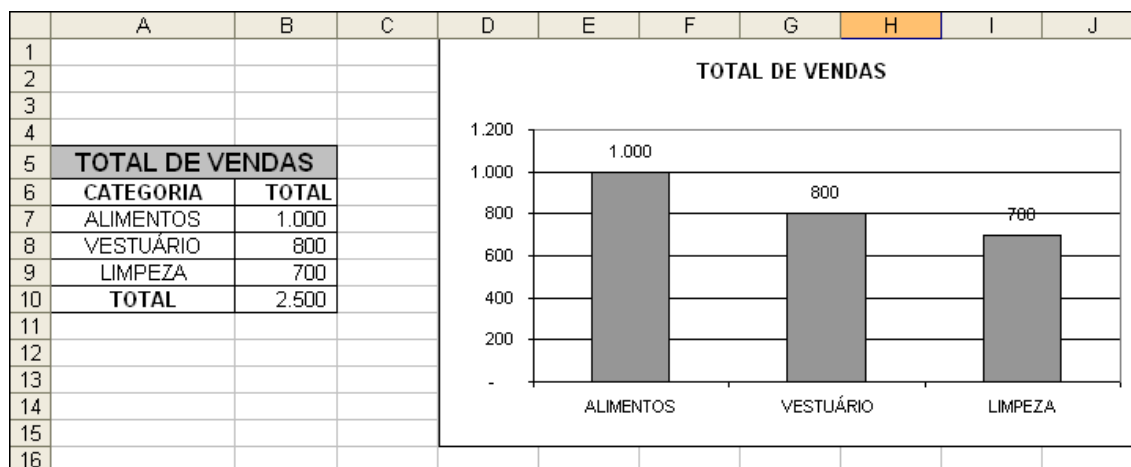
QUESTÃO 52

Selecione o texto definido com o efeito “Versalete” no Microsoft Word, versão português do Office 2003:

- (A) TEXTO DO MICROSOFT WORD
- (B) ~~Texto do Microsoft Word~~
- (C) TEXTO DO MICROSOFT WORD
- (D) Texto do Microsoft Word

QUESTÃO 53

Considere a planilha abaixo do Microsoft Excel, versão português do Office 2003.



Analise os itens a seguir, marcando com **(V)** a assertiva **verdadeira** e com **(F)** a assertiva **falsa**.

- () O conteúdo da célula **B10** pode ser “=TOTAL(B7:B9)”.
- () O intervalo de células **B7:B10** pode ter sido formatado com a categoria “Número” e a opção “Usar separador de 1000 (.)” marcada.
- () O gráfico exibido é do tipo “Barras”.
- () A exibição dos rótulos de dados do gráfico pode ter sido configurada na janela “Formatar Série de Dados”, acionada pelo menu de contexto correspondente.

A sequência **CORRETA**, de cima para baixo, é:

- (A) V, V, F, V.
- (B) V, F, V, F.
- (C) F, V, V, V.
- (D) F, V, F, V.

QUESTÃO 54

São opções do menu “Inserir” do Microsoft PowerPoint, versão português do Office 2003, **EXCETO**:

- (A) Cabeçalho do slide
- (B) Duplicar slide
- (C) Novo slide...
- (D) Número do slide

QUESTÃO 55

Fragmento de programa que é unido a um programa legítimo com a intenção de infectar outros programas é denominado como

- (A) Cookies
- (B) Spiders
- (C) Vírus
- (D) Worms

PROVA DE DIREITOS HUMANOS – Cad. 31 B**QUESTÃO 56**

Considerando a proteção do “direito à vida” na Convenção Americana de Direitos Humanos de 1969 (Pacto São José da Costa Rica), leia as seguintes afirmativas:

- I. Os países que aboliram a pena de morte poderão restabelecê-la em casos excepcionais e mediante a criação de lei anterior que defina a conduta e estabeleça a pena, proibindo-se a sua imposição ou decretação por juízo ou tribunal de exceção.
- II. A pena de morte, nos países que a admitem, poderá ser aplicada a delitos comuns conexos com delitos políticos.
- III. Não se deve impor a pena de morte a pessoa que, no momento da perpetração do delito, for menor de dezoito anos, ou maior de setenta, nem aplicá-la a mulher em estado de gravidez.
- IV. Toda pessoa condenada à morte tem direito a solicitar anistia, indulto ou comutação da pena, os quais podem ser concedidos em todos os casos. Não se pode executar a pena de morte enquanto o pedido estiver pendente de decisão ante a autoridade competente.

São **VERDADEIRAS** apenas as afirmativas

- (A) III e IV.
- (B) II e IV.
- (C) I e IV.
- (D) I e III.

QUESTÃO 57

De acordo com a Convenção Americana de Direitos Humanos de 1969, para que uma petição ou comunicação seja admitida pela Comissão, será necessário que, **EXCETO**:

- (A) a petição seja apresentada por pessoa ou grupo de pessoas, ou entidade não governamental legalmente reconhecida em um ou mais Estados-Membros da Organização, devendo conter o nome, a nacionalidade, a profissão, o domicílio e a assinatura da pessoa ou das pessoas, ou do representante legal da entidade que submeter a petição ou comunicação.
- (B) o país violador haja ratificado ou aderido à Convenção, mesmo que ainda não tenha se manifestado expressamente sobre a competência da Comissão, tendo em vista que o modelo previsto garante a “prevalência dos direitos humanos”.
- (C) seja apresentada dentro do prazo de seis meses, a partir da data em que o presumido prejudicado em seus direitos tenha sido notificado da decisão definitiva.
- (D) a matéria da petição não esteja pendente de outro processo de solução internacional.

QUESTÃO 58

Juan Suárez Silva nasceu na Espanha, filho de mãe espanhola e de pai brasileiro que não estava (na Espanha) a serviço da República Federativa do Brasil. Considerando que Juan foi registrado em repartição brasileira competente e o que dispõe a Constituição brasileira de 1988, é **CORRETO** afirmar que

- (A) a repartição brasileira competente se equivocou ao emitir a certidão de nascimento para Juan, uma vez que seu pai, embora brasileiro, não estava a serviço da República Federativa do Brasil.
- (B) Juan é brasileiro nato e, caso venha a residir no Brasil, não precisará de nenhum ato para consolidar a nacionalidade brasileira.
- (C) Juan é brasileiro nato; mas, se vier a residir no Brasil, deverá transcrever a certidão consular no cartório do local onde fixar a sua residência.
- (D) Juan será considerado brasileiro nato se vier a residir no território da República Federativa do Brasil, sendo que a certidão consular facilita a aquisição definitiva da nacionalidade brasileira.

QUESTÃO 59

Em 1966, a Assembleia Geral das Nações Unidas adotou dois pactos internacionais de direitos humanos para recepcionar e pormenorizar os direitos constantes da Declaração Universal de 1948.

É direito constante da Declaração, mas **NÃO** consta dos Pactos Internacionais de Direitos Humanos de 1966:

- (A) Igualdade entre o homem e a mulher no gozo de todos os direitos civis e políticos.
- (B) Liberdade de locomoção.
- (C) Nacionalidade.
- (D) Presunção de inocência.

QUESTÃO 60

São exemplos de direitos econômicos

- (A) Direito ambiental e Direitos do trabalhador.
- (B) Meio ambiente sadio e Assistência e Previdência Social.
- (C) Segurança individual e Direito do consumidor.
- (D) Transporte integrado à produção e Pleno emprego.

CONCURSO PÚBLICO

ACADEMIA DE POLÍCIA DO ESTADO DE MINAS GERAIS

EDITAL 02/2013

CADERNO 31 R / GABARITO B

PARA VOCÊ DESTACAR E CONFERIR O SEU GABARITO.

01	
02	
03	
04	
05	
06	
07	
08	
09	
10	
11	
12	

13	
14	
15	
16	
17	
18	
19	
20	
21	
22	
23	
24	

25	
26	
27	
28	
29	
30	
31	
32	
33	
34	
35	
36	

37	
38	
39	
40	
41	
42	
43	
44	
45	
46	
47	
48	

49	
50	
51	
52	
53	
54	
55	
56	
57	
58	
59	
60	





Av. Francisco Sales, 540 - Floresta - 30150-220 - Belo Horizonte/MG
(31) 3249-7400 - www.fumarc.org.br / fumarcoconcursos@pucminas.br