

CONCURSO PÚBLICO



PREFEITURA MUNICIPAL DE SETE LAGOAS – MINAS GERAIS

CADERNO DE PROVAS

CADERNO 22	CARGO: <ul style="list-style-type: none">ECONOMISTA
PROVAS:	<ul style="list-style-type: none">LÍNGUA PORTUGUESARACIOCÍNIO LÓGICONOÇÕES DE INFORMÁTICACONHECIMENTOS ESPECÍFICOS

LEIA ATENTAMENTE AS INSTRUÇÕES ABAIXO:

1. Este caderno de provas contém um total de 40 (quarenta) questões objetivas, sendo 10 de Língua Portuguesa, 8 de Raciocínio Lógico, 7 de Noções de Informática e 15 de Conhecimentos Específicos. Confira-o.
2. Esta prova terá, no máximo, **4 (quatro) horas** de duração, incluído o tempo destinado à transcrição de suas respostas no gabarito oficial.
3. Não perca tempo em questões, cujas respostas lhe pareçam difíceis, volte a elas se lhe sobrar tempo.
4. Respondidas as questões, você deverá passar o gabarito para a sua folha de respostas, usando caneta esferográfica azul ou preta.
5. Em nenhuma hipótese haverá substituição da Folha de Respostas por erro do candidato.
6. Este caderno deverá ser devolvido ao fiscal, juntamente, com sua folha de respostas, devidamente preenchidos e assinados.
7. O candidato só poderá se ausentar do recinto das provas após **1 (uma) hora** contada a partir do efetivo início das mesmas.
8. Você pode transcrever suas respostas na última folha deste caderno e a mesma poderá ser destacada.
9. O gabarito oficial da prova objetiva será divulgado no Diário Eletrônico do Município de Sete Lagoas www.diario.setelagoas.mg.gov.br e nos endereços eletrônicos www.fumarc.org.br e www.setelagoas.mg.gov.br e afixado no Prédio da Prefeitura, até o segundo dia útil posterior à realização das provas.
10. A comissão organizadora da FUMARC Concursos lhe deseja uma boa prova.



Prezado(a) candidato(a):

Coloque seu número de inscrição e nome no quadro abaixo:

Nº de Inscrição	Nome
<input type="text"/>	<input type="text"/>

ASSINALE A RESPOSTA CORRETA.

PROVA DE LÍNGUA PORTUGUESA – Caderno 22

Para responder as questões de 01 a 03, considere o texto a seguir:

GOL DA ALEMANHA

Antonio Prata

Gol da Alemanha. Gol da Alemanha. Gol da Alemanha. Gol da Alemanha. Gol da Alemanha. Gol da Alemanha. Gol da Alemanha. O rio Amazonas seca. Gol da Alemanha. Cupins devoram Ouro Preto. Gol da Alemanha. Olinda arde em chamas. Gol da Alemanha. O Cristo cai com um tufão. Gol da Alemanha. Gisele entra num convento. Gol da Alemanha. Prédios de Niemeyer desabam. Gol da Alemanha. (Nenhum político ferido.) Gol da Alemanha. Cyrela reconstrói capital. Gol da Alemanha. Em estilo neoclássico. Gol da Alemanha. Dengue mutante se espalha. Gol da Alemanha. Com terrível novo sintoma. Gol da Alemanha. Flacidez e queda dos glúteos. Gol da Alemanha. Gil e Caetano descobrem-se. Gol da Alemanha. Gagos, roucos e fanhos. Gol da Alemanha. Chico Buarque grava. Gol da Alemanha. "Um Emo Universitário". Gol da Alemanha. João Gilberto admite. Gol da Alemanha. Quem inventou a bossa nova. Gol da Alemanha. Foi o Henry Salvador. Gol da Alemanha. Historiador sentencia. Gol da Alemanha. Santos Dumont chegou tarde. Gol da Alemanha. Quem inventou o avião. Gol da Alemanha. Foram os irmãos Wright. Gol da Alemanha. Exumação comprova. Gol da Alemanha. Carmem Miranda era homem. Gol da Alemanha. Diário revela. Gol da Alemanha. Jece Valadão era gay. Gol da Alemanha. Jean Wyllys confessa. Gol da Alemanha. Sempre fui hétero. Gol da Alemanha. Universidade de Stanford adverte. Gol da Alemanha. Feijão dá câncer e gota. Gol da Alemanha. Sambódromo é vendido. Gol da Alemanha. Pra uma igreja evangélica. Gol da Alemanha. O Municipal é reformado. Gol da Alemanha. Para virar pet shop. Gol da Alemanha. Disney arrenda Lençóis. Gol da Alemanha. E constrói parque do Mickey. Gol da Alemanha. Chapada Diamantina é implodida. Gol da Alemanha. Pra gerar muita brita. Gol da Alemanha. E aterrar o Pantanal. Gol da Alemanha. "O maior estacionamento do mundo!" Gol da Alemanha. O mico-leão é extinto. Gol da Alemanha. Pela última arara-azul. Gol da Alemanha. O derradeiro boto-cor-de-rosa se mata. Gol da Alemanha. Engolindo a última arara. Gol da Alemanha. Autópsia do boto conclui. Gol da Alemanha. Que o rosa era tingimento. Gol da Alemanha. Índios assumem a culpa. Gol da Alemanha. A gente pintava os bichinhos. Gol da Alemanha. E quem pagava eram as Farc. Gol da Alemanha. As aves que aqui gorjeiam. Gol da Alemanha. Tão mudas ou se picaram. Gol da Alemanha. Pai. Gol da Alemanha. Que que tá acontecendo? Gol da Alemanha. Não sei. Gol da Alemanha. Mas preciso contar um negócio. Gol da Alemanha. Eu não sou seu pai. Gol da Alemanha. Seu pai é um uruguaio. Gol da Alemanha. Chamado Alcides Ghiggia. Gol da Alemanha. Acabou? Gol da Alemanha. Não. Gol da Alemanha. Ghiggia não é uruguaio. Gol da Alemanha. Ghiggia nasceu na Argentina. Gol da Alemanha. Nana Gouvêa. Gol da Alemanha. Com camisa do Flamengo. Gol da Alemanha. Que na verdade. Gol da Alemanha. É a camisa da Alemanha. Gol da Alemanha. Faz "selfie" nos escombros. Gol da Alemanha. Gol da Alemanha. Gol da Alemanha. Gol da Alemanha. Gol da Alemanha. Gol da Alemanha. Gol da Alemanha. Gol do Oscar.

QUESTÃO 01

O tema veiculado no texto remete

- I. a um tipo de imprensa, que divulga os fatos de modo sensacionalista.
- II. à importância dada pela mídia aos fatos sociais.
- III. à repercussão midiática dos eventos sociais.

São **CORRETAS** as afirmativas

- (A) I e II apenas.
- (B) I e III apenas.
- (C) II e III apenas.
- (D) I, II e III.

QUESTÃO 02

Os gêneros textuais definem-se, sobretudo, por sua função social. São textos produzidos em uma situação comunicativa (um contexto) para promover uma interação específica entre autor/leitor. Trata-se de unidades definidas por seus conteúdos, estilo e composição organizados em razão do objetivo que cumprem na situação comunicativa. Tomando como base essa definição, a alternativa que indica as características textuais do texto “Gol da Alemanha” é:

- (A) O gênero conto é o gênero utilizado pelo autor para expor seu ponto de vista.
- (B) O texto é predominantemente uma narrativa sobre fatos da vida cotidiana.
- (C) O texto é um poema em que os modos descritivo e expositivo são a forma textual predominante.
- (D) O texto é uma crônica que se realiza a partir da junção de tipos textuais como o diálogo, a narrativa e a exposição.

QUESTÃO 03

O emprego repetido da expressão ‘Gol da Alemanha’ no início, no desenvolvimento e no término do texto contribui para a construção de sentidos porque:

- (A) confirma a importância de um evento esportivo no cenário mundial.
- (B) expressa a ironia do autor em relação à midiática dos acontecimentos sociais.
- (C) reforça a ideia da superioridade da Alemanha em relação ao Brasil.
- (D) sugere uma discussão sobre os eventos esportivos mundiais.

QUESTÃO 04

A coesão diz respeito ao modo como as expressões linguísticas presentes no texto se encontram interligadas entre si, por meio de recursos também linguísticos, formando sequências que indiciam sentidos. A coesão é construída no texto a partir da:

- (A) construção de cadeias coesivas por meio de articuladores como *E* e *Mas*.
- (B) remissão de recursos de ordem gramatical como pronomes pessoais e advérbios pronominais.
- (C) repetição da expressão Gol da Alemanha juntamente com o encadeamento de enunciados por justaposição.
- (D) retomada da expressão Gol da Alemanha ao longo do texto.

Os textos a seguir servirão de guia para responder as questões 05 e 06.

Charge A



<http://minilua.com/recebi-mail-charges-das-escolas-atuais-100/>

Charge B



<http://blogdoliraneto.blogspot.com.br/2011/03/c-charges-atuais.html>

QUESTÃO 05

A leitura das charges permite a seguinte análise:

- I. Ambos os textos valem-se de uma cena cotidiana da sala de aula para fazer uma crítica a fatos sociais.
- II. As perguntas das professoras servem de gatilho para a construção do humor.
- III. As respostas dos alunos são o elemento surpresa da charge que estabelece o humor.

São **CORRETAS** as afirmativas:

- (A) I e II, apenas.
- (B) I e III, apenas.
- (C) II e III, apenas.
- (D) I, II e III.

QUESTÃO 06

Nas charges A e B,

- I. identificam-se a voz do chargista, a dos professores e a dos alunos.
- II. verifica-se uma crítica a acontecimentos sociais.
- III. ilustra-se o fato de que a sala de aula é o espaço mais adequado para a construção de conhecimentos.

São **CORRETAS** as afirmativas:

- (A) I, apenas.
- (B) I e II, apenas.
- (C) I e III, apenas.
- (D) I, II e III.

Considere o texto a seguir para responder as questões 07 e 08.



<http://opnorte1.blogspot.com.br/2012/07/infograficos-como-recursos-didaticos.html>

QUESTÃO 07

O tema do infográfico diz respeito

- (A) ao número de acessos às redes sociais.
- (B) ao tráfego gerado na internet devido ao uso das redes sociais.
- (C) aos hábitos de uso da internet pelos internautas brasileiros.
- (D) à liderança do Orkut em relação às outras redes sociais entre 2009 e 2010.

QUESTÃO 08

No texto, emprega-se no modo imperativo o seguinte verbo:

- (A) conferir.
- (B) estar.
- (C) gerar.
- (D) ser.

QUESTÃO 09

Leia o excerto que se segue:

Toda sociedade complexa é bastante heterogênea, porque é formada de indivíduos muito diferentes entre si. E essa diferença, que em princípio seria apenas de natureza, logo tende a tornar-se de valor. O Brasil, que, segundo dados recentemente divulgados, é a quarta nação mais desigual da América Latina, vive uma verdadeira luta de classes, permeada por todo tipo de preconceito e intolerância. E o que vale para a desigualdade social vale para a diversidade linguística, vista entre nós também como desigualdade: assim como há classes sociais dominantes e dominadas, certas variedades linguísticas são tidas como superiores, outras como inferiores.

<http://revistalingua.uol.com.br/textos/blog-abizzocchi/desigualdades-sociais-desigualdades-linguisticas-270674-1.asp>

Assinale a alternativa em que o termo destacado remete a um termo com **referência explícita**, anteriormente, no texto.

- (A) “A quarta nação mais desigual da América Latina vive uma **verdadeira** luta de classes”.
- (B) “E **essa** diferença, que em princípio seria apenas de natureza, logo tende a tornar-se de valor”.
- (C) “O Brasil é a quarta nação mais desigual da **América Latina**”.
- (D) “O que vale para a desigualdade social vale para a **diversidade** linguística”.

QUESTÃO 10

“O encadeamento de segmentos textuais, de qualquer extensão (períodos, parágrafos, subtópicos, sequências textuais ou partes inteiras do texto), é estabelecido, em grande número de casos, por meio de recursos linguísticos que se denominam articuladores textuais ou operadores do discurso”. (KOCH, I. V. **Desvendando os segredos do texto**. São Paulo: Cortez, 2003. p. 133).

Um exemplo prototípico desses articuladores encontra-se em:

- (A) Toda sociedade é bastante heterogênea, porque é formada de indivíduos muito diferentes entre si.
- (B) O que vale para a desigualdade social vale para a diversidade linguística.
- (C) O Brasil é a quarta nação mais desigual da América Latina.
- (D) Há classes sociais dominantes e dominadas.

PROVA DE RACIOCÍNIO LÓGICO – Caderno 22

QUESTÃO 11

Considere o sistema de equações lineares:
$$\begin{cases} 3x - y + z = 1 \\ 4x + y - z = 6 \\ x + y + z = 4 \end{cases}$$

Se o termo (x, y, z) é a solução do sistema, então é **CORRETO** afirmar que o valor de $\frac{y}{z}$ é igual a

- (A) 3
- (B) 5
- (C) 10
- (D) 21

QUESTÃO 12

O texto a seguir constrói um argumento:

É lógico que o time A é o melhor time do atual campeonato brasileiro de futebol, uma vez que o referido time tem o melhor ataque, sua defesa é a defesa menos vazada e, além disso, tal time possui o maior número de pontos ganhos na tabela geral do campeonato.

A conclusão do argumento construído nesse texto é que o time A

- (A) é o melhor time do atual campeonato brasileiro de futebol.
- (B) possui o maior número de pontos ganhos no campeonato brasileiro de futebol.
- (C) tem a melhor defesa do atual campeonato brasileiro de futebol
- (D) tem o melhor ataque do atual campeonato brasileiro de futebol.

QUESTÃO 13

Se a sequência numérica $(x, x - 4, \frac{x-4}{3}, M)$ é uma Progressão Geométrica decrescente, então o valor numérico de M é:

- (A) $\frac{1}{3}$
- (B) $\frac{2}{9}$
- (C) $\frac{9}{2}$
- (D) 3

QUESTÃO 14

Considere os conjuntos X, Y, W, P, T e as proposições:

$$X \subset Y \rightarrow X \subset W. \quad X \subset P \rightarrow X \subset T. \quad X \subset Y \rightarrow X \subset P.$$

Ora, $X \subset T$, então é **CORRETO** concluir que

- (A) $X \subset Y$ e $X \subset P$
- (B) $X \subset P$ e $W \subset P$
- (C) $X \subset P$ e $X \subset Y$
- (D) $W \subset T$ e $X \subset Y$

QUESTÃO 15

Dadas as proposições:

- I. Todo número inteiro primo é ímpar.
- II. $\text{mdc}(2,3) = 1$ ou $\text{mmc}(2,3) \neq 6$

É **CORRETO** afirmar que as negações das proposições I e II são, respectivamente:

- (A) Existe um número inteiro primo e par; $\text{mdc}(2,3) \neq 1$ e $\text{mmc}(2,3) = 6$
- (B) Algum número inteiro primo é ímpar; $\text{mdc}(2,3) \neq 1$ ou $\text{mmc}(2,3) \neq 6$
- (C) Nenhum número inteiro primo é par; $\text{mdc}(2,3) \neq 1$ e $\text{mmc}(2,3) \neq 6$
- (D) Não existe um número inteiro primo e par; $\text{mdc}(2,3) \neq 1$ ou $\text{mmc}(2,3) = 6$

QUESTÃO 16

Duas pessoas dividiram o valor de uma aposta em um jogo de loteria, recebendo um prêmio de R\$ 20.650,00 pela aposta. A primeira pessoa recebeu sua parte do prêmio na razão direta de 8 e na razão inversa de 3. A segunda pessoa recebeu sua parte do prêmio na razão direta de 9 e na razão inversa de 4. Nessas condições, é **CORRETO** afirmar que

- (A) as duas pessoas receberam quantias iguais.
- (B) a primeira pessoa recebeu uma quantia superior a R\$ 15.000,00.
- (C) a primeira pessoa recebeu uma quantia maior que a segunda.
- (D) a primeira pessoa recebeu uma quantia menor que a segunda.

QUESTÃO 17

Os dados indicados na tabela abaixo se referem a uma pesquisa realizada para conhecer as intenções de voto no segundo turno das eleições para Presidência da República em um determinado país. Escolhendo-se aleatoriamente um dos entrevistados nessa pesquisa, verificou-se que ele definitivamente não vota no candidato A. Com base na escolha aleatória e nos dados da tabela, é **CORRETO** afirmar que a probabilidade de que esse eleitor anule seu voto é de

- (A) $\frac{1}{14}$
 (B) $\frac{1}{25}$
 (C) $\frac{13}{50}$
 (D) $\frac{7}{37}$

Pesquisa Eleitoral	
Intenção de voto	Percentual
Candidato A	26%
Candidato B	40%
Votos nulos	14%
Votos brancos	20%
Total	100%

QUESTÃO 18

De acordo com os dados divulgados pela Fundação Instituto de Pesquisas Econômicas na notícia abaixo, é **CORRETO** afirmar que a cesta básica na cidade de São Paulo no mês de agosto custava

- (A) R\$ 394,37
 (B) R\$ 346,25
 (C) R\$ 384,34
 (D) R\$ 364,42

NOTÍCIA:




São Paulo - Levantamento divulgado nesta quinta-feira, 2/10, pela Fundação Instituto de Pesquisas Econômicas ([FIPE](#)) mostrou que o valor médio da cesta básica apresentou aumento de 0,50% em setembro ante agosto na cidade de São Paulo. No mês passado, o [preço](#) médio do conjunto de itens alcançou o nível de R\$ 366,25 (...). Nos primeiros nove meses de 2014, a cesta acumulou alta de 5,46% .

Fonte: <http://exame.abril.com.br> 02/10/2014

PROVA DE NOÇÕES DE INFORMÁTICA – Caderno 22

QUESTÃO 19

Analise as afirmativas a seguir sobre a guia “Layout” que é exibida quando se posiciona sobre uma tabela no Microsoft Word, versão português do Office 2010:

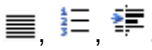
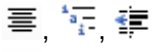
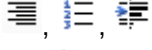

- I. O botão  permite inserir uma coluna à esquerda.
- II. O botão  permite mesclar células.
- III. O botão  permite configurar as margens das células.

Estão **CORRETAS** as afirmativas:

- (A) I e II, apenas.
 (B) I e III, apenas.
 (C) II e III, apenas.
 (D) I, II e III.

QUESTÃO 20

Botões do grupo Parágrafo da guia “Página Inicial” do Microsoft Word, versão português do Office 2010, que permitem respectivamente justificar um texto (Ctrl+J), iniciar uma lista numerada e aumentar o recuo de um parágrafo:

- (A) .
- (B) .
- (C) .
- (D) .

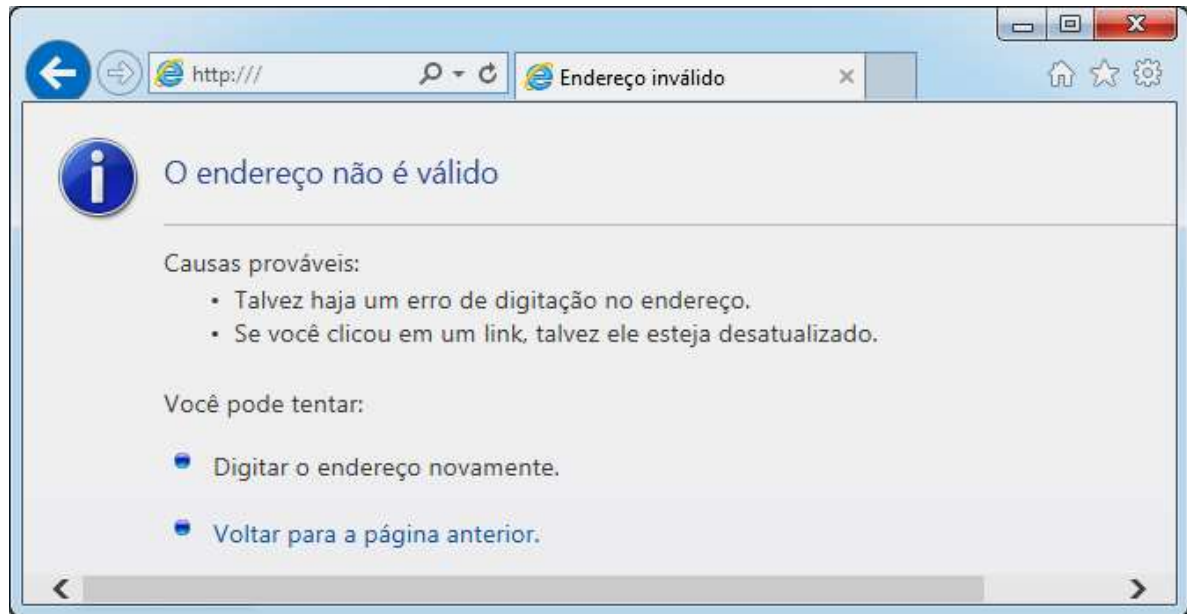
QUESTÃO 21

Ao clicar com o botão direito em um arquivo dentro do Windows Explorer, versão português do Windows 7, é ativado um menu de contexto que pode apresentar as seguintes opções, **EXCETO**:





- (A) Copiar
 (B) Criar atalho
 (C) Enviar para
 (D) Exibir

QUESTÃO 22

Considere a figura abaixo sobre o navegador Microsoft Internet Explorer 11, versão português:



A figura correspondente à opção “Exibir favoritos” é:

- (A) 
- (B) 
- (C) 
- (D) 

QUESTÃO 23

Analise as seguintes afirmativas sobre as opções disponíveis no Painel de Controle do Microsoft Windows 7, versão português:

- I. A opção “Programas e Recursos” permite desinstalar ou alterar programas do computador.
- II. A opção “Personalização” permite personalizar as configurações para exibição de idiomas, números, horas e datas.
- III. A opção “Teclado” personaliza as configurações do teclado como a taxa de intermitência do cursor e a taxa de repetição de caracteres.

Está **CORRETO** apenas o que se afirma em:

- (A) I.
- (B) I, II,
- (C) I e III,
- (D) II e III,





QUESTÃO 24

Função do Microsoft Excel, versão português do Office 2010, que retorna o número que representa a data no código data-hora do Microsoft Excel é:

- (A) AGORA
- (B) DATA
- (C) DATAM
- (D) VALOR.TEMPO

QUESTÃO 25

Em relação às “Ferramentas de Dados” utilizadas para organizar dados no Microsoft Excel, versão português do Office 2010, correlacione as colunas a seguir:

Opção	Ícone da opção
I. Texto para colunas	() 
II. Remover Duplicadas	() 
III. Validação de Dados	() 
IV. Consolidar	() 

A sequência **CORRETA**, de cima para baixo, é:

- (A) II, IV, I, III.
- (B) II, III, I, IV.
- (C) III, IV, I, II.
- (D) IV, II, I, III.

PROVA DE CONHECIMENTOS ESPECÍFICOS – Caderno 22**QUESTÃO 26**

Analise as seguintes afirmativas com relação aos conceitos de Custos de Produção e Custo de Oportunidade:

- I. O formato em U da curva de CMe de longo prazo (CMeL) é determinado pela lei dos rendimentos decrescentes ou lei dos custos crescentes.
- II. Se o custo marginal supera o custo médio, é evidente que o custo médio deverá estar decrescendo.
- III. O custo de oportunidade também denominado custo implícito é um conceito bastante utilizado na teoria econômica significando que, dada escassez de recursos, tudo tem um custo no sistema econômico, mesmo que não exista o envolvimento de um dispêndio financeiro.

Está **CORRETO** apenas o que se afirma em

- (A) I.
- (B) III.
- (C) I e III.
- (D) II e III.

QUESTÃO 27

Os bens são classificados em normais, inferiores, de Giffen, substitutos e complementares. Analise as seguintes afirmativas:

- I. O Paradoxo ou Bem de Giffen é uma exceção à Lei Geral da Demanda, sendo considerado um caso especial de bem normal.
- II. Considerando três bens normais U, V e T, sendo U e V bens substitutos e V e T bens complementares, bem como tudo mais constante, um aumento no preço do bem U levará a uma redução na quantidade demandada do mesmo, um aumento na quantidade do bem substituto (V) e um aumento na quantidade demanda do bem complementar (T).
- III. A curva de Engel é positivamente inclinada tanto para o bem de Giffen quanto para o bem inferior.

Está **CORRETO** apenas o que se afirma em

- (A) II.
- (B) III.
- (C) I e II.
- (D) II e III.

QUESTÃO 28

Quando há um déficit em conta corrente no balanço de pagamentos, em um dado período, isso significa que, nesse período, **necessariamente**,

- (A) a poupança externa foi positiva.
- (B) a reserva de divisas internacionais reduziu.
- (C) o pagamento de juros ao exterior foi elevado.
- (D) o valor das exportações de bens foi menor que o das importações.

QUESTÃO 29

Tendo como referência a Teoria da Estrutura de Mercado, analise as afirmações abaixo:

- I. Na estrutura de mercado denominada de oligopólio, diferentemente da estrutura concorrencial, mas de alguma forma semelhante à estrutura de monopólio, no longo prazo os lucros extraordinários reduzem devido à queda das barreiras à entrada de novas firmas, principalmente quando se trata de oligopólio natural.
- II. O monopólio natural é uma atividade produtiva em que, por razões técnicas, é inviável a existência de mais de um produtor, dada a insuperável vantagem em termos de custos de produção do produtor já existente, sendo a distribuição de água ou de eletricidade em uma cidade exemplos dessa estrutura de mercado.
- III. Em mercados competitivos, as empresas se retiram do mercado (deixam de produzir) apenas quando o preço é inferior ao custo variável médio, isto se considerar o curto prazo, pois, no longo prazo, elas saem se o preço é inferior ao custo total médio.

NÃO está correto o que se afirma em:

- (A) I, II e III.
- (B) I e III, apenas.
- (C) I, apenas.
- (D) III, apenas.

QUESTÃO 30

Tendo como referência os conceitos relacionados a uma economia monetária, é **CORRETO** afirmar:

- (A) O valor do multiplicador da base monetária pode ser alterado independentemente das intenções do Banco Central.
- (B) Quanto maior o coeficiente d (depósitos à vista/M1), menor será o multiplicador da base monetária.
- (C) Alterando os recolhimentos compulsórios, o Banco Central consegue controlar os coeficientes de comportamento bancário "c" (papel moeda em poder do público/M1) e "d" (depósitos à vista/M1).
- (D) Um banco destrói meios de pagamentos quando compra bens ou serviços do público pagando com moeda corrente.

QUESTÃO 31

Uma dada economia pode ser descrita pelas seguintes equações:

$C = 25 + 0,2 Y_d$	sendo	C = Consumo Agregado
$G = 50$		Y_d = Renda Disponível
$I = 30 - 50i + 0,5 Y$		I = Investimento Privado
$T = 0,5 Y$		T = Tributos
		i = Taxa de Juros e
		G = Gasto Público

Supondo que a taxa de juros dessa dada economia seja 10%, determine o valor da Renda de Equilíbrio, Poupança Nacional e a Poupança Pública.

- (A) 225, 125, 75
- (B) 225, 150, 75
- (C) 250, 150, 75
- (D) 250, 150, 100

QUESTÃO 32

Tendo como referência o modelo IS-LM com economia fechada com governo, analise as seguintes afirmativas:

- I. Na situação de armadilha da liquidez, a elasticidade da demanda por moeda em relação aos juros é baixa.
- II. No caso clássico, a política fiscal é eficaz.
- III. Na situação de armadilha da liquidez, a política monetária é ineficaz.
- IV. No caso clássico, a política monetária é eficaz.

NÃO está correto apenas o que se afirma em:

- (A) III.
- (B) I e II.
- (C) I e IV.
- (D) II e III.

QUESTÃO 33

Tendo como referência os fundamentos básicos de Finanças Públicas, em especial aqueles referentes aos conceitos relacionados à teoria da tributação e do déficit público, é **CORRETO** afirmar:

- (A) De acordo com o princípio do benefício, na teoria da tributação, cada indivíduo deve contribuir com uma quantia menos que proporcional aos benefícios gerados pelo consumo do bem público.
- (B) Existem meios práticos que permitem operacionalizar o critério do benefício, por ser a produção pública também sujeita à lei do preço.
- (C) O conceito de Necessidade de Financiamento do Setor Público (NFSP) contempla como setor público: o governo central, os governos estaduais e municipais e do distrito federal, a previdência social, as empresas estatais (excetuando as empresas públicas financeiras) e as agências descentralizadas.
- (D) O déficit nominal é menor que o déficit primário, diferença que é tanto maior quanto maior for a taxa de inflação.

QUESTÃO 34

Aprovada pelo Congresso Nacional e publicada em 05/05/2000, a Lei Complementar nº 101, denominada de “Lei de Responsabilidade Fiscal” (LRF), veio estabelecer normas de finanças públicas voltadas para a responsabilidade na gestão fiscal.

Tendo como referência o texto da Lei de Responsabilidade Fiscal, analise as seguintes afirmativas:

- I. A nova lei inovou ao estabelecer limites de gasto com pessoal como função da receita no interior de cada uma das esferas de governo (federal, estadual e municipal), concedendo amparo legal ao poder executivo de cada instância para alcançar os limites globais de gastos.
- II. A Lei de Responsabilidade Fiscal procurou aperfeiçoar a sistemática traçada pela Constituição de 1988, atribuindo novas e importantes funções à Lei de Diretrizes Orçamentárias (LDO), destacando-se entre essas novas atribuições a fixação de critérios para a limitação de empenho e movimentação financeira.
- III. Nenhum governante poderá criar uma nova despesa continuada – por prazo superior a dois anos – sem indicar sua fonte de receita ou a redução de outra despesa.

Está **CORRETO** o que se afirma em

- (A) I, II e III.
- (B) I, apenas.
- (C) II, apenas.
- (D) I e II, apenas.

QUESTÃO 35

“A classificação é a chave estrutural para a organização consciente e racional do orçamento do governo”. (BURKHEAD, Jesse. Orçamento Público. Rio de Janeiro: FGV, 1971, p.145 citado por GIACOMONI, James. **Orçamento Público**. São Paulo: Ed. Atlas S.A, 2005).

Tendo como referência a concepção acima, analise os itens abaixo:

- I. As Receitas Orçamentárias Correntes são arrecadadas dentro do exercício financeiro e não aumentam as disponibilidades financeiras do Estado, mas exercem um efeito positivo no patrimônio líquido.
- II. São exemplos de Receitas Orçamentárias Correntes as receitas provenientes de tributos; de contribuições; de operações de Crédito; e da exploração de atividades econômicas (Agropecuária, Industrial e de Serviços).
- III. São exemplos de Despesas Orçamentárias, por Grupo de Natureza, as despesas com pessoal e encargos sociais, juros e encargos da dívida, investimentos, inversões financeiras, amortização da dívida e outras despesas correntes.
- IV. Classificam-se na categoria de Despesas Orçamentárias Correntes aquelas despesas que contribuem, diretamente, para a formação ou aquisição de um bem de capital.

Está **CORRETO** apenas o que se afirma em

- (A) II.
- (B) III.
- (C) I e IV.
- (D) II e III.

QUESTÃO 36

No artigo 165 da Constituição Federal, consta que todo orçamento público (municipal, estadual ou federal) precisa ser elaborado a partir de três componentes do ciclo orçamentário, que são: o Plano Plurianual (PPA), a Lei de Diretrizes Orçamentárias (LDO) e a Lei Orçamentária Anual (LOA).

Tendo como referência esses três instrumentos, **NÃO** é correto afirmar:

- (A) O Plano Plurianual (PPA), com vigência de quatro anos, tem como função estabelecer as diretrizes, os objetivos e as metas de médio prazo da administração pública.
- (B) A Lei Orçamentária Anual (LOA) tem como principais objetivos estimar a receita e fixar a programação das despesas para o exercício financeiro.
- (C) A Lei Orçamentária Anual (LOA) compreende o orçamento fiscal e, ainda, o orçamento das autoridades monetárias e das empresas financeiras de economia mista.
- (D) A Lei de Diretrizes Orçamentárias (LDO) é responsável pela definição de metas e prioridades a partir de programas que serão executados pelos governos, incluindo as despesas de capital para o exercício financeiro subsequente.

QUESTÃO 37

Os princípios contábeis permitem aos usuários fixar padrões de comparação e de credibilidade em função do reconhecimento dos critérios adotados para a elaboração das demonstrações financeiras.

Tendo como referência a concepção acima, analise os itens abaixo:

- I. Pelo Princípio da Competência dos Exercícios, as despesas devem ser reconhecidas, na apuração do resultado do período, independentemente do seu pagamento.
- II. Pelo Princípio do Conservadorismo ou da Prudência conjugado ao Princípio da Competência dos Exercícios, a Provisão para Perdas no Recebimento de Créditos tem por objetivo reconhecer contabilmente, por estimativa, as Perdas Potenciais Futuras decorrentes do não recebimento de créditos por vendas à vista.
- III. Pelo Princípio da Competência dos Exercícios, as despesas devem ser reconhecidas, na apuração do resultado do período, somente quando de sua realização.

NÃO está correto apenas o que se afirma em:

- (A) I.
- (B) III.
- (C) I e II.
- (D) II e III.

QUESTÃO 38

Tendo como referência os conceitos relacionados à análise do capital de giro, analise os itens abaixo:

- I. A variação positiva do capital de giro sinaliza que haverá uma redução na participação de capitais próprios em relação aos capitais de terceiros.
- II. O capital de giro representa os recursos demandados por uma organização para financiar suas necessidades operacionais.
- III. O capital de giro, pelo conceito contábil, consiste na diferença entre o ativo circulante e o passivo exigível a longo prazo.
- IV. Se a variação do capital de giro for negativa, haverá um aumento na participação de capitais de terceiros superior aos capitais próprios da empresa.

NÃO está correto apenas o que se afirma em:

- (A) III.
- (B) I e III.
- (C) I e IV.
- (D) II e III.

QUESTÃO 39

Um cidadão deve para o banco a quantia de R\$ 2.100,00. Faz um acordo com o referido banco para pagá-la em duas prestações de valores iguais, vencíveis em 30 e 60 dias, respectivamente, pois não tem recursos para quitar a dívida à vista. Sabendo que a taxa de **juros compostos** cobrada pelo banco é de 3% ao mês, o valor das parcelas é:

(Obs.: considere duas casas decimais)

- (A) R\$ 987,48.
- (B) R\$ 1.000,48.
- (C) R\$ 1.197,48.
- (D) R\$ 1.097,48.

QUESTÃO 40

Tendo como referência o conceito de Taxa Interna de Retorno, analise a seguinte situação:

Ano	Fluxo de Caixa em R\$ do Projeto
0	-10.000
1	X
2	X

Sabendo que a Taxa Interna de Retorno (TIR) do Projeto, representado pelo Fluxo de Caixa acima, é igual a 10%, o valor de X será **(Obs.: considere duas casas decimais)**

- (A) 4.561,90
- (B) 6.761,90
- (C) 5.061,90
- (D) 5.761,90

CONCURSO PÚBLICO

PREFEITURA MUNICIPAL DE SETE LAGOAS

EDITAL 03/2012

PARA VOCÊ DESTACAR E CONFERIR O SEU GABARITO

01		11		21		31	
02		12		22		32	
03		13		23		33	
04		14		24		34	
05		15		25		35	
06		16		26		36	
07		17		27		37	
08		18		28		38	
09		19		29		39	
10		20		30		40	





Av. Francisco Sales, 540 - Floresta - 30150-220 - Belo Horizonte/MG
(31) 3249-7400 - www.fumarc.org.br / fumarcoconcursos@pucminas.br

Impressão: FUMARC GRÁFICA - (31) 3249-7400