

CONCURSO PÚBLICO



PREFEITURA MUNICIPAL DE SETE LAGOAS – MINAS GERAIS

CADERNO DE PROVAS

CADERNO 19	CARGO: <ul style="list-style-type: none">AUDITOR TÉCNICO FISCAL DE TRIBUTOS MUNICIPAIS
PROVAS:	<ul style="list-style-type: none">LÍNGUA PORTUGUESARACIOCÍNIO LÓGICONOÇÕES DE INFORMÁTICACONHECIMENTOS ESPECÍFICOS

LEIA ATENTAMENTE AS INSTRUÇÕES ABAIXO:

1. Este caderno de provas contém um total de 40 (quarenta) questões objetivas, sendo 10 de Língua Portuguesa, 8 de Raciocínio Lógico, 7 de Noções de Informática e 15 de Conhecimentos Específicos. Confira-o.
2. Esta prova terá, no máximo, **4 (quatro) horas** de duração, incluído o tempo destinado à transcrição de suas respostas no gabarito oficial.
3. Não perca tempo em questões, cujas respostas lhe pareçam difíceis, volte a elas se lhe sobrar tempo.
4. Respondidas as questões, você deverá passar o gabarito para a sua folha de respostas, usando caneta esferográfica azul ou preta.
5. Em nenhuma hipótese haverá substituição da Folha de Respostas por erro do candidato.
6. Este caderno deverá ser devolvido ao fiscal, juntamente, com sua folha de respostas, devidamente preenchidos e assinados.
7. O candidato só poderá se ausentar do recinto das provas após **1 (uma) hora** contada a partir do efetivo início das mesmas.
8. Você pode transcrever suas respostas na última folha deste caderno e a mesma poderá ser destacada.
9. O gabarito oficial da prova objetiva será divulgado no Diário Eletrônico do Município de Sete Lagoas www.diario.setelagoas.mg.gov.br e nos endereços eletrônicos www.fumarc.org.br e www.setelagoas.mg.gov.br e afixado no Prédio da Prefeitura, até o segundo dia útil posterior à realização das provas.
10. A comissão organizadora da FUMARC Concursos lhe deseja uma boa prova.



Prezado(a) candidato(a):

Coloque seu número de inscrição e nome no quadro abaixo:

Nº de Inscrição	Nome
<input type="text"/>	<input type="text"/>

ASSINALE A RESPOSTA CORRETA.

PROVA DE LÍNGUA PORTUGUESA – Caderno 19

Para responder as questões de 01 a 03, considere o texto a seguir:

GOL DA ALEMANHA

Antonio Prata

Gol da Alemanha. Gol da Alemanha. Gol da Alemanha. Gol da Alemanha. Gol da Alemanha. Gol da Alemanha. Gol da Alemanha. O rio Amazonas seca. Gol da Alemanha. Cupins devoram Ouro Preto. Gol da Alemanha. Olinda arde em chamas. Gol da Alemanha. O Cristo cai com um tufão. Gol da Alemanha. Gisele entra num convento. Gol da Alemanha. Prédios de Niemeyer desabam. Gol da Alemanha. (Nenhum político ferido.) Gol da Alemanha. Cyrela reconstrói capital. Gol da Alemanha. Em estilo neoclássico. Gol da Alemanha. Dengue mutante se espalha. Gol da Alemanha. Com terrível novo sintoma. Gol da Alemanha. Flacidez e queda dos glúteos. Gol da Alemanha. Gil e Caetano descobrem-se. Gol da Alemanha. Gagos, roucos e fanhos. Gol da Alemanha. Chico Buarque grava. Gol da Alemanha. "Um Emo Universitário". Gol da Alemanha. João Gilberto admite. Gol da Alemanha. Quem inventou a bossa nova. Gol da Alemanha. Foi o Henry Salvador. Gol da Alemanha. Historiador sentencia. Gol da Alemanha. Santos Dumont chegou tarde. Gol da Alemanha. Quem inventou o avião. Gol da Alemanha. Foram os irmãos Wright. Gol da Alemanha. Exumação comprova. Gol da Alemanha. Carmem Miranda era homem. Gol da Alemanha. Diário revela. Gol da Alemanha. Jece Valadão era gay. Gol da Alemanha. Jean Wyllys confessa. Gol da Alemanha. Sempre fui hétero. Gol da Alemanha. Universidade de Stanford adverte. Gol da Alemanha. Feijão dá câncer e gota. Gol da Alemanha. Sambódromo é vendido. Gol da Alemanha. Pra uma igreja evangélica. Gol da Alemanha. O Municipal é reformado. Gol da Alemanha. Para virar pet shop. Gol da Alemanha. Disney arrenda Lençóis. Gol da Alemanha. E constrói parque do Mickey. Gol da Alemanha. Chapada Diamantina é implodida. Gol da Alemanha. Pra gerar muita brita. Gol da Alemanha. E aterrar o Pantanal. Gol da Alemanha. "O maior estacionamento do mundo!" Gol da Alemanha. O mico-leão é extinto. Gol da Alemanha. Pela última arara-azul. Gol da Alemanha. O derradeiro boto-cor-de-rosa se mata. Gol da Alemanha. Engolindo a última arara. Gol da Alemanha. Autópsia do boto conclui. Gol da Alemanha. Que o rosa era tingimento. Gol da Alemanha. Índios assumem a culpa. Gol da Alemanha. A gente pintava os bichinhos. Gol da Alemanha. E quem pagava eram as Farc. Gol da Alemanha. As aves que aqui gorjeiam. Gol da Alemanha. Tão mudas ou se picaram. Gol da Alemanha. Pai. Gol da Alemanha. Que que tá acontecendo? Gol da Alemanha. Não sei. Gol da Alemanha. Mas preciso contar um negócio. Gol da Alemanha. Eu não sou seu pai. Gol da Alemanha. Seu pai é um uruguaio. Gol da Alemanha. Chamado Alcides Ghiggia. Gol da Alemanha. Acabou? Gol da Alemanha. Não. Gol da Alemanha. Ghiggia não é uruguaio. Gol da Alemanha. Ghiggia nasceu na Argentina. Gol da Alemanha. Nana Gouvêa. Gol da Alemanha. Com camisa do Flamengo. Gol da Alemanha. Que na verdade. Gol da Alemanha. É a camisa da Alemanha. Gol da Alemanha. Faz "selfie" nos escombros. Gol da Alemanha. Gol da Alemanha. Gol da Alemanha. Gol da Alemanha. Gol da Alemanha. Gol da Alemanha. Gol da Alemanha. Gol do Oscar.

QUESTÃO 01

O tema veiculado no texto remete

- I. a um tipo de imprensa, que divulga os fatos de modo sensacionalista.
- II. à importância dada pela mídia aos fatos sociais.
- III. à repercussão midiática dos eventos sociais.

São **CORRETAS** as afirmativas

- (A) I e II apenas.
- (B) I e III apenas.
- (C) II e III apenas.
- (D) I, II e III.

QUESTÃO 02

Os gêneros textuais definem-se, sobretudo, por sua função social. São textos produzidos em uma situação comunicativa (um contexto) para promover uma interação específica entre autor/leitor. Trata-se de unidades definidas por seus conteúdos, estilo e composição organizados em razão do objetivo que cumprem na situação comunicativa. Tomando como base essa definição, a alternativa que indica as características textuais do texto “Gol da Alemanha” é:

- (A) O gênero conto é o gênero utilizado pelo autor para expor seu ponto de vista.
- (B) O texto é predominantemente uma narrativa sobre fatos da vida cotidiana.
- (C) O texto é um poema em que os modos descritivo e expositivo são a forma textual predominante.
- (D) O texto é uma crônica que se realiza a partir da junção de tipos textuais como o diálogo, a narrativa e a exposição.

QUESTÃO 03

O emprego repetido da expressão ‘Gol da Alemanha’ no início, no desenvolvimento e no término do texto contribui para a construção de sentidos porque:

- (A) confirma a importância de um evento esportivo no cenário mundial.
- (B) expressa a ironia do autor em relação à midiática dos acontecimentos sociais.
- (C) reforça a ideia da superioridade da Alemanha em relação ao Brasil.
- (D) sugere uma discussão sobre os eventos esportivos mundiais.

QUESTÃO 04

A coesão diz respeito ao modo como as expressões linguísticas presentes no texto se encontram interligadas entre si, por meio de recursos também linguísticos, formando sequências que indiciam sentidos. A coesão é construída no texto a partir da:

- (A) construção de cadeias coesivas por meio de articuladores como *E* e *Mas*.
- (B) remissão de recursos de ordem gramatical como pronomes pessoais e advérbios pronominais.
- (C) repetição da expressão Gol da Alemanha juntamente com o encadeamento de enunciados por justaposição.
- (D) retomada da expressão Gol da Alemanha ao longo do texto.

Os textos a seguir servirão de guia para responder as questões 05 e 06.

Charge A



<http://minilua.com/recebi-mail-charges-das-escolas-atuais-100/>

Charge B



<http://blogdoliraneto.blogspot.com.br/2011/03/c-charges-atuais.html>

QUESTÃO 05

A leitura das charges permite a seguinte análise:

- I. Ambos os textos valem-se de uma cena cotidiana da sala de aula para fazer uma crítica a fatos sociais.
- II. As perguntas das professoras servem de gatilho para a construção do humor.
- III. As respostas dos alunos são o elemento surpresa da charge que estabelece o humor.

São **CORRETAS** as afirmativas:

- (A) I e II, apenas.
- (B) I e III, apenas.
- (C) II e III, apenas.
- (D) I, II e III.

QUESTÃO 06

Nas charges A e B,

- I. identificam-se a voz do chargista, a dos professores e a dos alunos.
- II. verifica-se uma crítica a acontecimentos sociais.
- III. ilustra-se o fato de que a sala de aula é o espaço mais adequado para a construção de conhecimentos.

São **CORRETAS** as afirmativas:

- (A) I, apenas.
- (B) I e II, apenas.
- (C) I e III, apenas.
- (D) I, II e III.

Considere o texto a seguir para responder as questões 07 e 08.



<http://opnorte1.blogspot.com.br/2012/07/infograficos-como-recursos-didaticos.html>

QUESTÃO 07

O tema do infográfico diz respeito

- (A) ao número de acessos às redes sociais.
- (B) ao tráfego gerado na internet devido ao uso das redes sociais.
- (C) aos hábitos de uso da internet pelos internautas brasileiros.
- (D) à liderança do Orkut em relação às outras redes sociais entre 2009 e 2010.

QUESTÃO 08

No texto, emprega-se no modo imperativo o seguinte verbo:

- (A) conferir.
- (B) estar.
- (C) gerar.
- (D) ser.

QUESTÃO 09

Leia o excerto que se segue:

Toda sociedade complexa é bastante heterogênea, porque é formada de indivíduos muito diferentes entre si. E essa diferença, que em princípio seria apenas de natureza, logo tende a tornar-se de valor. O Brasil, que, segundo dados recentemente divulgados, é a quarta nação mais desigual da América Latina, vive uma verdadeira luta de classes, permeada por todo tipo de preconceito e intolerância. E o que vale para a desigualdade social vale para a diversidade linguística, vista entre nós também como desigualdade: assim como há classes sociais dominantes e dominadas, certas variedades linguísticas são tidas como superiores, outras como inferiores.

<http://revistalingua.uol.com.br/textos/blog-abizzocchi/desigualdades-sociais-desigualdades-linguisticas-270674-1.asp>

Assinale a alternativa em que o termo destacado remete a um termo com **referência explícita**, anteriormente, no texto.

- (A) “A quarta nação mais desigual da América Latina vive uma **verdadeira** luta de classes”.
- (B) “E **essa** diferença, que em princípio seria apenas de natureza, logo tende a tornar-se de valor”.
- (C) “O Brasil é a quarta nação mais desigual da **América Latina**”.
- (D) “O que vale para a desigualdade social vale para a **diversidade** linguística”.

QUESTÃO 10

“O encadeamento de segmentos textuais, de qualquer extensão (períodos, parágrafos, subtópicos, sequências textuais ou partes inteiras do texto), é estabelecido, em grande número de casos, por meio de recursos linguísticos que se denominam articuladores textuais ou operadores do discurso”. (KOCH, I. V. **Desvendando os segredos do texto**. São Paulo: Cortez, 2003. p. 133).

Um exemplo prototípico desses articuladores encontra-se em:

- (A) Toda sociedade é bastante heterogênea, porque é formada de indivíduos muito diferentes entre si.
- (B) O que vale para a desigualdade social vale para a diversidade linguística.
- (C) O Brasil é a quarta nação mais desigual da América Latina.
- (D) Há classes sociais dominantes e dominadas.

PROVA DE RACIOCÍNIO LÓGICO – Caderno 19

QUESTÃO 11

Considere o sistema de equações lineares:
$$\begin{cases} 3x - y + z = 1 \\ 4x + y - z = 6 \\ x + y + z = 4 \end{cases}$$

Se o termo (x, y, z) é a solução do sistema, então é **CORRETO** afirmar que o valor de $\frac{y}{z}$ é igual a

- (A) 3
- (B) 5
- (C) 10
- (D) 21

QUESTÃO 12

O texto a seguir constrói um argumento:

É lógico que o time A é o melhor time do atual campeonato brasileiro de futebol, uma vez que o referido time tem o melhor ataque, sua defesa é a defesa menos vazada e, além disso, tal time possui o maior número de pontos ganhos na tabela geral do campeonato.

A conclusão do argumento construído nesse texto é que o time A

- (A) é o melhor time do atual campeonato brasileiro de futebol.
- (B) possui o maior número de pontos ganhos no campeonato brasileiro de futebol.
- (C) tem a melhor defesa do atual campeonato brasileiro de futebol
- (D) tem o melhor ataque do atual campeonato brasileiro de futebol.

QUESTÃO 13

Se a sequência numérica $(x, x - 4, \frac{x-4}{3}, M)$ é uma Progressão Geométrica decrescente, então o valor numérico de M é:

- (A) $\frac{1}{3}$
- (B) $\frac{2}{9}$
- (C) $\frac{9}{2}$
- (D) 3

QUESTÃO 14

Considere os conjuntos X, Y, W, P, T e as proposições:

$$X \subset Y \rightarrow X \subset W. \quad X \subset P \rightarrow X \subset T. \quad X \subset Y \rightarrow X \subset P.$$

Ora, $X \subset T$, então é **CORRETO** concluir que

- (A) $X \subset Y$ e $X \subset P$
- (B) $X \subset P$ e $W \subset P$
- (C) $X \subset P$ e $X \subset Y$
- (D) $W \subset T$ e $X \subset Y$

QUESTÃO 15

Dadas as proposições:

- I. Todo número inteiro primo é ímpar.
- II. $\text{mdc}(2,3) = 1$ ou $\text{mmc}(2,3) \neq 6$

É **CORRETO** afirmar que as negações das proposições I e II são, respectivamente:

- (A) Existe um número inteiro primo e par; $\text{mdc}(2,3) \neq 1$ e $\text{mmc}(2,3) = 6$
- (B) Algum número inteiro primo é ímpar; $\text{mdc}(2,3) \neq 1$ ou $\text{mmc}(2,3) \neq 6$
- (C) Nenhum número inteiro primo é par; $\text{mdc}(2,3) \neq 1$ e $\text{mmc}(2,3) \neq 6$
- (D) Não existe um número inteiro primo e par; $\text{mdc}(2,3) \neq 1$ ou $\text{mmc}(2,3) = 6$

QUESTÃO 16

Duas pessoas dividiram o valor de uma aposta em um jogo de loteria, recebendo um prêmio de R\$ 20.650,00 pela aposta. A primeira pessoa recebeu sua parte do prêmio na razão direta de 8 e na razão inversa de 3. A segunda pessoa recebeu sua parte do prêmio na razão direta de 9 e na razão inversa de 4. Nessas condições, é **CORRETO** afirmar que

- (A) as duas pessoas receberam quantias iguais.
- (B) a primeira pessoa recebeu uma quantia superior a R\$ 15.000,00.
- (C) a primeira pessoa recebeu uma quantia maior que a segunda.
- (D) a primeira pessoa recebeu uma quantia menor que a segunda.

QUESTÃO 17

Os dados indicados na tabela abaixo se referem a uma pesquisa realizada para conhecer as intenções de voto no segundo turno das eleições para Presidência da República em um determinado país. Escolhendo-se aleatoriamente um dos entrevistados nessa pesquisa, verificou-se que ele definitivamente não vota no candidato A. Com base na escolha aleatória e nos dados da tabela, é **CORRETO** afirmar que a probabilidade de que esse eleitor anule seu voto é de

- (A) $\frac{1}{14}$
 (B) $\frac{1}{25}$
 (C) $\frac{13}{50}$
 (D) $\frac{7}{37}$

Pesquisa Eleitoral	
Intenção de voto	Percentual
Candidato A	26%
Candidato B	40%
Votos nulos	14%
Votos brancos	20%
Total	100%

QUESTÃO 18

De acordo com os dados divulgados pela Fundação Instituto de Pesquisas Econômicas na notícia abaixo, é **CORRETO** afirmar que a cesta básica na cidade de São Paulo no mês de agosto custava

- (A) R\$ 394,37
 (B) R\$ 346,25
 (C) R\$ 384,34
 (D) R\$ 364,42

NOTÍCIA:




São Paulo - Levantamento divulgado nesta quinta-feira, 2/10, pela Fundação Instituto de Pesquisas Econômicas ([FIPE](#)) mostrou que o valor médio da cesta básica apresentou aumento de 0,50% em setembro ante agosto na cidade de São Paulo. No mês passado, o [preço](#) médio do conjunto de itens alcançou o nível de R\$ 366,25 (...). Nos primeiros nove meses de 2014, a cesta acumulou alta de 5,46% .

Fonte: <http://exame.abril.com.br> 02/10/2014

PROVA DE NOÇÕES DE INFORMÁTICA – Caderno 19

QUESTÃO 19

Analise as afirmativas a seguir sobre a guia “Layout” que é exibida quando se posiciona sobre uma tabela no Microsoft Word, versão português do Office 2010:













- I. O botão  permite inserir uma coluna à esquerda.
- II. O botão  permite mesclar células.
- III. O botão  permite configurar as margens das células.

Estão **CORRETAS** as afirmativas:

- (A) I e II, apenas.
 (B) I e III, apenas.
 (C) II e III, apenas.
 (D) I, II e III.

QUESTÃO 20

Botões do grupo Parágrafo da guia “Página Inicial” do Microsoft Word, versão português do Office 2010, que permitem respectivamente justificar um texto (Ctrl+J), iniciar uma lista numerada e aumentar o recuo de um parágrafo:

- (A) , , .
- (B) , , .
- (C) , , .
- (D) , , .

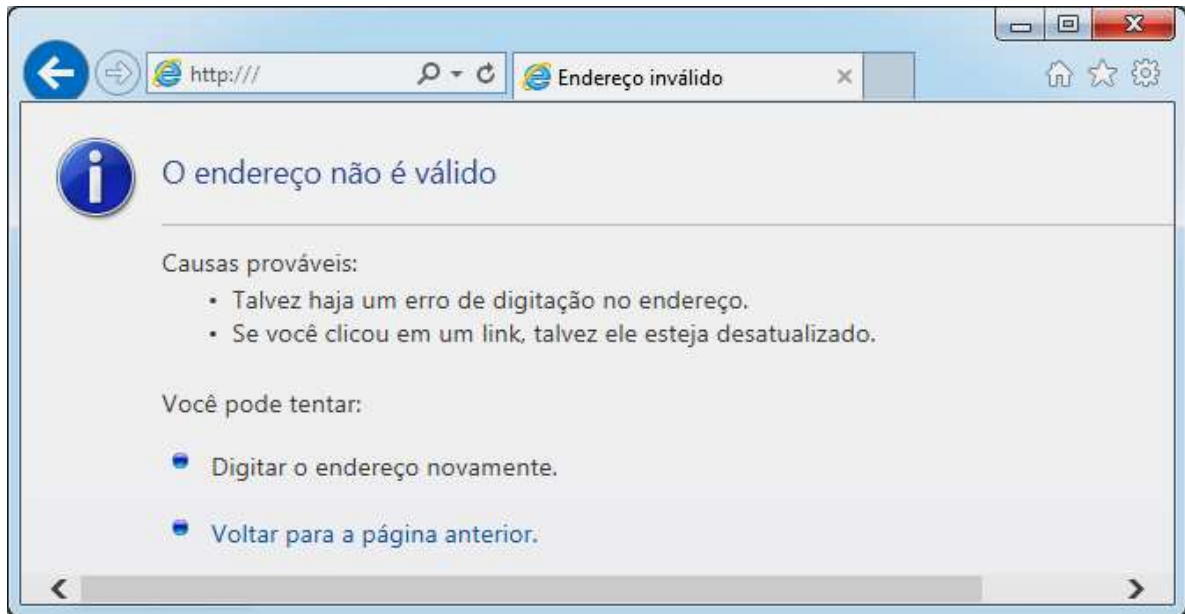
QUESTÃO 21

Ao clicar com o botão direito em um arquivo dentro do Windows Explorer, versão português do Windows 7, é ativado um menu de contexto que pode apresentar as seguintes opções, **EXCETO**:





- (A) Copiar
 (B) Criar atalho
 (C) Enviar para
 (D) Exibir

QUESTÃO 22

Considere a figura abaixo sobre o navegador Microsoft Internet Explorer 11, versão português:



A figura correspondente à opção “Exibir favoritos” é:

- (A) 
- (B) 
- (C) 
- (D) 

QUESTÃO 23

Analise as seguintes afirmativas sobre as opções disponíveis no Painel de Controle do Microsoft Windows 7, versão português:

- I. A opção “Programas e Recursos” permite desinstalar ou alterar programas do computador.
- II. A opção “Personalização” permite personalizar as configurações para exibição de idiomas, números, horas e datas.
- III. A opção “Teclado” personaliza as configurações do teclado como a taxa de intermitência do cursor e a taxa de repetição de caracteres.

Está **CORRETO** apenas o que se afirma em:

- (A) I.
- (B) I, II,
- (C) I e III,
- (D) II e III,





QUESTÃO 24

Função do Microsoft Excel, versão português do Office 2010, que retorna o número que representa a data no código data-hora do Microsoft Excel é:

- (A) AGORA
- (B) DATA
- (C) DATAM
- (D) VALOR.TEMPO

QUESTÃO 25

Em relação às “Ferramentas de Dados” utilizadas para organizar dados no Microsoft Excel, versão português do Office 2010, correlacione as colunas a seguir:

Opção	Ícone da opção
I. Texto para colunas	<input type="checkbox"/> 
II. Remover Duplicadas	<input type="checkbox"/> 
III. Validação de Dados	<input type="checkbox"/> 
IV. Consolidar	<input type="checkbox"/> 

A sequência **CORRETA**, de cima para baixo, é:

- (A) II, IV, I, III.
- (B) II, III, I, IV.
- (C) III, IV, I, II.
- (D) IV, II, I, III.

PROVA DE CONHECIMENTOS ESPECÍFICOS – Caderno 19**QUESTÃO 26**

A amostragem de auditoria permite que o auditor obtenha e avalie a evidência de auditoria em relação a algumas características dos itens selecionados de modo a concluir, ou ajudar a concluir, sobre a população da qual a amostra é retirada.

Os principais métodos para selecionar amostras são, **EXCETO**:

- (A) Seleção aleatória.
- (B) Seleção ao acaso.
- (C) Seleção combinatória.
- (D) Seleção sistemática.

QUESTÃO 27

No que diz respeito ao Poder Legislativo, **NÃO** está correto o que se firma em:

- (A) A convocação extraordinária do Congresso Nacional far-se-á pelo Presidente da República, pelos Presidentes da Câmara dos Deputados e do Senado Federal ou a requerimento da maioria dos membros de ambas as Casas, em caso de urgência ou interesse público relevante. Quando referida convocação for realizada pelo Presidente da República, deverá haver a aprovação da maioria simples de cada uma das Casas do Congresso Nacional.
- (B) O funcionamento do Congresso Nacional fora do período da sessão legislativa ordinária é denominado de convocação extraordinária. Esta convocação pode ser feita pelo presidente do Senado Federal, em caso de decretação de Estado de Defesa ou de Intervenção Federal, de pedido de autorização para a decretação de Estado de Sítio e para o compromisso e posse do presidente e do vice-presidente da República.
- (C) O número total de Deputados, bem como a representação por Estado e pelo Distrito Federal, será estabelecido por lei complementar, proporcionalmente à população, procedendo-se aos ajustes necessários, no ano anterior às eleições, para que nenhuma daquelas unidades da Federação tenha menos de oito ou mais de setenta Deputados.
- (D) O Senado Federal é a Casa Legislativa que efetiva o bicameralismo federativo, ao compor-se de representantes dos Estados e do Distrito Federal, eleitos segundo o princípio majoritário.

QUESTÃO 28

De acordo com o disposto no artigo 385, da Lei Complementar Municipal nº 74/02 (Lei Complementar do Município de Sete Lagoas - Código Tributário Municipal), o Chefe do Poder Executivo, por despacho fundamentado, poderá conceder remissão total ou parcial do crédito tributário, atendendo, **EXCETO**:

- (A) à consideração de equidade, em relação as características pessoais ou materiais do caso.
- (B) a erro ou ignorância escusáveis do sujeito passivo, quanto à matéria de fato.
- (C) à precária situação econômica e financeira do sujeito passivo, comprovada exclusivamente por depoimento em cartório.
- (D) às condições peculiares a determinadas regiões do território do município.

QUESTÃO 29

Conforme o disposto no Código Tributário Nacional, para tributos sujeitos ao lançamento por homologação, o prazo para a repetição do indébito é contado

- (A) cinco anos a partir do fato gerador.
- (B) cinco anos a partir do pagamento antecipado.
- (C) cinco anos contados da data da constituição definitiva do crédito.
- (D) da extinção do crédito tributário pela homologação tácita após cinco anos da ocorrência do fato gerador.

QUESTÃO 30

Dentre as modalidades de licitação previstas na Lei nº 8.666/93, aquela que se destaca, tendo em vista que exige habilitação preliminar dos concorrentes é:

- (A) Concorrência.
- (B) Convite.
- (C) Pregão.
- (D) Tomada de preço.

QUESTÃO 31

De acordo com o disposto no artigo 371, da Lei Complementar Municipal nº 74/02 (Lei Complementar do Município de Sete Lagoas - Código Tributário Municipal), para cobrança da Contribuição de Melhoria, o Município publicará edital contendo, no mínimo, os seguintes elementos, **EXCETO**:

- (A) Delimitação da zona de influência e a relação dos imóveis nela compreendidos.
- (B) Determinação da parcela do custo das obras a ser ressarcida pela contribuição, com o correspondente plano de rateio entre os imóveis totais da localidade.
- (C) Memorial descritivo do projeto.
- (D) Orçamento total ou parcial do custo da obra.

QUESTÃO 32

De acordo com o disposto no artigo 50, da Lei Complementar nº 101/00 (Lei de Responsabilidade Fiscal - LRF), além de obedecer às demais normas de contabilidade pública, a escrituração das contas públicas observará as seguintes normas, **EXCETO**:

- (A) A despesa e a assunção de compromisso serão registradas segundo o regime de competência, apurando-se, em caráter complementar, o resultado dos fluxos financeiros pelo regime de caixa.
- (B) A disponibilidade de caixa constará de registro próprio, de modo que os recursos vinculados a órgão, fundo ou despesa obrigatória fiquem identificados e escriturados de forma individualizada.
- (C) As demonstrações contábeis compreenderão, isolada e conjuntamente, as transações e operações de cada órgão, fundo ou entidade da administração direta, autárquica e fundacional, inclusive empresa estatal dependente.
- (D) As receitas e despesas previdenciárias serão apresentadas em demonstrativos financeiros e orçamentários específicos, com a exclusão das operações intragovernamentais e de crédito.

QUESTÃO 33

De acordo com o disposto no artigo 221, da Lei Complementar Municipal nº 74/02 (Lei Complementar do Município de Sete Lagoas - Código Tributário Municipal), os tabeliães, escrivães, oficiais de registros públicos e demais serventuários de ofício devem, **EXCETO**,

- (A) fornecer ao juiz as certidões de débitos fiscais, concernentes a imóveis ou direitos a eles relativos.
- (B) fornecer às autoridades fiscais, quando solicitada, certidão dos atos lavrados ou registrados, concernentes a imóveis ou direitos a eles relativos.
- (C) fornecer dados e declarações relacionados ao lançamento ou ao pagamento do imposto.
- (D) franquear às autoridades fiscais o exame, em cartório, dos livros, autos e papéis que interessem à arrecadação e fiscalização do imposto.

QUESTÃO 34

Considerando-se que o Poder Judiciário se subdivide em órgãos específicos, assinale, dentre os listados abaixo, aquele que **NÃO** o integra:

- (A) Conselho Nacional de Justiça.
- (B) Tribunais Militares.
- (C) Tribunal de Contas da União.
- (D) Tribunal Regional do Trabalho.

QUESTÃO 35

NÃO representa um caso de dispensa de licitação, nos termos da Lei nº 8.666/93 - Lei Geral de Licitações:

- (A) Aquisição de bens ou serviços nos termos de acordo internacional específico aprovado pelo Congresso Nacional, quando as condições ofertadas forem manifestamente vantajosas para o Poder Público.
- (B) Compras de hortifrutigranjeiros, pão e outros gêneros perecíveis, no tempo necessário para a realização dos processos licitatórios correspondentes, realizadas diretamente com base no preço do dia.
- (C) Contratação de artista consagrado pela opinião pública.
- (D) Contratação de uma obra no valor de R\$ 10.000,00.

QUESTÃO 36

De acordo com o disposto no artigo 3º, da Lei Complementar Municipal nº 74/02 (Lei Complementar do Município de Sete Lagoas - Código Tributário Municipal), os impostos de competência do Município são, **EXCETO**:

- (A) Imposto sobre a Propriedade Predial e Territorial Urbana - IPTU.
- (B) Imposto sobre a Propriedade Territorial Rural - ITR.
- (C) Imposto sobre a Transmissão Intervivos de Bens Imóveis por Natureza ou Acessão Física e de Direitos Reais sobre Imóveis - ITBI.
- (D) Imposto sobre Serviços de Qualquer Natureza - ISSQN.

QUESTÃO 37

Considerando o conteúdo das normas de auditoria, leia os termos a seguir, bem como os significados a eles atribuídos, e assinale a afirmativa **INCORRETA**:

- (A) Risco não resultante da amostragem é o risco de que o auditor chegue a uma conclusão errônea por qualquer outra razão que não seja relacionada ao risco de amostragem.
- (B) Risco de amostragem é o risco de que a conclusão do auditor, com base em amostra, pudesse ser diferente se toda a população fosse sujeita ao mesmo procedimento de auditoria.
- (C) População é o conjunto completo de dados sobre o qual a amostra é selecionada e sobre o qual o auditor deseja concluir.
- (D) Anomalia é um valor monetário definido pelo auditor para obter um nível apropriado de segurança de que esse valor monetário não seja excedido pela distorção real na população.

QUESTÃO 38

Conforme o disposto no Código Tributário Nacional, a ação para a cobrança do crédito tributário prescreve em cinco anos, contados:

- (A) da data da sua constituição definitiva.
- (B) do respectivo vencimento, nos termos da legislação tributária.
- (C) da data em que se tornar definitiva a decisão que houver anulado, por vício formal, o lançamento anteriormente efetuado.
- (D) do primeiro dia do exercício seguinte àquele em que o lançamento poderia ter sido efetuado.

QUESTÃO 39

De acordo com o disposto no artigo 29, da Lei Complementar Municipal nº 74/02 (Lei Complementar do Município de Sete Lagoas - Código Tributário Municipal), na falta de eleição pelo contribuinte ou responsável de domicílio tributário, na forma da legislação aplicável, considera-se como tal, **EXCETO**:

- (A) quanto às pessoas naturais, a sua residência habitual ou, sendo esta incerta ou desconhecida, o centro habitual de sua atividade.
- (B) quanto às pessoas jurídicas de direito público, qualquer de suas repartições no território da entidade tributante.
- (C) quanto às pessoas jurídicas de direito privado ou às firmas individuais, o lugar de sua sede ou, em relação aos atos ou fatos que derem origem à obrigação, o de cada estabelecimento.
- (D) quanto às pessoas físicas, o centro ou local habitual de sua atividade.

QUESTÃO 40

As autarquias caracterizam-se, **EXCETO**:

- (A) por serem entidades dotadas de personalidade jurídica de direito público.
- (B) por integrarem a Administração Pública centralizada e direta, como órgãos prestadores de serviços públicos dotados de autonomia administrativa.
- (C) por beneficiarem-se dos mesmos prazos processuais aplicáveis à Administração Pública centralizada.
- (D) pelo desempenho de atividades tipicamente estatais.

CONCURSO PÚBLICO

PREFEITURA MUNICIPAL DE SETE LAGOAS

EDITAL 03/2012

PARA VOCÊ DESTACAR E CONFERIR O SEU GABARITO

01	
02	
03	
04	
05	
06	
07	
08	
09	
10	

11	
12	
13	
14	
15	
16	
17	
18	
19	
20	

21	
22	
23	
24	
25	
26	
27	
28	
29	
30	

31	
32	
33	
34	
35	
36	
37	
38	
39	
40	





Av. Francisco Sales, 540 - Floresta - 30150-220 - Belo Horizonte/MG
(31) 3248-7400 - www.fumarc.org.br / fumarcoconcursos@puccinas.br

Impressão: FUMARC GRÁFICA - (31) 3248-7400