

CONCURSO PÚBLICO

Edital 001/2017



CÂMARA MUNICIPAL DE PARÁ DE MINAS

CADERNO DE PROVAS

CADERNO 1	CARGO: AGENTE LEGISLATIVO
PROVAS:	<ul style="list-style-type: none">• LÍNGUA PORTUGUESA• MATEMÁTICA / RACIOCÍNIO LÓGICO• NOÇÕES DE INFORMÁTICA• LEGISLAÇÃO MUNICIPAL• REDAÇÃO

Leia, atentamente, as instruções gerais que se encontram no verso desta capa.

INSTRUÇÕES GERAIS:

1. Este caderno de provas contém um total de **40** (quarenta) questões objetivas, sendo 10 de Língua Portuguesa, 7 de Matemática/Raciocínio Lógico, 8 de Noções de Informática, 15 de Legislação Municipal e 1 tema de Redação. Confira-o.
2. As provas para todos os cargos terão duração de, no mínimo, **1 (uma) hora** e, no máximo, de **4 (quatro) horas**, incluído o tempo destinado à transcrição de suas respostas no gabarito oficial e do texto definitivo da Redação na folha própria.
3. Respondidas as questões, você deverá passar o gabarito para a sua folha de respostas, usando caneta esferográfica azul ou preta.
4. Em nenhuma hipótese haverá substituição da Folha de Respostas por erro do candidato.
5. Este caderno deverá ser devolvido ao fiscal, juntamente, com a folha de respostas e o texto definitivo de sua Redação, devidamente preenchidos e assinados.
6. Por motivo de segurança, os candidatos somente poderão ausentar-se do recinto de realização das provas objetivas decorrida **1 (uma) hora** do início de aplicação das mesmas.
7. Você pode transcrever suas respostas na última folha deste caderno e a mesma poderá ser destacada.
8. A FUMARC divulgará as questões e os gabaritos das Provas Objetivas de Múltipla Escolha no endereço eletrônico <www.fumarc.com.br>, no 2º (segundo) dia útil subsequente à realização das provas.
9. A comissão organizadora da FUMARC Concursos lhe deseja uma boa prova.

Prezado(a) candidato(a):

Coloque seu número de inscrição e nome no quadro abaixo:

Nº de Inscrição	Nome
<input type="text"/>	<input type="text"/>

ASSINALE A RESPOSTA CORRETA.

PROVA DE LÍNGUA PORTUGUESA

RAPIDINHO

Todos nos beneficiamos e nos orgulhamos das conquistas da vida moderna, especialmente da crescente velocidade com que fazemos as coisas acontecerem. Mudanças que antigamente levavam séculos para se efetivarem agora podem ser realizadas em poucos anos, às vezes em poucos meses. Quando não em poucas semanas, ou até em poucos dias. Nas sociedades tradicionais, as normas de conduta, as leis, os costumes, o modo de se vestir, os estilos artísticos tinham uma extraordinária capacidade de perdurar. Tudo se modificava, é claro, mas sempre muito devagar. [...]

Na utilização dos meios de comunicação, os mensageiros foram substituídos pelo telégrafo elétrico, que cedeu lugar ao telégrafo sem fio, ao telefone, à televisão, ao fax, ao e-mail e às maravilhas da eletrônica contemporânea. Não somos bobos, tratamos de aproveitar as possibilidades criadas por todos os novos recursos tecnológicos. Para que perder tempo? Se podemos fazer depressa o que os nossos antepassados só conseguiam fazer devagar, por que não haveríamos

de acelerar nossas ações? Um dos expoentes do espírito pragmático da modernidade, o americano Benjamin Franklin, já ensinava no século XVIII: “Tempo é dinheiro”, time is money.[...]

Dedicamo-nos, então, a uma frenética corrida contra os ponteiros do relógio. Para sermos eficientes, competitivos, apressamos cada vez mais nossos movimentos. Saímos de casa correndo para o trabalho, somos cobrados para dar conta correndo de nossas tarefas e — habituados à corrida — alimentamo-nos às pressas (ah, a chamada fast food!), para depois voltarmos, correndo, para casa. [...]

Impõem-se, contudo, algumas perguntas: nas condições em que somos mais ou menos obrigados a viver, não estaremos, de qualquer maneira, pagando um preço altíssimo, mesmo se formos bons corredores e nos mostrarmos aptos para vencer? Os ritmos que nos são impostos e que aguçam algumas das nossas faculdades não resultam, ao mesmo tempo, num empobrecimento de alguns aspectos importantes da nossa sensibilidade e da nossa inteligência? A necessidade de assimilar com urgência as informações essenciais para a ação imediata não acarreta uma grave incapacidade de digerir conhecimentos sutis e complexos, cheios de carços e mediações que, embora careçam de serventia direta, são imprescindíveis ao aprofundamento da minha compreensão da condição humana? Uma reflexão que se sabe condenada a desenvolver-se num exíguo prazo predeterminado não será, inevitavelmente, superficial? O pensamento que se formula rapidinho não tende a ser sempre meio oco? (Leandro Konder. In: O Globo, 29/08/96)

<https://pt.linkedin.com/pulse/%C3%A0-luz-do-fil%C3%B3sofo-karine-gomes-moura>

QUESTÃO 01

Sobre a constituição do texto, é **CORRETO** afirmar que

- (A) em alguns trechos, há interlocução entre locutor e leitor.
- (B) nele predomina a linguagem oral.
- (C) o 1º parágrafo apresenta a ideia que será desenvolvida ao longo do texto.
- (D) o uso da 3ª pessoa do singular é predominante.

QUESTÃO 02

Todos os sentimentos abaixo estão presentes no texto, **EXCETO**:

- (A) reflexão
- (B) sarcasmo
- (C) sensatez
- (D) veracidade

QUESTÃO 03

São consequências de “Tempo é dinheiro”, **EXCETO**:

- (A) A crescente velocidade com que fazemos as coisas acontecerem só nos traz benefícios.
- (B) Alimentamo-nos às pressas (ah, a chamada fast food!), para depois voltarmos, correndo, para casa.
- (C) Os ritmos que nos são impostos resultam, ao mesmo tempo, num empobrecimento de alguns aspectos importantes da nossa sensibilidade e da nossa inteligência.
- (D) Para sermos eficientes, competitivos, apressamos cada vez mais nossos movimentos.

QUESTÃO 04

Os termos destacados têm natureza adverbial, **EXCETO**:

- (A) “Mudanças que **antigamente** levavam séculos para se efetivarem [...].”
- (B) “O pensamento que se formula **rapidinho** não tende a ser sempre meio oco?”
- (C) “Quando **não** em poucas semanas, ou até em poucos dias.”
- (D) “Um dos expoentes do espírito **pragmático** da modernidade, o americano Benjamin Franklin, já ensinava no século XVIII [...].”

QUESTÃO 05

Todas as constatações abaixo podem ser feitas com base no texto, **EXCETO**:

- (A) Ao acelerarmos nossas ações, conforme o pensamento de Benjamim Franklin, tornamo-nos eficientes, competitivos, apressamos cada vez mais nossos movimentos, pagando um preço altíssimo.
- (B) Ao assimilarmos com urgência as informações essenciais para uma ação imediata, deixamos de assimilar conhecimentos sutis e complexos que são imprescindíveis ao aprofundamento da compreensão da nossa condição humana.
- (C) Ao formularmos um pensamento rapidamente, a tendência é que ele seja mais superficial.
- (D) Ao refletirmos sobre um assunto num prazo curto e pré-determinado, a tendência é de esta reflexão ser, inevitavelmente, superficial.

QUESTÃO 06

Com relação às regras de colocação do pronome oblíquo, a posição do pronome é **facultativa** em:

- (A) “Dedicamo-**nos**, então, a uma frenética corrida contra os ponteiros do relógio.”
- (B) “Os ritmos que **nos** são impostos e que aguçam algumas das nossas faculdades [...]”.
- (C) “Todos nos beneficiamos e **nos** orgulhamos das conquistas da vida moderna [...]”.
- (D) “Uma reflexão que se sabe condenada a desenvolver-**se** num exíguo prazo predeterminado [...]”.

QUESTÃO 07

A concordância nominal está **CORRETA** em:

- (A) É **necessário** a atenção de todos para a leitura do texto.
- (B) Ela tomou decisões o mais sensatas **possíveis**.
- (C) Somente após **bastantes** ameaças, ele arrumou o quarto.
- (D) Quando a moça terminou de arrumar as malas, já era meio-dia e **meio**.

QUESTÃO 08

Analise as seguintes frases, observando o emprego dos sinais de pontuação:

- I. O candidato impaciente espera o momento da prova.
- II. O candidato, impaciente, espera o momento da prova.
- III. O candidato, impaciente espera, o momento da prova.
- IV. Impaciente, o candidato espera o momento da prova.
- V. O candidato espera impaciente, o momento da prova.

As frases estão **corretamente** pontuadas apenas em:

- (A) I, II e IV.
- (B) I, III e IV.
- (C) II e V.
- (D) III e IV.

QUESTÃO 09

Leia o trecho abaixo, completando as lacunas **corretamente**:

'Criptografia limita'

Questionado pelo TechTudo, o WhatsApp disse que trabalha de forma diligente para reduzir o número de mensagens de spam no aplicativo. Porém, é possível que as equipes não tenham acesso ao conteúdo da mensagem em razão da criptografia de ponta ____ ponta aplicada ao mensageiro e adotada em abril de 2016. "Nossas ações ficam de certa maneira limitadas", informou ____ equipe de segurança do WhatsApp ____ redação. Um conteúdo similar ao da nota enviada é encontrado na página "Fique seguro no WhatsApp". Saiba como agir ao receber correntes, links maliciosos e falsas promessas de cupons que podem ser golpes.

Disponível em: <https://www.techtudo.com.br/dicas-e-tutoriais/2017/09/golpes-de-whatsapp-o-guia-de-finitivo-para-nao-cair-em-ciladas.ghtml>. Acesso em 15 fev. 2018.

A sequência que preenche **corretamente** as lacunas do texto é:

- (A) a - à - à
- (B) à - a - à
- (C) a - a - à
- (D) à - à - à

QUESTÃO 10


A divisão silábica está correta, **EXCETO** em:

- (A) cor ren tes
- (B) cri pto gra fi a
- (C) ga fa nho to
- (D) im pres cin dí veis

PROVA DE MATEMÁTICA / RACIOCÍNIO LÓGICO

QUESTÃO 11

Um robô é programado para descrever determinados movimentos de comando e parar em um determinado ponto designado, no mapa nomeado “pista quadriculada”, a seguir por **A**, **B**, **C** ou **D**. O robô é colocado num certo ponto sobre a pista quadriculada (indicado por uma seta), como mostra a figura, e ativado para descrever os seguintes comandos:

INSTRUÇÕES	
<ul style="list-style-type: none"> • Início: → Ande 3 passos para frente → Vire à direita → Repita 2 vezes: <ul style="list-style-type: none"> { Ande 2 passos para frente { Vire à esquerda → $N = \text{resto da divisão de } 19 \text{ por } 5$ Se 19 é primo faça: Ande N passos para frente Senão faça: Ande $N/2$ passos para frente → Vire à direita → Ande 3 passos • Fim 	

Obs.: 1 passo corresponde ao comprimento de um dos lados dos quadrados da pista.

Começando a partir do ponto indicado pela seta da área quadriculada, de frente para a pista, caminhando apenas sobre as linhas e seguindo as instruções fornecidas, qual a letra que corresponde ao **ponto final** desta trajetória?

- (A) A
- (B) B
- (C) C
- (D) D

QUESTÃO 12

Um salão de festas possui 6 portas de acesso. De quantas maneiras distintas ele pode estar aberto?

- (A) 63
- (B) 64
- (C) 719
- (D) 720

QUESTÃO 13

Pedro possuía no dia do vencimento, 01/03/2017, uma dívida de R\$ 1000,00 na fatura de seu cartão de crédito. Caso Pedro não efetuasse o pagamento do valor total da fatura, seriam cobrados juros de 16% sobre o saldo devedor para a próxima fatura. Para quitar sua dívida, Pedro optou por pagar sempre o mínimo (15% sobre o saldo devedor total) da fatura a cada mês e não efetuar mais compras.

A dívida desse consumidor, em 01/05/2017, era de, **aproximadamente**:

(Considere 2 casas decimais)

- (A) R\$ 838, 10
- (B) R\$ 840,00
- (C) R\$ 968, 53
- (D) R\$ 972,20

QUESTÃO 14

Considere os argumentos lógicos I, II e III a seguir:

- I. Todos os gatos são felinos e todos os felinos são ferozes. Concluimos que todos os gatos são ferozes.
- II. Todo médico é músico. Algum médico não é professor. Concluimos que algum músico não é professor.
- III. Se todo professor é estudioso e existem atletas que são professores, concluimos que existem atletas que são estudiosos.

É **CORRETO** afirmar:

- (A) Todos os argumentos são válidos.
- (B) II e III são argumentos válidos.
- (C) I e II são argumentos válidos.
- (D) Apenas o argumento III é válido.

QUESTÃO 15

Uma loja está promovendo a venda de conjuntos com artigos de perfumaria, praticando os preços indicados na tabela a seguir.

PROMO- ÇÃO	Sabonete lí- quido (unida- des)	Creme hi- drante (uni- dades)	Mini Per- fume (unidades)	Preço de venda (R\$)
Conjunto A	1	2	3	23,50
Conjunto B	2	5	6	50,00
Conjunto C	2	3	4	36,00

Baseando-se nas informações dessa tabela, é **CORRETO** afirmar que o preço unitário do sabonete líquido, **em reais**, nessa promoção, é igual a:

- (A) 2,50
- (B) 3,00
- (C) 4,00
- (D) 5,50

QUESTÃO 16

Uma pesquisa entrevistou 40 pessoas sobre a prática de esportes nas modalidades vôlei e natação e os resultados obtidos estão organizados na tabela abaixo:

Modalidade	Praticantes
Vôlei	25
Natação	20
Vôlei e natação	10
Amostra	40

Baseando-se nos resultados dessa pesquisa, é **CORRETO** afirmar que o total de pessoas que **NÃO** pratica nenhum dos esportes é igual:

- (A) 5
- (B) 10
- (C) 15
- (D) 25

QUESTÃO 17

Se a importância de R\$ 4.440,00 foi dividida em partes **inversamente** proporcionais aos números 4, 5 e 6, então é **CORRETO** afirmar que a maior das três partes, **em reais**, equivale a:

- (A) 1.600
- (B) 1.800
- (C) 2.200
- (D) 2.440

PROVA DE NOÇÕES DE INFORMÁTICA


QUESTÃO 18

Recurso do navegador Google Chrome 63.0, versão português, que permite abrir uma nova janela para navegar com privacidade sem salvar seu histórico de navegação, *cookies* e dados de sites:

- (A) Nova janela anônima.
- (B) Nova janela privada.
- (C) Nova janela secreta.
- (D) Nova janela segura.

QUESTÃO 19

Analise as seguintes afirmativas sobre o assistente de funções do OpenOffice Calc 4.1.3, versão português:

- I. O botão de comando  da barra de fórmulas abre a janela do assistente de funções.
- II. O atalho de teclado Ctrl+F2 abre a janela do assistente de funções.
- III. A opção de menu “Inserir → Função...” abre a janela do assistente de funções.

Estão **CORRETAS** as afirmativas:

- (A) I e II, apenas.
- (B) I e III, apenas.
- (C) II e III, apenas.
- (D) I, II e III.

QUESTÃO 20

Considere a planilha a seguir do Microsoft Excel, versão português do Office 2010:





	A	B	C
1	A		1
2	B		2
3	A		3
4	A		1
5	B		3
6			

Todos os resultados das fórmulas a seguir estão corretos, **EXCETO**:

- (A) O resultado da fórmula “=SOMA(B1:B5)” é 10.
- (B) O resultado da fórmula “=CONT.SE(A1:B5;"=B")” é 5.
- (C) O resultado da fórmula “=SOMASE(A1:B5;"=A";B1:B5)” é 5.
- (D) O resultado da fórmula “=SOMASE(B1:B5;"<>1")” é 8.

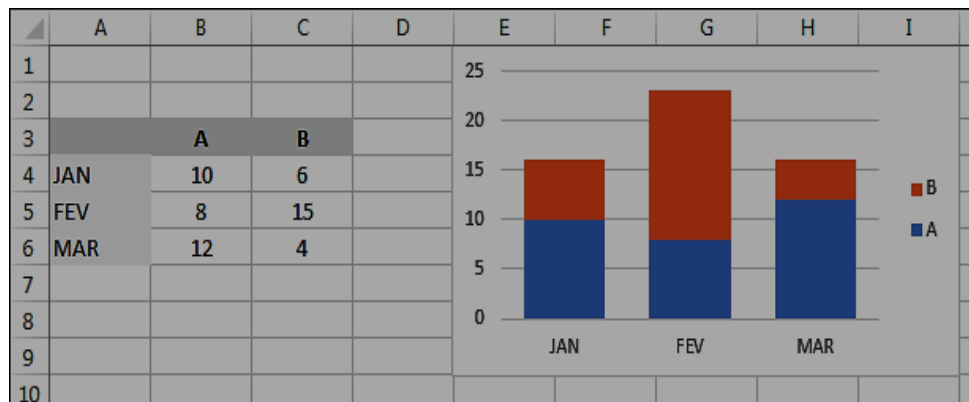
QUESTÃO 21

Ao acionar as “Configurações do Windows” a partir do “Menu Iniciar” no Windows 10, versão português, é possível gerenciar Vídeo, Notificações e Energia, dentre outras configurações, a partir da opção:

- (A)  Aplicativos
- (B)  Dispositivos
- (C)  Personalização
- (D)  Sistema

QUESTÃO 22

Considere a planilha a seguir do Microsoft Excel, versão português do Office 2010:



Analise as seguintes afirmativas sobre o gráfico:

- I. “A” e “B” são exemplos de rótulos de categorias.
- II. “JAN”, “FEV” e “MAR” são exemplos rótulos de série.
- III. A figura exhibe um gráfico de colunas empilhadas.

Estão **CORRETAS** as afirmativas:

- (A) I e II, apenas.
- (B) II e III, apenas.
- (C) III, apenas.
- (D) I, II e III.





QUESTÃO 23

São opções disponíveis no menu Formatar do OpenOffice Writer 4.1.3, versão português, **EXCETO**:

- (A) Cabeçalho...
- (B) Marcadores e numerações...
- (C) Página...
- (D) Parágrafo...

QUESTÃO 24


Em relação às opções do grupo “Texto” da guia “Inserir” no Microsoft Word, versão português do Office 2010, correlacione as colunas a seguir:

Ícone	Opção
I. 	() Partes Rápidas
II. 	() WordArt
III. 	() Caixa de Texto
IV. 	() Leitura Capitular

Está **CORRETA** a sequência:

- (A) I, IV, II, III.
- (B) II, III, I, IV.
- (C) II, IV, I, III.
- (D) IV, III, II, I.

QUESTÃO 25

Em relação às opções disponíveis no grupo “Ilustrações” da guia “Inserir” do Microsoft Word, versão português do Office 2010, o ícone  corresponde à operação:

- (A) Inserir formas prontas.
- (B) Inserir um elemento gráfico SmartArt.
- (C) Inserir uma imagem de um arquivo.
- (D) Inserir clip-art no documento.

PROVA DE LEGISLAÇÃO MUNICIPAL**QUESTÃO 26**

É vedado ao Município

- (A) aumentar imposto através de lei.
- (B) dar proteção específica a pessoas portadoras de deficiência.
- (C) estabelecer colaboração de interesse público com organizações religiosas.
- (D) manter relação de dependência com igrejas.

QUESTÃO 27

Sobre a legislatura no âmbito da Câmara Municipal, é **CORRETO** afirmar que

- (A) é o conjunto de funções conferidas ao vereador pelo período de um ano.
- (B) é sinônimo de sessão legislativa.
- (C) seu tempo de duração não inclui recessos parlamentares.
- (D) terá duração de 4 (quatro) anos.

QUESTÃO 28

As reuniões da Câmara Municipal deverão ser

- (A) acessíveis apenas para vereadores e outras autoridades de Estado.
- (B) acessíveis apenas para vereadores e servidores da própria Câmara.
- (C) públicas, conforme determina a Lei Orgânica.
- (D) sigilosas, exigindo-se aprovação de dois terços dos vereadores para que sejam públicas.

QUESTÃO 29

O exercício da liberdade de reunião, conforme a Lei Orgânica do Município, é garantida nos seguintes termos:

- (A) Todos podem reunir-se pacificamente, com ou sem armas, em bens de uso comum do povo, independentemente de autorização, desde que não frustrem outra reunião anteriormente convocada para o mesmo local.
- (B) Todos podem reunir-se pacificamente, desde que não frustrem outra reunião anteriormente convocada para o mesmo local e sujeitem previamente ao crivo da autoridade municipal os fins da reunião a ser realizada.
- (C) Todos podem reunir-se pacificamente, sem armas, em bens de uso comum do povo, independentemente de autorização, desde que não frustrem outra reunião anteriormente convocada para o mesmo local.
- (D) Todos podem reunir-se pacificamente, sem armas, em bens de uso comum do povo, mediante autorização, desde que não frustrem outra reunião anteriormente convocada para o mesmo local.

QUESTÃO 30

Sobre a licitação, nos termos da Lei Orgânica Municipal, é **CORRETO** afirmar:

- (A) As compras, obras e serviços da Prefeitura, bem como dos órgãos da administração indireta serão realizados com estrita observância do princípio de licitação, mas a Câmara Municipal não possui dever de licitar.
- (B) As compras, obras e serviços da Prefeitura, da Câmara Municipal e dos órgãos da administração indireta serão realizados com estrita observância do princípio de licitação.
- (C) O Município não está obrigado a licitar se comprovada a idoneidade da empresa a ser contratada.
- (D) O Município não está obrigado a licitar, devendo fazê-lo se assim previsto em lei de iniciativa do Prefeito Municipal.

QUESTÃO 31

São comissões permanentes da Câmara Municipal

- (A) as que subsistem à legislatura.
- (B) as que subsistem à sessão legislativa.
- (C) as que subsistem a, no mínimo, 4 períodos legislativos.
- (D) aquelas cujos membros forem, na integralidade, reeleitos para mandatos consecutivos.

QUESTÃO 32

Sobre a iniciativa de projeto de lei no âmbito do Município, é **CORRETO** afirmar que cabe

- (A) a qualquer vereador, à Mesa Diretora, às comissões e aos cidadãos, mas não cabe ao Prefeito Municipal.
- (B) a qualquer vereador, ao prefeito, à Mesa Diretora e às comissões e, na forma da Lei Orgânica, aos cidadãos.
- (C) a qualquer vereador, ao prefeito, à Mesa Diretora e às comissões, mas não cabe aos cidadãos.
- (D) às autoridades de qualquer dos três poderes.

QUESTÃO 33

As decisões da Câmara Municipal serão tomadas, como regra, por maioria

- (A) absoluta, presente à votação a maioria dos membros da Câmara.
- (B) simples quando a sessão for ordinária, e maioria absoluta, quando a sessão ocorrer por convocação extraordinária.
- (C) simples, independentemente do número de vereadores presentes.
- (D) simples, presente à votação a maioria absoluta dos membros da Câmara.

QUESTÃO 34

O veto a projeto de lei municipal compete

- (A) à maioria simples dos vereadores.
- (B) à Mesa Diretora.
- (C) ao Prefeito Municipal.
- (D) ao Presidente da Câmara.

QUESTÃO 35

Sobre o decoro parlamentar, é **CORRETO** afirmar:

- (A) A falta de decoro do vereador não é suficiente para gerar a perda do mandato.
- (B) Constitui conduta atentatória ao decoro parlamentar o uso do mandato para incitar a prática de crime.
- (C) O abuso das prerrogativas constitucionais não viola o dever de decoro do vereador.
- (D) Somente o vereador pode apresentar denúncia de falta de decoro.

QUESTÃO 36

Constitui dever do servidor público:

- (A) Deixar de aplicar a lei quando assim o exigir o dever de eficiência.
- (B) Negar qualquer pedido de informação que lhe seja dirigido.
- (C) Proteger seu superior hierárquico quando este seja acusado de conduta ilegal.
- (D) Zelar pela conservação do patrimônio público.

QUESTÃO 37

A hipótese, dentre as seguintes, que **NÃO** configura ausência admitida do servidor:

- (A) Viagem ao exterior.
- (B) Falecimento de irmão.
- (C) Doação de sangue.
- (D) Amamentação de filho.

QUESTÃO 38

A servidora que adotar criança tem direito à licença remunerada?

- (A) Sim.
- (B) Não.
- (C) Sim, apenas se a criança tiver idade inferior a dois anos.
- (D) Não, apenas tem direito à licença sem remuneração.

QUESTÃO 39

O servidor é responsável pelo prejuízo que causar à Câmara Municipal

- (A) ainda que aja no exercício regular das funções.
- (B) mas não pode sofrer desconto na sua remuneração.
- (C) por conduta culposa ou dolosa.
- (D) por conduta praticada no exercício da função, independente de dolo ou culpa.

QUESTÃO 40

É considerada infração disciplinar de grau médio aquela que

- (A) cause dano.
- (B) não expresse conduta ilegal.
- (C) possa comprometer a organização do trabalho.
- (D) possa comprometer o ambiente de trabalho.

PROVA DE REDAÇÃO

Para contextualizar sua produção, leia os textos 1 e 2 a seguir.

TEXTO 1

A campeã olímpica Rafaela Silva utilizou uma rede social para fazer um desabafo na noite de 22 de fevereiro. A judoca revelou que foi vítima de uma abordagem ofensiva da Polícia Militar na Avenida Brasil, no Rio de Janeiro, quando viajava de táxi do Aeroporto Internacional Tom Jobim para a sua casa, em Jacarepaguá, na Zona Oeste. Nascida e criada na Cidade de Deus, uma das áreas de maior pobreza e violência da capital fluminense, Rafaela se sentiu discriminada com a abordagem.

- Fiquei indignada, todo mundo na rua olhando para minha cara como se eu tivesse feito algo errado. Esse preconceito vai até onde? - escreveu Rafaela na última postagem no Twitter. - A gente no Rio de Janeiro tem que passar essa vergonha. Preto não pode andar de táxi, porque deve estar assaltando ou roubando? - complementou a judoca em uma sequência de vídeos gravados para o Instagram.

Segundo a atleta, uma viatura da Polícia parou o seu táxi no meio da Avenida Brasil. Armados, os policiais pediram que Rafaela saltasse do táxi para uma revista. Antes de reconhecerem a campeã olímpica, os militares perguntaram à judoca onde ela morava. Rafaela revelou profundo constrangimento por ter saltado do carro para ser revista em meio a um trânsito intenso.

TEXTO 02

Embora impliquem possibilidade de incidência da responsabilidade penal, os conceitos jurídicos de injúria racial e racismo são diferentes. O primeiro está contido no Código Penal brasileiro e o segundo, previsto na Lei n. 7.716/1989. Enquanto a injúria racial consiste em ofender a honra de alguém se valendo de elementos referentes à raça, cor, etnia, religião ou origem, o crime de racismo atinge uma coletividade indeterminada de indivíduos, discriminando toda a integralidade de uma raça. Ao contrário da injúria racial, o crime de racismo é inafiançável e imprescritível.

Disponível em: <http://www.cnj.jus.br/noticias/cnj/79571-conheca-a-diferenca-entre-racismo-e-injuria-racial>. Acesso em 26 fev. 2018.

Após a leitura dos textos acima, escreva um texto **dissertativo-argumentativo** em prosa em que você responda à seguinte pergunta:

Como combater o racismo no século XXI?

Para isso, leve em consideração o código Penal brasileiro que considera o racismo crime inafiançável e imprescritível.

- **Não copie** fragmentos do texto.
- A cópia implicará **anulação** da redação.
- Dê um **título** ao seu texto.
- Faça o rascunho do seu texto e, depois, transcreva-o para a folha própria, **à caneta**, com letra legível.
- Seu texto deverá ter de 20 a 30 linhas.

RASCUNHO DA REDAÇÃO

1
2
3
4
5
6
7
8
9
10
11
12
13
14
15
16
17
18
19
20

21
22
23
24
25
26
27
28
29
30

CONCURSO PÚBLICO

CÂMARA MUNICIPAL DE PARÁ DE MINAS
EDITAL 001/2017

PARA VOCÊ DESTACAR E CONFERIR O SEU GABARITO.

01	
02	
03	
04	
05	
06	
07	
08	
09	
10	

11	
12	
13	
14	
15	
16	
17	
18	
19	
20	

21	
22	
23	
24	
25	
26	
27	
28	
29	
30	

31	
32	
33	
34	
35	
36	
37	
38	
39	
40	

