

CONCURSO PÚBLICO PARA PROVIMENTO DE CARGOS DO QUADRO DE
PESSOAL DA SECRETARIA DA ASSEMBLEIA LEGISLATIVA DO ESTADO
DE MINAS GERAIS

EDITAL 01/2022



GABARITO TIPO: **2**

CADERNO DE PROVAS

<p>CADERNO</p> <p>101</p>	<p>Cargo/Especialidade</p> <ul style="list-style-type: none">• Técnico de Apoio Legislativo• TÉCNICO DE APOIO LEGISLATIVO
<p>QUESTÕES</p>	<ul style="list-style-type: none">• LÍNGUA PORTUGUESA• NOÇÕES DE DIREITO• MATEMÁTICA• RACIOCÍNIO LÓGICO• INTERPRETAÇÃO DE TEXTO (DISCURSIVA)

Leia, atentamente, as instruções gerais que se encontram no verso desta capa.

INSTRUÇÕES GERAIS

1. Este caderno de provas contém um total de **50 (cinquenta)** questões objetivas, sendo 15 de Língua Portuguesa, 15 de Noções de Direito, 10 de Matemática, 10 de Raciocínio Lógico; e 2 (duas) questões discursivas de Interpretação de Texto. Confira-o.
2. As provas objetivas e discursivas terão duração de **5 (cinco) horas**, incluído o tempo destinado à transcrição das respostas do caderno de questões para as folhas de respostas oficiais objetivas e discursivas.
3. Por motivo de segurança, o candidato somente poderá se ausentar do recinto da realização das provas decorridas 3 (três) horas do início de sua aplicação.
4. O candidato deverá marcar na folha de respostas o tipo de caderno de prova - **Gabarito 1 ou Gabarito 2**.
5. As respostas das questões objetivas e discursivas deverão ser transcritas para a folha de respostas oficial, usando caneta esferográfica de tinta azul ou preta.
6. Você poderá transcrever suas respostas das questões objetivas para a última folha deste caderno e a mesma poderá ser destacada.
7. Na transcrição das respostas das questões discursivas, em caso de erro, não use borracha, não rasure nem use corretivo. Coloque entre parênteses o que deseja que **não seja considerado**, passando um traço duplo sobre o termo, a expressão ou a frase. Exemplo: (~~xyzxyzxyzxyz~~)
8. Em nenhuma hipótese haverá substituição das folhas de respostas objetivas e discursivas por erro do candidato.
9. Este caderno deverá ser devolvido ao fiscal, juntamente, com as folhas de respostas objetivas e discursivas, devidamente preenchidas e assinadas.
10. O gabarito da prova objetiva de cada cargo/especialidade/área de seleção será publicado em até dois dias úteis após a realização das provas, no *Diário do Legislativo*, e divulgado no sítio eletrônico <www.fumarc.com.br>.
11. **ATENÇÃO:** Transcreva no espaço apropriado na sua Folha de Respostas, com sua caligrafia usual, a seguinte frase:

“A Assembleia Legislativa de Minas Gerais busca a construção de uma sociedade melhor.”

A comissão organizadora da FUMARC Concursos lhe deseja uma boa prova.

Prezado(a) candidato(a):

Coloque seu número de inscrição e nome no quadro abaixo:

Nº de Inscrição	Nome
<input type="text"/>	<input type="text"/>

ASSINALE A RESPOSTA CORRETA.

PROVA DE LÍNGUA PORTUGUESA

APRENDER COM AS DERROTAS

Marcos Davi Melo

Talvez por estar acompanhando os jogos da Copa do Mundo do Catar em casa, com a família, incluindo os netos, alguns ainda muito verdinhos, entre tantas imagens emocionantes nas arenas e seus arredores, uma delas marcou-me muito: a do excelente goleiro da Polônia Wojcech Szczesny (Ufa!!!), que, depois de defender um pênalti cobrado por Messi, saiu de campo derrotado, necessitando em seguida consolar o filho pequeno, ainda no túnel que os conduz do gramado para os vestiários. Nesse caso, a derrota veio logo depois da glória.

Quem está preparado para as derrotas? Quem não sofre com elas?

Nélson Rodrigues (sempre ele!) em uma crônica “Freud no futebol”, escreveu que, nos EUA, todos tinham um psicanalista e que esse profissional tinha se tornado tão necessário quanto uma namorada. E o sujeito que, por qualquer razão eventual, deixava de vê-lo, de ouvi-lo, de farejá-lo, ficava incapacitado para os amores, os negócios e as bandalheiras. Nelson reclamava que o futebol brasileiro tinha tudo, menos um psicanalista: “Cuida-se das integridades das canelas, mas ninguém se lembra de preservar a saúde interior,

o delicadíssimo equilíbrio emocional do jogador”. Coincidência ou não, logo depois da eliminação precoce da nossa seleção da Copa de 1966 na Inglaterra, os psicólogos passaram a ser uma peça essencial nas equipes nacionais.

Pensando nos nossos filhos e netos, diante de uma indesejável, mas sempre possível derrota na Copa, segundo os psicólogos, quatro coisas podem se aprender em uma partida de futebol, um jogo de xadrez, ou um simples par ou ímpar, que podem servir para outros momentos da vida: primeiro, quando se chega ao lugar mais alto do pódio, quantas vezes ele precisou perder para chegar lá? Os fracassos nos ensinam como vencer. Perdemos a Copa de 50 em casa e vencemos em 58 na Suécia. Sempre há outra chance, Cristiano Ronaldo pode estar no ocaso de sua vitoriosa carreira como jogador, mas as portas estão abertas para se consagrar como técnico.

Aprender sobre Empatia: sempre que vemos atletas profissionais comemorando uma conquista, percebemos a intensidade com que pulam, gritam para mostrar que, enfim, conquistaram algo bastante almejado. Mas como se sente o rival derrotado, vendo tudo aquilo? Nossos filhos e netos podem até ficar tentados a imitá-los, mas precisamos orientá-los para que tomem cuidado com as celebrações exageradas, afinal de contas, no outro dia, podemos estar do outro lado.

Finalmente, não é só ganhar. Jogos e esportes não são só para mostrar quem pode mais, mas para demonstrar amor pela atividade, estimular a empatia, o trabalho em equipe e o respeito por quem está ao seu lado e pelo adversário. É fundamental saber perder, por mais duro que seja, embora não seja fácil lidar com derrotas e fracassos. As derrotas nos ensinam que nem tudo são glórias. Elas são importantes, porque nos trazem novas visões e muito aprendizado. Apropriar-se de um fracasso trazendo isso para o lado pessoal faz sofrer mais. Não se devem criar expectativas além do nosso limite e a derrota acaba sendo previsível. Saber perder é apenas uma prova de maturidade, por isso é impróprio cobrá-la das crianças, mas é indispensável aos adultos saber administrá-la.

Disponível em: <https://d.gazetadealagoas.com.br/opiniao/393942/aprender-com-as-derrotas->

Acesso em: 14 dez. 2022 (Adaptado)

QUESTÃO 01

O que motivou a escrita deste texto foi

- (A) a vontade de ensinar a todos sobre a derrota.
- (B) a visão do fracasso pela televisão, principalmente diante dos netos.
- (C) a percepção de que a derrota pode vir logo após da glória.
- (D) a necessidade de demonstrar como é importante aprender com as derrotas.

QUESTÃO 02

Sobre a constituição do texto, é correto afirmar, **EXCETO**:

- (A) O uso das perguntas no segundo parágrafo está incorreto, visto que elas não foram respondidas.
- (B) O uso da 1ª pessoa do plural denota preocupação do autor em inserir o leitor em seu texto.
- (C) O primeiro parágrafo é uma contextualização do assunto que será tratado nos parágrafos seguintes.
- (D) A linguagem formal predomina ao longo do texto.

QUESTÃO 03

A interferência do autor em: “Nélson Rodrigues (**sempre ele!**) em uma crônica “Freud no futebol”, escreveu que, nos EUA,” revela:

- (A) orgulho.
- (B) ironia.
- (C) dúvida.
- (D) audácia.

QUESTÃO 04

Todas as seguintes constatações podem ser feitas a partir do texto, **EXCETO**:

- (A) Os jogos e os esportes são importantes para desenvolver o trabalho de equipe.
- (B) O adulto não deve criar expectativa sobre as glórias, para não sofrer com as derrotas.
- (C) A empatia é um sentimento que deve existir em todas as situações de nossa vida.
- (D) A derrota nos ensina que nem tudo são glórias e é importante, porque nos traz maturidade.

QUESTÃO 05

Há linguagem oral em:

- (A) “Talvez por estar acompanhando os jogos da Copa do Mundo do Catar em casa, com a família, incluindo os netos, alguns ainda muito verdinhos [...]”
- (B) “Elas são importantes, porque nos trazem novas visões e muito aprendizado.”
- (C) “É fundamental saber perder, por mais duro que seja, embora não seja fácil lidar com derrotas e fracassos.”
- (D) “Cuida-se das integridades das canelas, mas ninguém se lembra de preservar a saúde interior [...]”

QUESTÃO 06

O quinto parágrafo permite inferir que o locutor do texto, **EXCETO**:

- (A) tem consciência do que é “estar do outro lado” no outro dia.
- (B) preocupa-se em ensinar os seus netos a respeitar a dor do próximo.
- (C) avalia os sentimentos das pessoas e se preocupa com isso.
- (D) acredita que não se deve comemorar nada exageradamente.

QUESTÃO 07

Em: “Apropriar-se de um fracasso trazendo **isso** para o lado pessoal faz sofrer mais.”, **isso** se refere a

- (A) Um fracasso.
- (B) Para o lado pessoal.
- (C) Faz sofrer mais.
- (D) Apropriar-se de um fracasso.

QUESTÃO 08

Os conectores discursivos em destaque podem ser substituídos, **sem prejuízo de sentido**, por, **EXCETO**:

- (A) “Saber perder é apenas uma prova de maturidade, **por isso** é impróprio cobrá-la das crianças [...]” (porém)
- (B) “É fundamental saber perder, por mais duro que seja, **embora** não seja fácil lidar com derrotas e fracassos.” (ainda que)
- (C) “Cuida-se das integridades das canelas, **mas** ninguém se lembra de preservar a saúde interior, o delicadíssimo equilíbrio emocional do jogador.” (no entanto)
- (D) “Aprender sobre Empatia: **sempre que** vemos atletas profissionais comemorando uma conquista, percebemos a intensidade com que pulam [...]” (quando)

QUESTÃO 09

Ao se referir aos netos como “alguns ainda muito verdinhos”, pode-se interpretar que o locutor do texto queria dizer que eles eram, **EXCETO**:

- (A) jovens.
- (B) inexperientes.
- (C) imaturos.
- (D) crianças.

QUESTÃO 10

Em: “Sempre há outra chance, Cristiano Ronaldo pode estar no **ocaso** de sua vitoriosa carreira como jogador, mas as portas estão abertas para se consagrar como técnico.”, a palavra **ocaso** pode ser substituída por

- (A) poderio.
- (B) final.
- (C) crescimento.
- (D) clímax.

QUESTÃO 11

Em: “Nossos filhos e netos podem até ficar tentados a imitá-los, mas precisamos orientá-los para que **tomem** cuidado com as celebrações exageradas, afinal de contas, no outro dia, **podemos** estar do outro lado.”, os verbos destacados estão flexionados, **respectivamente**, nos seguintes tempos:

- (A) Pretérito perfeito do indicativo – pretérito imperfeito do indicativo.
- (B) Pretérito imperfeito do indicativo – pretérito imperfeito do subjuntivo.
- (C) Presente do subjuntivo – presente do indicativo.
- (D) Futuro do presente do indicativo – futuro do subjuntivo.

QUESTÃO 12

A colocação do pronome oblíquo átono é **facultativa** em:

- (A) “Não **se** devem criar expectativas além do nosso limite [...].”
- (B) “Elas são importantes, porque **nos** trazem novas visões e muito aprendizado.”
- (C) “[...] mas as portas estão abertas para **se** consagrar como técnico.”
- (D) “[...] ainda no túnel que **os** conduz do gramado para os vestiários.”

QUESTÃO 13

Observe a placa:



Disponível em: <https://incrivel.club/admiracao-curiosidades/20-placas-com-erros-de-escrita-que-podem-deixar-confusa-ate-a-pessoa-mais-atenta-1246263/>. Acesso em 18 dez. 2022.

O uso da crase, na placa, está incorreto, pois, **EXCETO**:

- (A) o sinal indicativo de crase está invertido.
- (B) não se usa crase antes de plural.
- (C) não se usa crase antes de palavras masculinas.
- (D) a palavra “restrito”, nesse caso, não exige crase.

QUESTÃO 14

A regência verbal está correta, **EXCETO** em:

- (A) Todos aspiram uma vaga no cargo de administrador.
- (B) Temos assistido ao novo documentário.
- (C) Os rapazes visavam ao cargo de gerente.
- (D) A abelha aspira o ar puro das rosas.

QUESTÃO 15



Disponível em: <https://www.facebook.com/mulher30/> Acesso em: 18 dez. 2022.

Ao ler a tirinha, percebe-se que o que fez com que a personagem se sentisse vingada foi

- (A) o fato de a bonita estar tomando menos coca-cola.
- (B) o erro de concordância da bonita ao falar “menas”.
- (C) a bonita contar na frente de todos que parou de beber coca-cola.
- (D) a bonita beber coca-cola e ir à academia.

PROVA DE NOÇÕES DE DIREITO

QUESTÃO 16

O Deputado que apresente proposição cujo conteúdo seja atentatório aos direitos constitucionais garantidos a grupos vulneráveis, como crianças e adolescentes **sujeita-se** à seguinte **consequência**, conforme Regimento Interno da Assembleia Legislativa do Estado de Minas Gerais:

- (A) quebra de decoro parlamentar.
- (B) proteção pela imunidade material.
- (C) proteção pela imunidade formal.
- (D) exercício regular de competência.

QUESTÃO 17

No âmbito da Assembleia Legislativa do Estado de Minas Gerais, orientar os serviços administrativos, inclusive, interpretando o regulamento no que se refere aos direitos e deveres dos servidores, é **competência privativa**

- (A) do Presidente ou Vice-Presidente da Assembleia.
- (B) de comissão temática.
- (C) da Secretaria da Assembleia.
- (D) da Mesa Diretora.

QUESTÃO 18

A deliberação no processo Legislativo, por determinação Constitucional e Regimento, no que se refere à publicidade deve seguir como regra que:

- (A) sua publicidade possa ser decidida pela Assembleia Legislativa.
- (B) sua publicidade pode ser afastada pela Mesa diretora.
- (C) seja sigilosa.
- (D) seja pública.

QUESTÃO 19

O princípio da impessoalidade **proíbe** que o servidor público

- (A) use as prerrogativas do cargo para obter vantagens pessoais para si ou para terceiros.
- (B) reivindique individualmente garantias inerentes ao cargo.
- (C) recuse o cumprimento de ordens emanadas da Administração Pública, ainda que ilegais.
- (D) corrija as ilegalidades que identificar no exercício de suas funções ou de seus subordinados.

QUESTÃO 20

Sobre a Lei nº 14.133/2021, é **CORRETO** afirmar que

- (A) revoga a dispensa e a inexigibilidade de licitação.
- (B) incorpora e cria novas modalidades de licitação.
- (C) autoriza a Administração Pública a decidir segui-la ou fazer aquisições conforme sua vontade.
- (D) abole a discricionariedade dos gestores públicos.

QUESTÃO 21

Conforme a proteção conferida à pessoa pelo direito humano e fundamental à integridade física, é **CORRETO** afirmar que a interpretação atual da matéria na Constituição da República Federativa do Brasil de 1988

- (A) proíbe o uso da força em qualquer situação, pelo que seu uso sujeita o agente público à responsabilidade independentemente da motivação.
- (B) permite o uso da força, desde que a conduta a ser contida seja ilícita e a autoridade seja da área de segurança pública.
- (C) permite o uso da força por autoridade pública na proporção da necessidade, para conter ameaça a si, a terceiros ou à própria pessoa contida.
- (D) limita o uso da força apenas para policiais militares e judiciários.

QUESTÃO 22

A relação entre o Estado e a sociedade civil, no Estado de Direito, **submete-se** ao seguinte comando da legalidade:

- (A) O Estado e suas autoridades agem licitamente conforme observem o que a Lei autoriza.
- (B) A liberdade individual pode sofrer restrições por ato de autoridade sem previsão legal.
- (C) A liberdade do indivíduo perante o Estado exige autorização legal expressa.
- (D) A autoridade estatal, no exercício das funções, possui autorização para fazer tudo o que a Lei não proíba.

QUESTÃO 23

A investidura em cargo político-representativo, na atual ordem política constitucional brasileira, **exige**

- (A) voto direto, secreto, universal e periódico.
- (B) voto direto, facultativo, universal e periódico.
- (C) por consequência, a proibição de meios diretos de participação.
- (D) eleições diretas ou indiretas, a critério do Congresso Nacional.

QUESTÃO 24

O Poder Legislativo se organiza no plano estadual, conforme a Constituição da República e a Constituição do Estado de Minas Gerais, pelo sistema eleitoral definido como:

- (A) Proporcional.
- (B) Misto.
- (C) Majoritário.
- (D) Indireto.

QUESTÃO 25

Os Estados Federados, na Federação Brasileira, organizada pela Constituição da República Federativa do Brasil de 1988, possuem a seguinte **garantia institucional**:

- (A) Soberania.
- (B) Prerrogativa de separação.
- (C) Autonomia político-administrativa.
- (D) Autonomia irrestrita de auto-organização.

QUESTÃO 26

A direção administrativa do Poder Legislativo **compete** ao seguinte órgão:

- (A) Sua respectiva Mesa Diretora.
- (B) Presidência em caráter unipessoal.
- (C) Plenário da Casa legislativa.
- (D) Chefia do Poder Executivo.

QUESTÃO 27

A denominada imunidade material conferida aos Parlamentares pode ser **corretamente** definida como:

- (A) Prerrogativa que protege o parlamentar, no exercício das funções, por suas palavras, opiniões e votos.
- (B) Poder irrestrito de proferir discursos em qualquer âmbito sem sujeição à responsabilidade.
- (C) Impossibilidade de ser responsabilizado por condutas ilícitas no curso do mandato.
- (D) Garantia de foro privilegiado para fins criminais enquanto durar o mandato.

QUESTÃO 28

Acerca das Comissões Legislativas, é **CORRETO** afirmar, segundo o Regimento Interno da Assembleia do Estado de Minas Gerais:

- (A) Sua constituição compete à própria Assembleia, nos termos do seu Regimento Interno.
- (B) A constituição de Comissões Permanentes exige a aprovação de Lei, com sanção do Poder Executivo.
- (C) A composição das Comissões independe da proporção partidária.
- (D) A Assembleia possui competência para criar Comissões temporárias, mas não pode manter Comissões permanentes.

QUESTÃO 29

A reunião anual da Assembleia Legislativa do Estado de Minas **ocorre**

- (A) em sessão ordinária, sem local pré-estabelecido.
- (B) em sessão ordinária, mediante convocação, nos períodos previstos na Constituição do Estado de Minas Gerais.
- (C) em sessão ordinária, independentemente de convocação, nos períodos previstos na Constituição do Estado de Minas Gerais.
- (D) em sessão ordinária, independentemente de convocação, nos períodos definidos em cada reunião preparatória da legislatura.

QUESTÃO 30

Supondo que a Assembleia Legislativa do Estado de Minas Gerais pretenda promover modificação em funções exercidas por servidores de sua própria Administração Pública, é **CORRETO** concluir que

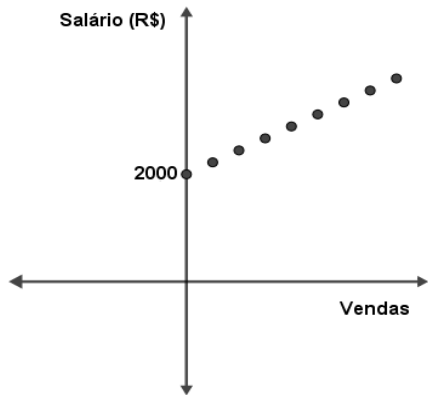
- (A) seria competência do seu Presidente;
- (B) a decisão seria ilícita porque a Assembleia não possui Administração própria.
- (C) a decisão é de sua competência, mas sujeita à sanção do Governador.
- (D) a decisão é de sua competência privativa.

PROVA DE MATEMÁTICA**QUESTÃO 31**

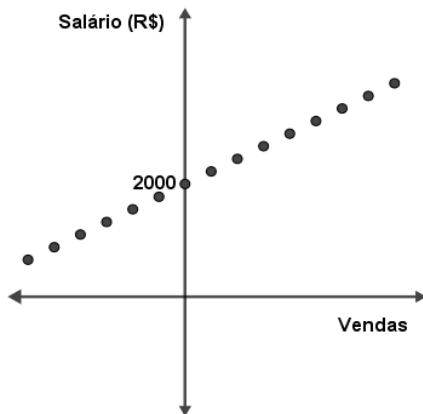
Douglas é vendedor de certa seguradora e seu salário é constituído por um valor fixo de R\$2 000,00 mensais, além de uma comissão de R\$200,00 por contrato que realiza com seus clientes (venda). Assim, seu salário varia conforme o número de vendas que ele efetua no mês.

Nessas condições, o gráfico que **MELHOR** representa o salário de Douglas em função das vendas em um mês é:

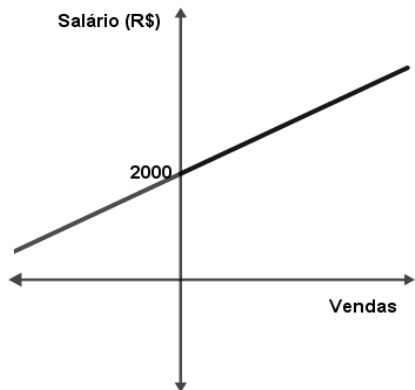
(A)



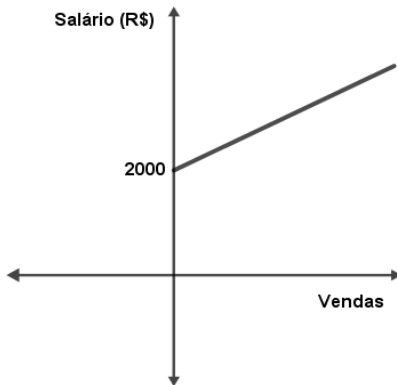
(B)



(C)



(D)



QUESTÃO 32

João realizou um empréstimo junto ao seu banco a uma taxa mensal de 1% capitalizados em relação ao mês anterior, em 12 parcelas fixas no valor de R\$ 404,00. Ele tem a possibilidade de quitar a dívida antecipadamente a qualquer momento, pagando o valor atual das parcelas ainda a pagar (sem os juros mensais). No dia exato de vencimento da décima parcela, João decide quitar a sua dívida com o banco. Solicitou ao caixa que realizasse a devida cobrança, no que foi atendido prontamente.

Sendo assim, considerando $(1,01)^2 = 1,0201$, nesse dia, qual foi o valor total pago por João?

- (A) R\$ 1.500,40;
- (B) R\$ 1.300,00;
- (C) R\$ 1.200,04;
- (D) R\$ 1.199,88.

QUESTÃO 33

Pedro foi a uma loja de roupas e comprou uma camisa com desconto de 30% sobre o valor anunciado, pagando, então, o valor de R\$ 105,00 pela camisa. Roberto, amigo de Pedro, gostou e foi à mesma loja com a intenção de comprar uma camisa idêntica; porém, a promoção havia terminado e o produto estava com o valor praticado antes da promoção. Ao optar pelo pagamento à vista, conseguiu um desconto de 9% sobre o valor praticado no momento.

Sendo assim, o valor que Roberto pagou pela camisa foi igual a:

- (A) R\$ 150,00
- (B) R\$ 136,50
- (C) R\$ 135,00
- (D) R\$ 124,21

QUESTÃO 34

Considere certa mistura feita com açúcar e água num total de 200 litros, dos quais 25% são de açúcar. A mistura ficou mais adocicada do que o desejado.

Qual a quantidade de água que deverá ser acrescentada a esta mistura para que o volume resultante venha a conter 20% de açúcar?

- (A) 250 litros.
- (B) 50 litros.
- (C) 30 litros.
- (D) 25 litros.

QUESTÃO 35

Em determinada sala, a média de idade dos 7 candidatos presentes era de 19 anos. Um desses candidatos, com 25 anos de idade, se enganou de sala e precisou ser remanejado para a sala correta. Em seu lugar, entrou outro candidato, com 18 anos de idade, que também havia se enganado e estava em outra sala.

Sendo assim, pode-se concluir que a **nova média** de idade do grupo, em relação à média inicial

- (A) diminuiu exatamente 1 ano.
- (B) diminuiu em menos de um ano.
- (C) aumentou pouco mais de um ano.
- (D) aumentou exatamente 1 ano.

QUESTÃO 36

Pedro e Marta discutiam sobre a prova de matemática de certo concurso. Uma das questões apresentava o seguinte enunciado:

“O número $N = 2^x \cdot 4^3 \cdot 5^4$ possui 80 divisores naturais. Qual é o valor de x ?”

Marta prontamente respondeu: “Simples, basta adicionar 1 aos expoentes e, em seguida, multiplicá-los. Assim, o valor de x será igual a 3.”

De acordo com o diálogo acima, é **CORRETO** afirmar:

- (A) Marta não respondeu corretamente, pois o valor de x é 12.
- (B) Marta não respondeu corretamente já que o valor correto de x é 9.
- (C) Marta não respondeu corretamente ao somar 1 aos expoentes. O correto seria subtrair 1 dos expoentes e multiplicá-los, encontrando, aproximadamente, 12 como valor correto para x .
- (D) Marta estava correta, já que o valor de x é 3.

QUESTÃO 37

Observe a seguinte sequência de ações a serem executadas exatamente na ordem proposta e responda:

- Encha um balde com 2 litros de água;
- Despeje toda a água contida no balde em um tanque inicialmente vazio;
- Encha novamente o balde com $0,0000036 \text{ dam}^3$ de água e despeje tudo no tanque;
- Retire 6 decilitros da água contida no tanque.
- Encha o balde com 1600 ml de água e, em seguida, despeje a metade no tanque.

Após todos os procedimentos realizados, exatamente na ordem proposta, o volume de água que estará no tanque, **em dm³**, será igual a

- (A) 0,058.
- (B) 0,58.
- (C) 5,8.
- (D) 580.

QUESTÃO 38

Determinada pesquisa foi realizada com adolescentes de certa região com o objetivo de detectar preferências de acessos na internet. Observou-se que, dos entrevistados

40% dos entrevistados preferem canais que oferecem conteúdos de política;
55% dos entrevistados preferem canais que oferecem conteúdos de humor;
35% preferem canais que oferecem conteúdo religioso;
12% preferem canais que oferecem conteúdos de política e de humor;
15% preferem canais que oferecem conteúdos de política e religioso;
19% preferem canais que oferecem conteúdos de humor e religioso;
7% preferem canais que oferecem conteúdos de política, humor e religioso;
135 pessoas não têm preferência por quaisquer um desses assuntos.

Desejando-se fazer um levantamento estatístico, qual o número de pessoas que preferem canais que oferecem **apenas** conteúdo de humor?

- (A) 1.500
- (B) 825
- (C) 465
- (D) 31

QUESTÃO 39

Max recebe, mensalmente, seu salário na empresa em que trabalha e resolveu poupar, mensalmente, parte de seu dinheiro, de maneira que guardasse valores obedecendo a uma determinada sequência em **progressão aritmética**.

Após alguns cálculos, ele constatou que, ao somar o valor poupado no 11º mês com o valor poupado no 19º mês, resultará um montante de R\$ 480,00. Se somar apenas os valores poupados no 7º e no 15º mês, terá um montante de R\$ 360,00.

Sendo assim, qual será o **total poupado** por ele ao final de 20 meses?

- (A) R\$ 6.015,00
- (B) R\$ 3.450,00
- (C) R\$ 3.400,00
- (D) R\$ 315,00

QUESTÃO 40

Na sequência **ASSEMBLEIAASSEMBLEIAASSEMBLEIA...**, a 123ª letra será

- (A) S
- (B) L
- (C) E
- (D) A

PROVA DE RACIOCÍNIO LÓGICO

QUESTÃO 41

No universo dos números naturais, consideram-se duas propriedades:

p : n é um número natural múltiplo de 3 e q : n é um número natural ímpar tal que $9 \leq n \leq 21$.

Nessas condições, é **CORRETO** afirmar que a relação de implicação lógica entre as propriedades p e q é:

- (A) $p \Leftrightarrow q$
- (B) $q \Rightarrow p$
- (C) $p \Rightarrow q$
- (D) $\sim p \Rightarrow q$

QUESTÃO 42

O quadro a seguir apresenta as vinte e seis letras do alfabeto e quatro caracteres que foram utilizados para compor senhas de segurança formadas por cinco letras ordenadas por um critério lógico e um caractere.

A - B - C - D - E - F - G - H - I - J - K - L - M - N - O - P - Q - R - S - T - U - V - W - X - Y - Z			
@	*	&	#

Nessas condições, é **CORRETO** afirmar que a senha que obedece ao mesmo critério da senha **ZVRNJ #** é:

- (A) UQAIE#
- (B) RNJFB @
- (C) KGKOS&
- (D) AWIMQ*

QUESTÃO 43

Considerando os argumentos lógicos:

- I. Alguns nordestinos são pobres. Alguns pobres são mendigos. Logo, todos os nordestinos são mendigos.
- II. Todos os franceses são europeus. Jean-Paul Sartre foi um filósofo francês. Logo, Jean-Paul Sartre era europeu.
- III. Todo fluminense é brasileiro e todo niteroiense é fluminense. Então todo niteroiense é brasileiro.

É **CORRETO** afirmar que:

- (A) I e III são argumentos válidos.
- (B) I e II são argumentos válidos.
- (C) II e III são argumentos válidos.
- (D) Apenas III é um argumento válido.

QUESTÃO 44

No universo dos números naturais, consideram-se duas propriedades p e q :

p : n é um número natural primo e q : o número natural n possui somente os divisores 1 e n .

Nessas condições, é **CORRETO** afirmar que a relação de implicação lógica entre as propriedades p e q é:

- (A) $p \Leftrightarrow q$
- (B) $p \Rightarrow q$
- (C) $\sim q \Rightarrow p$
- (D) $\sim p \Rightarrow q$

QUESTÃO 45

Considere as tabelas-verdade I, II e III a seguir:

TABELA I							
p	q	$p \wedge q$	$\sim(p \vee q)$	$\sim p$	$\sim q$	$\sim p \vee \sim q$	$\sim(p \wedge q) \Leftrightarrow (\sim p \vee \sim q)$
V	V	V	F	F	F	F	V
V	F	F	V	F	V	V	V
F	V	F	V	V	F	V	V
F	F	F	V	V	V	V	V

TABELA II						
p	q	$\sim p$	$\sim q$	$p \wedge \sim q$	$\sim p \vee q$	$(p \wedge \sim q) \Leftrightarrow (\sim p \vee q)$
V	V	F	F	V	F	F
V	F	F	V	V	F	F
F	V	V	F	F	V	F
F	F	V	V	V	F	F

TABELA III			
p	q	$p \vee q$	$p \vee q \Leftrightarrow p$
V	V	V	V
V	F	V	V
F	V	F	F
F	F	V	V

É **CORRETO** afirmar que:

- (A) A tabela I representa uma tautologia.
- (B) A tabela I representa uma contradição.
- (C) As tabelas I e III representam uma contradição.
- (D) As tabelas II e III representam uma tautologia.

QUESTÃO 46

Uma loja vende conjuntos de talheres cujos preços variam conforme a tabela abaixo.

MODELO CONJUNTO	FACAS	COLHERES	GARFOS	PREÇO (R\$)
1	1	2	3	23,00
2	2	5	6	49,00
3	2	3	4	35,00

De acordo com as informações dessa tabela, é **CORRETO** afirmar que o preço unitário da colher é igual a:

- (A) R\$ 8,00
- (B) R\$ 6,00
- (C) R\$ 4,00
- (D) R\$ 3,00

QUESTÃO 47

Na tabela abaixo, o número da extrema direita é o resultado de operações efetuadas com os outros dois números e a sucessão de operações é a mesma nas três linhas.

9	7	25
7	8	22
8	9	X

Se tais operações envolvem somente a adição e a multiplicação de números reais, então é **CORRETO** afirmar que o valor de **X** nessa tabela é igual a:

- (A) 28
- (B) B
- (C) 17
- (D) 16

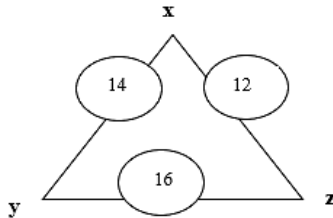
QUESTÃO 48

Se $a < b$ então $c > d$. Se $c > d$, então $f < a$. Ora, $a < b$, logo é **CORRETO** concluir logicamente que:

- (A) $f > b$
- (B) $f < b$
- (C) $b > c$
- (D) $a > d$

QUESTÃO 49

No triângulo da figura a seguir, os vértices são marcados com números reais inteiros. Os números circulosados nessa figura correspondem à soma dos valores que estão nos vértices e que determinam a medida do respectivo lado desse triângulo.



Nessas condições, é **CORRETO** afirmar que:

- (A) $y + z - x = y$
- (B) $y + z - x = x$
- (C) $x + y - z = z$
- (D) $x - y + z = z$

QUESTÃO 50

Considerando a sentença p : “todos os homens são bons calculistas”, então é **CORRETO** afirmar que a negação de p é a sentença:

- (A) Todos os homens são maus calculistas.
- (B) Todas as mulheres são boas calculistas.
- (C) Pelo menos um homem é mau calculista.
- (D) Nenhum homem é bom calculista.

PROVA DISCURSIVA DE LÍNGUA PORTUGUESA – INTERPRETAÇÃO DE TEXTO

1. **Não** será corrigida a questão discursiva que:

- a) for respondida **a lápis**, em parte ou na sua totalidade;
- b) apresentar **letra ilegível**.

2. As respostas das questões discursivas deverão ser transcritas para a folha própria, **em letra legível**, usando caneta esferográfica azul ou preta.

3. As folhas de respostas das provas discursivas não poderão ser assinadas ou rubricadas, nem poderão conter em qualquer local, que não o indicado, qualquer palavra, sinal, expressão ou marca que possibilite a identificação do candidato, sob pena de eliminação.

4. Sua resposta não poderá exceder o espaço de 15 linhas.

QUESTÃO DISCURSIVA 01

Leia o trecho abaixo, extraído do texto “Aprender com as derrotas”.

“Talvez por estar acompanhando os jogos da Copa do Mundo do Catar em casa, com a família, incluindo os netos, alguns ainda muito verdinhos, entre tantas imagens emocionantes nas arenas e seus arredores, uma delas marcou-me muito: a do excelente goleiro da Polônia Wojcech Szczesny (Ufa!!!), que, depois de defender um pênalti cobrado por Messi, saiu de campo derrotado, necessitando em seguida consolar o filho pequeno, ainda no túnel que os conduz do gramado para os vestiários. Nesse caso, a derrota veio logo depois da glória.

Quem está preparado para as derrotas? Quem não sofre com elas?”

Responda às perguntas acima, **justificando** cada uma delas com **argumentos consistentes**.

RASCUNHO DA QUESTÃO DISCURSIVA 01

01
02
03
04
05
06
07
08
09
10
11
12
13
14
15

QUESTÃO DISCURSIVA 02

Leia o trecho abaixo, extraído do texto “Aprender com as derrotas”.

“Aprender sobre Empatia: sempre que vemos atletas profissionais comemorando uma conquista, percebemos a intensidade com que pulam, gritam para mostrar que, enfim, conquistaram algo bastante almejado. Mas como se sente o rival derrotado, vendo tudo aquilo?”

Responda: O que é empatia, a partir desse trecho? **JUSTIFIQUE** sua resposta com **argumentos consistentes**.

RASCUNHO DA QUESTÃO DISCURSIVA 02

01
02
03
04
05
06
07
08
09
10
11
12
13
14
15

CONCURSO PÚBLICO PARA PROVIMENTO DE CARGOS DO QUADRO DE PESSOAL DA SECRETARIA DA ASSEMBLEIA LEGISLATIVA DO ESTADO DE MINAS GERAIS

EDITAL 01/2022

PARA VOCÊ DESTACAR E CONFERIR O SEU GABARITO.

01	
02	
03	
04	
05	
06	
07	
08	
09	
10	

11	
12	
13	
14	
15	
16	
17	
18	
19	
20	

21	
22	
23	
24	
25	
26	
27	
28	
29	
30	

31	
32	
33	
34	
35	
36	
37	
38	
39	
40	

41	
42	
43	
44	
45	
46	
47	
48	
49	
50	

**ATENÇÃO:
AGUARDE AUTORIZAÇÃO PARA
VIRAR O CADERNO DE PROVAS.**

