

Prezado(a) candidato(a):

Assine e coloque seu número de inscrição no quadro abaixo. Preencha, com traços firmes, o espaço reservado a cada opção na folha de resposta.

Nº de Inscrição

Nome

**PROVA DE LÍNGUA PORTUGUESA
ENSINO FUNDAMENTAL INCOMPLETO**

Liberdade

A palavra liberdade, *eleutheria*, conforme a etimologia grega, significava liberdade de movimento. Tratava-se de uma possibilidade do corpo, não considerada como um dado da consciência ou do espírito. Liberdade também teve como significado ausência de limitações e coações. A palavra alemã *Freiheit* (liberdade) tem origem histórica nos vocábulos *freihals* ou *frihals*. Ambos significavam “pescoço livre” (*frei Hals*), livre dos grilhões mantidos nos escravos.

Na Antiguidade, a liberdade era uma qualidade do cidadão, do homem considerado livre na estrutura da polis. A expressão da liberdade era sobretudo política. Estava mais próxima do *status libertatis*, adquirido entre privilégios estamentais. Os antigos não conheciam a liberdade individual como autonomia ou determinação.

Poder e liberdade eram palavras praticamente sinônimas. Compreendia-se a liberdade como o poder de se movimentar sem impedimentos, seja em razão da debilidade do corpo, seja em razão da necessidade ou mesmo em razão do impedimento oposto por ordem de um senhor. O “eu posso” era mais representativo do que o “eu quero”.

O acréscimo da liberdade com um dado da consciência pode ser historicamente visualizado com a descoberta da interioridade humana, região íntima responsável por determinar o modo de ser de cada um e a projeção que cada qual tem para o seu futuro. Muito tempo se passou até que a liberdade deixasse de indicar um status político, ou uma circunstância aleatória de não impedimento e passasse a incorporar em

seu significado uma disposição interior, uma qualidade íntima que prescindia do agir, um querer desvinculado do poder. (...)

Enquanto a liberdade dos antigos era desdobramento da confluência entre religião e política, a liberdade dos modernos foi considerada a partir da dissociação de ambas. Ao mesmo tempo em que os antigos podiam decidir sobre a paz e a guerra, julgar magistrados e superiores, eram, em contraste, no plano privado, submetidos a vigilância severa. E, sem liberdade de crença, opinião ou ação, sujeitavam-se à autoridade do conjunto. Despojados da dignidade, podiam ser banidos ou condenados à morte. A liberdade dos modernos, de seu lado, foi considerada como autonomia, para impedir a vontade arbitrária de um ou de vários indivíduos sobre uma individualidade. Foi focalizada para estabelecer limites de interferência do Estado na vida individual. Em desdobramento, reconheceu-se um direito individual de se submeter apenas à lei, de não ser preso, morto ou maltratado. (...)

No âmbito de cada nação, tem sido discutida com frequência a necessidade de se reconhecer autonomia individual e capacidade para fazer valer direitos (*status activus processualis*), garantindo-se informação, participação, impugnação de decisões e de atos lesivos à liberdade, a toda pessoa, independentemente de qualidades pessoais, tais como raça, sexo, idade, nacionalidade e da situação jurídica em que se encontre. Tudo isso, a fim de que a compreensão do ser humano na sua individualidade seja revigorada. O aspecto subjetivo da liberdade, muitas vezes neutralizado, subestimado e não materializado quando a liberdade é concebida em termos coletivos, deve ser necessariamente enfatizado. (...)

A discussão sobre a liberdade segue caminhos tortuosos, em movimentos nunca estabilizados. Não é questão acabada. Há dificuldade de delimitação entre a liberdade entendida como não impedimento e a liberdade entendida como expressão da vontade comum. Ambas não prescindem da autonomia e capacidade de autodeterminação. Daí a dificuldade de determinação do âmbito de proteção, de tutela da liberdade. Preocupações existem quanto à preservação da liberdade de ação subjetiva, segundo valores e interesses próprios, um espaço que a ninguém cabe interferir. Outro questionamento fundamental diz com fórmulas invasivas de proteção. Até que ponto e sob quais fundamentos controles, condicionamentos e manipulações podem ser utilizados para impelir o fazer e influenciar no modo de ser?

QUESTÃO 01

Pelo que se depreende da leitura do texto e com base em seus conhecimentos, a palavra **etimologia** significa:

- a) origem e evolução de um vocábulo.
- b) dificuldade de compreensão dos significados.
- c) estudo do grego.
- d) estudo das possibilidades do corpo humano.

QUESTÃO 02

Observe o conceito abaixo:

“Metalinguagem: linguagem (natural ou formalizada) que serve para descrever ou falar sobre uma outra linguagem, natural ou artificial. [As línguas naturais podem ser usadas como sua própria metalinguagem.]”

(verbete extraído do Dicionário Houaiss da Língua Portuguesa, p.1908, RJ: 2004)

Todas as passagens abaixo **exemplificam o recurso à metalinguagem, EXCETO:**

- a) “A palavra liberdade, eleutheria, conforme a etimologia grega, significava liberdade de movimento.”
- b) “Liberdade também teve como significado ausência de limitações e coações.”
- c) “A palavra alemã Freiheit (liberdade) tem origem histórica nos vocábulos freihals ou frihals. Ambos significavam “pescoço livre” (frei Hals)...”.
- d) “A discussão sobre a liberdade segue caminhos tortuosos, em movimentos nunca estabilizados.”

Releia atentamente o fragmento para responder às questões 3 e 4:

“A liberdade dos modernos, de seu lado, foi considerada como autonomia, para impedir a vontade **arbitrária** de um ou de vários indivíduos sobre uma **individualidade**. Foi **focalizada** para estabelecer limites de **interferência** do Estado na vida individual. Em desdobramento, reconheceu-se um direito individual de se submeter apenas à lei, de não ser preso, morto ou maltratado.”

QUESTÃO 03

A interpretação **INCORRETA** sobre ele é:

- a) Liberdade, modernamente, é poder fazer tudo o que se deseja.
- b) Liberdade é sinônimo de autonomia, isto é, autorregulação.
- c) Liberdade é antônimo de se submeter à vontade arbitrária de outros.
- d) Liberdade pressupõe respeito a certas regras.

QUESTÃO 04

Assinale a opção que traz a afirmação **INCORRETA**, considerando os itens destacados do fragmento acima:

- a) No fragmento, “focalizada” equivale a “destacada”, “salientada”.
- b) O item “arbitrária” é sinônima de “abusiva”, “sem fundamento legal”.
- c) Interferência é substantivo correspondente a “intervenção”, “intromissão”
- d) O substantivo “individualidade” é sinônimo de “egocentrismo”, “egoísmo”.

QUESTÃO 05

Leia atentamente as afirmações abaixo e marque a **INCORRETA**:

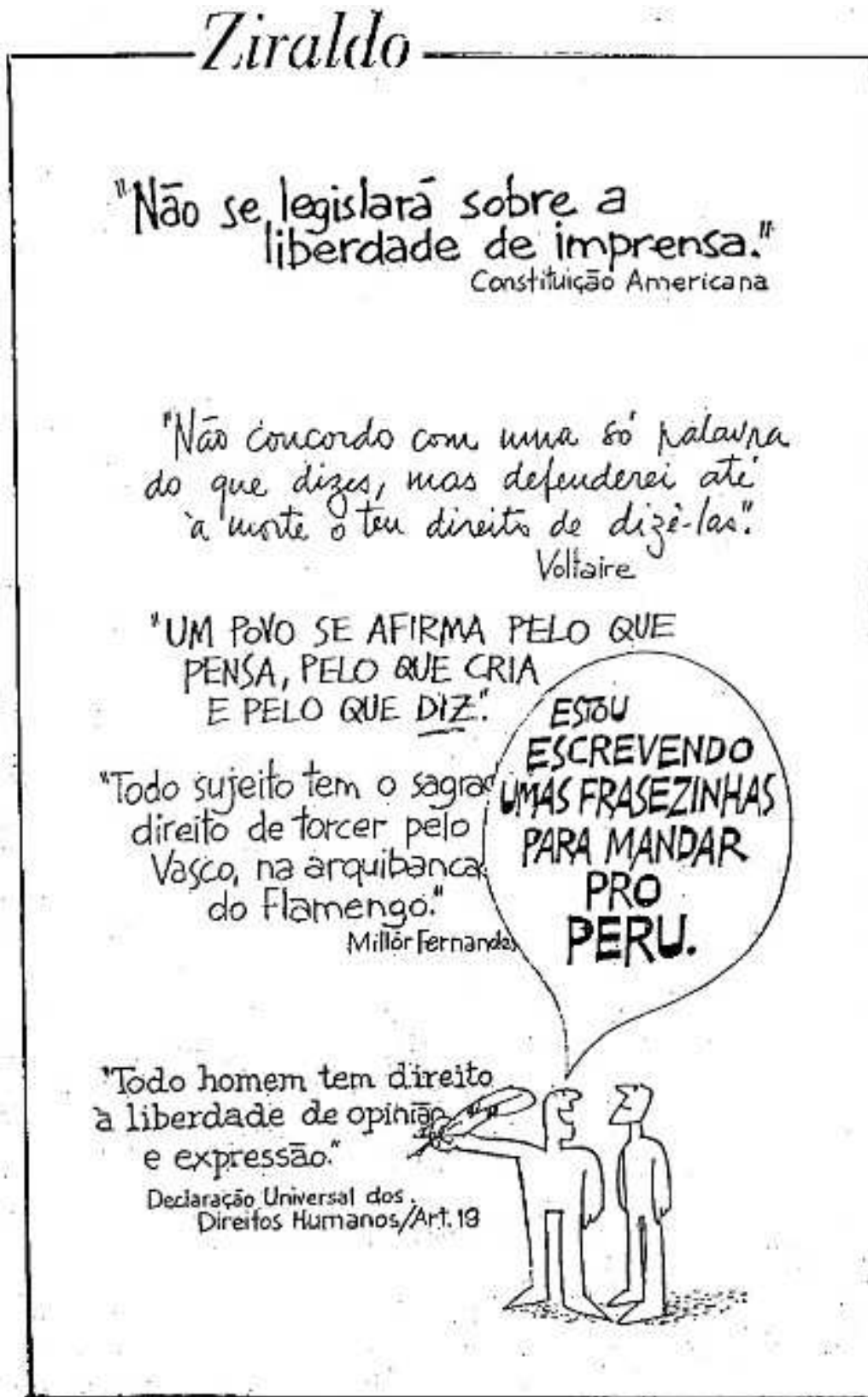
- a) No segundo parágrafo, percebe-se que o sentido de liberdade era considerado coletivamente, não se restringindo ao indivíduo.
- b) Há um consenso, atualmente, sobre o significado da palavra liberdade entre os cidadãos modernos.
- c) Poder e liberdade eram sinônimos porque ser livre equivalia a “eu posso” – seja no âmbito físico, material ou emocional – e não apenas “eu quero”.
- d) O autor do texto mostra que as palavras têm sentidos culturalmente definidos, variando com o passar do tempo.

QUESTÃO 06

Assinale a opção em que apareçam palavras cuja divisão silábica esteja **INCORRETA**:

- a) con – flu – ên – cia; sub – me – ti – dos
- b) co – a – ção; a – crés – ci – mo
- c) pri – vi – lé – gi – os; a – lea – tó – rio
- d) cir – cuns – tân – cia; ne – ces – si – da – de

Leia atentamente o texto II, abaixo, para responder às questões 07 a 10:



(disponível em <http://ziraldo.blogtv.uol.com.br/2009/08/13/a-charge-no-tempo--a-liberdade-de-imprensa>)

QUESTÃO 07

Atente para o texto acima. Assinale a afirmação **INCORRETA** sobre ele:

- a) Após cada frase, aparece a explicitação da fonte de onde foi retirada ou do autor da mesma.
- b) Todas as frases citadas apresentam uma conotação séria, grave, e incitam à reflexão.
- c) Ao citar o nome do Peru, país vizinho ao Brasil, infere-se haver, lá, no momento em que a charge foi produzida, o enfrentamento de problemas relativos ao cerceamento da liberdade.
- d) A segunda frase transcrita dá a entender que o respeito deve prevalecer até sobre a concordância de opiniões.

QUESTÃO 08

Foram tomadas para análise algumas das frases que constituem a charge de Ziraldo. A interpretação está **CORRETA** em:

- a) “Um povo se afirma pelo que pensa, pelo que cria e pelo que diz.”
→ O que as pessoas dizem é mais importante do que aquilo que fazem.
- b) “Todo sujeito tem o sagrado direito de torcer pelo Vasco, na arquibancada do Flamento.” → O Vasco é um time de futebol com uma torcida numericamente tão superior à do Flamengo que Millôr o considera sagrado.
- c) “Não se legislará sobre a liberdade de imprensa”. → Somente uma imprensa livre de mordidas assegura a liberdade de expressão dos cidadãos.
- d) “Não concordo com uma só palavra do que dizes, mas defenderei até a morte o teu direito de dizê-las.” → O enunciador insinua que dizer o que se pensa sempre provoca divergências, conflitos e até a morte.

QUESTÃO 09

Assinale a afirmativa **CORRETA** sobre a fala da personagem:

“Estou escrevendo umas frasezinhas pra mandar pro Peru.”

- a) O item “frasezinhas” tem conotação pejorativa.
- b) A oração acima não tem sujeito.
- c) É inadequado o uso do gerúndio e das contrações de preposições (pra e pro), considerando o registro empregado.
- d) O uso do artigo “umas” dá um tom de indefinidade, imprecisão, à referência feita.

QUESTÃO 10

Atente para as escolhas feitas e a explicação dada:

- I. “Não se legislará sobre a liberdade de imprensa”. → sujeito indeterminado; dá caráter de maior generalidade.
- II. “Todo sujeito tem o sagrado direito...” → o uso do substantivo “sujeito” dá um tom informal, coloquial, ao enunciado.
- III. “Um povo se afirma pelo que pensa.” → o uso do artigo indefinido introduz a ideia de generalização, ou seja, a informação vale para qualquer povo.
- IV. “Todo homem tem direito a liberdade...” → sem o artigo entre o pronome e o substantivo, dá-se a ideia de inteiro; deveria ser “todo o homem”, com o sentido de qualquer um.

Estão **CORRETAS** as afirmações:

- a) apenas I, II e III.
- b) apenas II, III e IV.
- c) apenas I, III e IV.
- d) I, II, III e IV.

PROVA DE MATEMÁTICA
ENSINO FUNDAMENTAL INCOMPLETO

QUESTÃO 11

Em São José dos Campos, estado de São Paulo, localiza-se uma fábrica de aviões da EMBRAER. Uma encomenda de aviões Tucano deve ser enviada para a Europa, através do porto de Santos, então foi contratada a transportadora GWK.

A transportadora GWK vai transportar os motores dos aviões através de 4 frotas de caminhões, todos carregados com 12 motores. A 1ª frota será composta de 20 caminhões, a segunda com 18, a terceira com 15 e a última com 10 caminhões.

Quantos motores serão exportados no porto de Santos pela transportadora GWK?

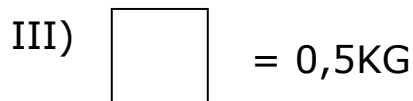
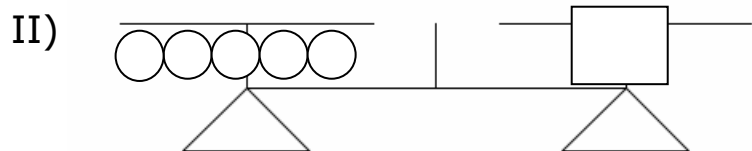
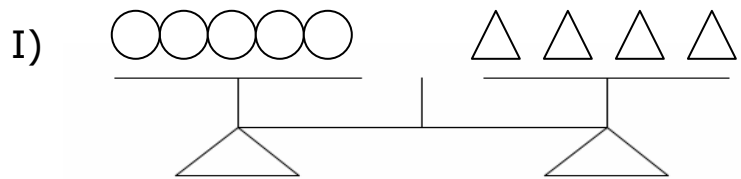
- a) $(20 + 18 + 15) \times 10 \times 4 =$
- b) $(20 + 18) \times 15 \times 10 + 4 =$
- c) $(20 + 18 + 15 + 10) \times 4 =$
- d) $(20 + 18 + 15 + 10) \times 12 =$

QUESTÃO 12

Na figura abaixo, podemos observar uma balança de pratos. Existem algumas equivalências de massas de objetos e medidores de massa do sistema internacional de medidas, o MKS (metro-quilograma-segundo). Sabe-se que um quilograma equivale a 1000 gramas = 1000g.

Assim sendo, podemos dizer que a massa de cada triângulo equivale a:

- a) 125 kg
- b) 12,5 kg
- c) 125 g
- d) 1,25 g

**QUESTÃO 13**

Através de uma pesquisa ao site: www.ibge.gov.br em 12/12/ 2009, foi verificado que, conforme dados do último censo demográfico de 2003, a população de Minas Gerais correspondia a aproximadamente a 1/ 10 da população do Brasil; e a população de Governador Valadares é aproximadamente 1/100 da população de Minas Gerais.

De acordo com as informações acima, podemos dizer que a população de Governador representa que fração da população do Brasil?

- a) 1/ 10
- b) 1/ 100
- c) 1/ 1000
- d) 1/ 10000

QUESTÃO 14

Na loja Ricardo Vende-Tudo, uma televisão tela plana de 46' é vendida por R\$ 2.800,00. Se o pagamento for feito à vista, o comprador terá um desconto de 8%.

Na loja Ponto Quente, a televisão de tela plana de 46' da mesma marca e modelo, é vendida por R\$ 3.100,00; se for vendida à vista, terá um desconto de 10,5%.

Qual é a loja que tem o menor preço para uma compra à vista da televisão e qual é esse preço?

- a) R\$ 2.756,00, na loja Ricardo Vende-Tudo.
- b) R\$ 2.576,00, na loja Ricardo Vende-Tudo.
- c) R\$ 2.774,50, na loja Ponto Quente.
- d) R\$ 2.756,00, na loja Ponto Quente.

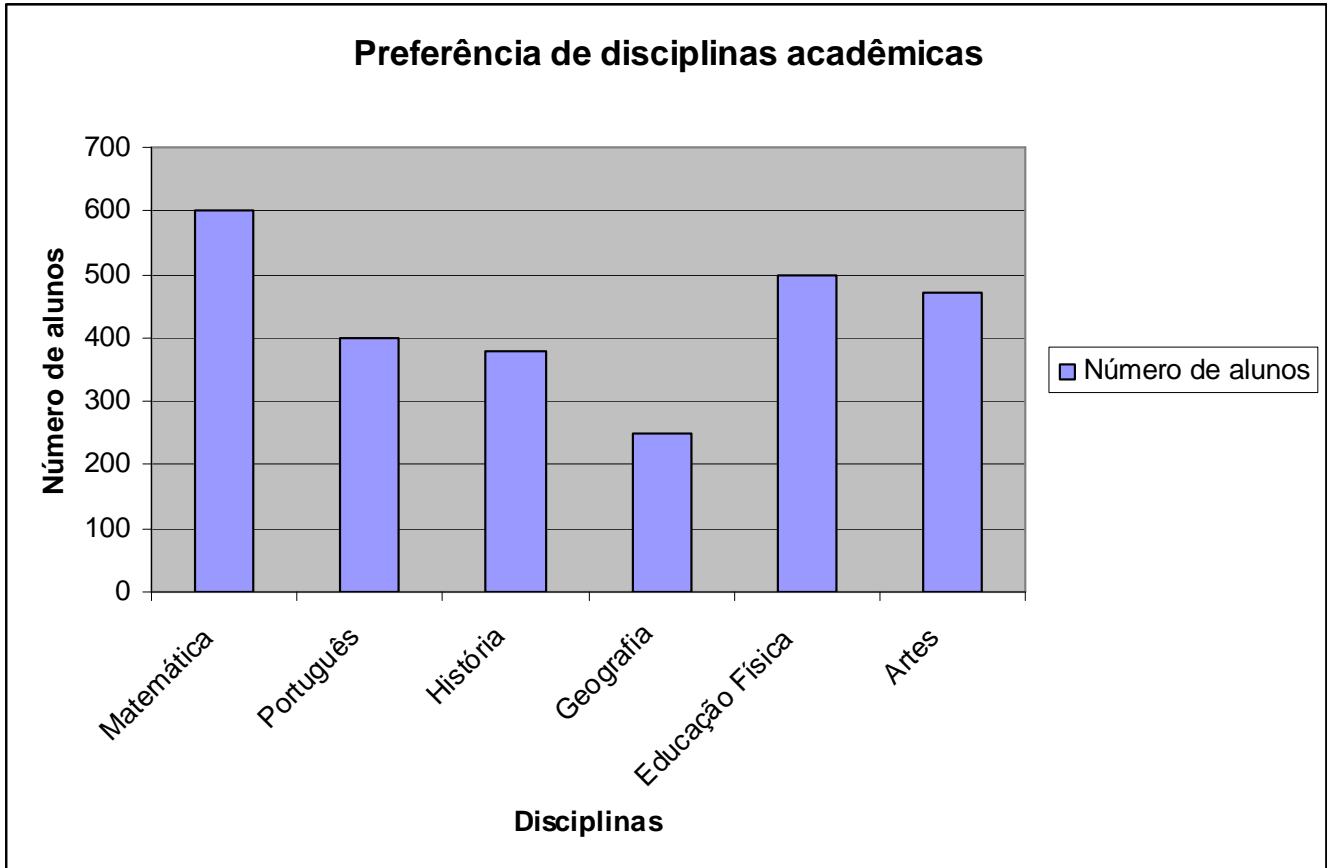
QUESTÃO 15

Mariana Valadares foi à Papelaria "Nossa Escola, Nossa Vida", para comprar objetos escolares necessários para seus três filhos. Comprou nessa ocasião 12 lápis pretos nº 02, no valor de R\$1,32 cada, 5 caixas de lápis de cor, no valor de R\$ 8,46 cada, 18 cadernos por R\$ 5,95. Se Mariana pagar em três parcelas iguais mensais de R\$ 40,00, qual deverá ser o valor da entrada à vista a ser paga no ato da compra?

- a) R\$ 45,34
- b) R\$ 65,34
- c) R\$ 35,34
- d) R\$ 55,34

QUESTÃO 16

Os alunos da região rural do vale do Jequitinhonha participaram de uma pesquisa sobre preferência acadêmica, ou seja, qual é a matéria escolar que mais gostaram de estudar durante o ano de 2007. O resultado da pesquisa está representado no seguinte gráfico de colunas:



De acordo com os dados organizados no gráfico, assinale a alternativa **CORRETA**:

- a) A matéria de menor preferência é História.
- b) Educação Física é preferida por 400 alunos.
- c) Geografia é preferida por três centenas de alunos.
- d) Matemática é preferida por mais que o dobro dos que preferem Geografia.

QUESTÃO 17

Dados os conjuntos:

$A = \{\text{vogais da palavra MATEMÁTICA}\}$

$B = \{\text{vogais}\}$

$C = \{\text{Consoantes da palavra HISTORIA}\}$

$D = \{a, e, i, h, t\}$

O conjunto M formado por $(A \cup D) - (B \cap D)$ é:

- a) $\{H, T\}$
- b) $\{M, T, C\}$
- c) $\{H, I, E\}$
- d) $\{M, H, S\}$

QUESTÃO 18

Márcia Casalimpa pretende reformar seu apartamento, e vai começar pela cozinha. A cozinha é retangular de dimensões iguais a 3,0m por 4,0m. Se cada lajota tem dimensões iguais a 20 por 30 cm, cada caixa de lajotas contém 24 unidades e custa R\$33,60. Quanto Márcia pagará para comprar todas as lajotas para a sua cozinha, sabendo-se que o valor da unidade **não se altera** se vendida separadamente?

- a) R\$ 140,00
- b) R\$ 280,00
- c) R\$ 1400,00
- d) R\$ 2.800,00

QUESTÃO 19

Na cidade de Conselheiro Pena, existem dois candidatos a prefeito. Um pelo partido AMBIENTAL, outro pelo partido ESPORTISTA. Sabe-se que foi feita uma pesquisa de opinião pública, com 1200 eleitores; 300 deles não quiseram opinar, 650 opinaram pelo 1º partido e 400 opinaram pelo 2º partido. Quantos eleitores optaram pelos dois partidos ao mesmo tempo?

- a) 300
- b) 200
- c) 150
- d) 450

QUESTÃO 20

O máximo divisor comum entre dois números naturais é igual a 6 e o produto entre os números dados é 1080. Qual é a fração própria formada entre o MDC e o MMC dos números dados?

a) $\frac{30}{108}$

b) $\frac{6}{108}$

c) $\frac{6}{1080}$

d) $\frac{1}{30}$